

Вариант № 6215871

1. Задание 1 № 17319

Вычислите значение выражения $82_{16} + 1E_{16}$. Ответ запишите в десятичной системе счисления.

2. Задание 2 № 13613

Логическая функция F задаётся выражением $\neg x \wedge y \wedge (z \rightarrow w)$.

На рисунке приведён фрагмент таблицы истинности функции F , содержащий все наборы аргументов, при которых функция F истинна.

Определите, какому столбцу таблицы истинности функции F соответствует каждая из переменных w, x, y, z .

Переменная 1	Переменная 2	Переменная 3	Переменная 4	Функция
???	???	???	???	F
1	0	0	0	1
1	0	1	0	1
1	0	1	1	1

В ответе напишите буквы w, x, y, z в том порядке, в котором идут соответствующие им столбцы (сначала – буква, соответствующая первому столбцу; затем – буква, соответствующая второму столбцу, и т. д.). Буквы в ответе пишите подряд, никаких разделителей между буквами ставить не нужно.

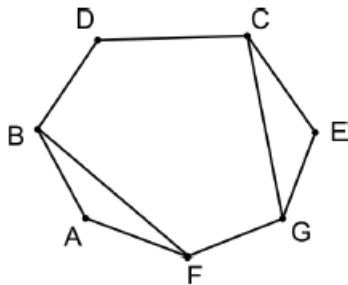
Пример. Пусть задано выражение $x \rightarrow y$, зависящее от двух переменных x и y , и таблица истинности:

Переменная 1	Переменная 1	Функция
???	???	F
0	0	1
0	1	0
1	0	1
1	1	1

Тогда первому столбцу соответствует переменная y , а второму столбцу соответствует переменная x . В ответе нужно написать: yx .

3. Задание 3 № 16030

На рисунке слева изображена схема дорог Н-ского района, в таблице звёздочкой обозначено наличие дороги из одного населённого пункта в другой. Отсутствие звёздочки означает, что такой дороги нет.



	1	2	3	4	5	6	7
1					*	*	
2			*	*			*
3		*			*		*
4		*				*	
5	*		*			*	
6	*			*	*		
7		*	*				

Каждому населённому пункту на схеме соответствует его номер в таблице, но неизвестно, какой именно номер. Определите, какие номера населённых пунктов в таблице могут соответствовать населённым пунктам В и С на схеме. В ответе запишите эти два номера в возрастающем порядке без пробелов и знаков препинания.

4. Задание 4 № 5893

Ниже представлены две таблицы из базы данных. Каждая строка таблицы 2 содержит информацию о ребёнке и об одном из его родителей. Информация представлена значением поля ID в соответствующей строке таблицы 1. Определите на основании приведённых данных ID племянника Брамс Т. А.

Пояснение: племянником считается сын брата или сестры.

Таблица 1			Таблица 2	
ID	Фамилия_И.О.	Пол	ID_Родителя	ID_Ребенка
16	Окуло И.М.	Ж	26	27
26	Котий А.В.	М	46	27
27	Котий В.А.	М	27	28
28	Котий В.В.	М	66	28
36	Брамс Т.А.	Ж	26	36
37	Брамс Б.Г.	Ж	46	36
38	Брамс Г.Г.	М	36	37
46	Щука А.С.	Ж	38	37
47	Щука В.А.	М	16	38
48	Ващенко К.Г.	Ж	36	48
49	Ващенко И.К.	М	38	48
56	Рисс Н.В.	Ж	27	56
66	Мирон Г.В.	Ж	66	56

5. Задание 5 № 1121

Для передачи по каналу связи сообщения, состоящего только из символов А, Б, В и Г, используется посимвольное кодирование: А-00, Б-11, В-010, Г-011. Через канал связи передаётся сообщение: ВБГАГВ. Закодируйте сообщение данным кодом. Полученное двоичное число переведите в шестнадцатеричный вид.

6. Задание 6 № 5869

У исполнителя Квадратор две команды, которым присвоены номера:

1. возведи в квадрат,
2. прибавь 1.

Первая из них возводит число на экране в квадрат, вторая увеличивает его на 1. Запишите порядок команд в программе, которая преобразует число 1 в число 17 и содержит не более 4 команд. Указывайте лишь номера команд. (Например, программа 2122 — это программа

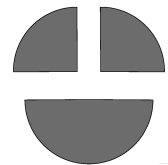
прибавь 1,
возведи в квадрат,
прибавь 1,
прибавь 1.

Эта программа преобразует число 1 в число 6.)

7. Задание 7 № 5903

Дан фрагмент электронной таблицы:

	A	B	C
1		3	2
2	$=(A1-6)/B1$	$=A2+C1$	$=A2$



Какое целое число должно быть записано в ячейке A1, чтобы построенная после выполнения вычислений диаграмма по значениям диапазона ячеек A2:C2 соответствовала рисунку?

Известно, что все значения диапазона, по которым построена диаграмма, имеют один и тот же знак.

8. Задание 8 № 9689

Определите значение переменной c после выполнения следующего фрагмента программы (записанного ниже на разных языках программирования). Ответ запишите в виде целого числа.

Бейсик	Паскаль
<pre>a = 17 b = 20 a = 3 * a - b IF a > b THEN c = 5 * a - b ELSE c = 5 * a + b END IF</pre>	<pre>a := 17; b := 20; a := 3 * a - b; if a > b then c := 5 * a - b else c := 5 * a + b;</pre>
Си++	Алгоритмический язык
<pre>a = 17; b = 20; a = 3 * a - b; if (a > b) c = 5 * a - b; else c = 5 * a + b;</pre>	<pre>a := 17 b := 20 a := 3 * a - b если a > b то c := 5 * a - b иначе c := 5 * a + b все</pre>
Python	
<pre>a = 17 b = 20 a = 3 * a - b if a > b: c = 5 * a - b else: c = 5 * a + b</pre>	

9. Задание 9 № 2439

Скорость передачи данных через модемное соединение равна 4096 бит/с. Передача текстового файла через это соединение заняла 10 с. Определите, сколько символов содержал переданный текст, если известно, что он был представлен в 16-битной кодировке Unicode.

10. Задание 10 № 4988

Азбука морзе позволяет кодировать символы для сообщений по радиосвязи, задавая комбинацию точек и тире. Сколько различных символов (цифр, букв, знаков пунктуации и т.д.) можно закодировать, используя код азбуки Морзе длиной **не менее трёх и не более 5** сигналов (точек и тире)?

11. Задание 11 № 5746

Алгоритм вычисления значения функции $F(n)$, где n — натуральное число, задан следующими соотношениями:

$$F(n) = 1 \text{ при } n \leq 2;$$

$$F(n) = 2 \times F(n-1) + F(n-2) \text{ при } n > 2.$$

Чему равно значение функции $F(6)$? В ответе запишите только натуральное число.

12. Задание 12 № 9798

В терминологии сетей TCP/IP маской сети называется двоичное число, определяющее, какая часть IP-адреса узла сети относится к адресу сети, а какая – к адресу самого узла в этой сети. Обычно маска записывается по тем же правилам, что и IP-адрес, – в виде четырёх байтов, причём каждый байт записывается в виде десятичного числа. При этом в маске сначала (в старших разрядах) стоят единицы, а затем с некоторого разряда – нули. Адрес сети получается в результате применения поразрядной конъюнкции к заданному IP-адресу узла и маске.

Например, если IP-адрес узла равен 231.32.255.131, а маска равна 255.255.240.0, то адрес сети равен 231.32.240.0.

Для узла с IP-адресом 111.81.200.27 адрес сети равен 111.81.192.0. Чему равно наибольшее возможное значение третьего слева байта маски? Ответ запишите в виде десятичного числа.

13. Задание 13 № 9197

При регистрации в компьютерной системе каждому пользователю выдаётся пароль, состоящий из 15 символов и содержащий только символы А, Б, В, Г, Д, Е. Каждый такой пароль в компьютерной программе записывается минимально возможным и одинаковым целым количеством байт, при этом используют посимвольное кодирование и все символы кодируются одинаковым и минимально возможным количеством бит.

Определите, сколько байт необходимо для хранения 20 паролей.

14. Задание 14 № 1801

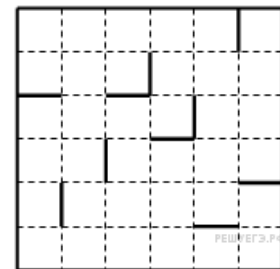
Система команд исполнителя РОБОТ, «живущего» в прямоугольном лабиринте на клетчатой плоскости:

вверх	вниз	влево	вправо
-------	------	-------	--------

При выполнении этих команд РОБОТ перемещается на одну клетку соответственно: вверх, вниз, влево, вправо.

Четыре команды проверяют истинность условия отсутствия стены у той клетки, где находится РОБОТ:

сверху свободно	снизу свободно	слева свободно	справа свободно
-----------------	----------------	----------------	-----------------



Цикл

ПОКА < условие > команда

выполняется, пока условие истинно, иначе происходит переход на следующую строку.

Сколько клеток лабиринта соответствуют требованию, что, выполнив предложенную программу, РОБОТ остановится в той же клетке, с которой он начал движение?

НАЧАЛО

ПОКА < снизу свободно > вниз

ПОКА < слева свободно > влево

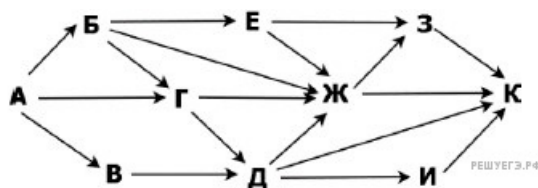
ПОКА < сверху свободно > вверх

ПОКА < справа свободно > вправо

КОНЕЦ

15. Задание 15 № 15631

На рисунке представлена схема дорог. По каждой дороге можно двигаться только в одном направлении, указанном стрелкой. Сколько существует различных путей из города А в город К, проходящих через город Г и НЕ проходящих через город З?



16. Задание 16 № 3847

Запишите десятичное число 100 в системе счисления с основанием 9.

17. Задание 17 № 5848

В языке запросов поискового сервера для обозначения логической операции «ИЛИ» используется символ «|», а для логической операции «И» – символ «&». В таблице приведены запросы и количество найденных по ним страниц некоторого сегмента сети Интернет:

Запрос	Найдено страниц (в тысячах)
Диана & Паллада	475
Диана & Аврора	550
Диана & (Аврора Паллада)	780

Компьютер печатает количество страниц (в тысячах), которое будет найдено по следующему запросу: *Диана & Паллада & Аврора* Укажите целое число, которое напечатает компьютер. Считается, что все запросы выполнялись практически одновременно, так что набор страниц, содержащих все искомые слова, не изменялся за время выполнения запросов.

18. Задание 18 № 9653

На числовой прямой даны два отрезка: $P = [10, 29]$ и $Q = [13, 18]$.

Укажите наибольшую возможную длину отрезка A , для которого выражение

$$((x \in A) \rightarrow (x \in P)) \vee (x \in Q)$$

тождественно истинно, то есть принимает значение 1 при любом значении переменной x .