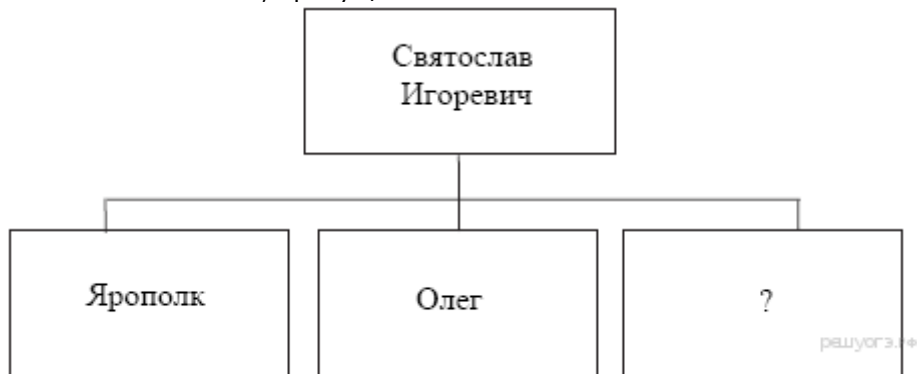


1. Запишите слово, пропущенное в схеме.



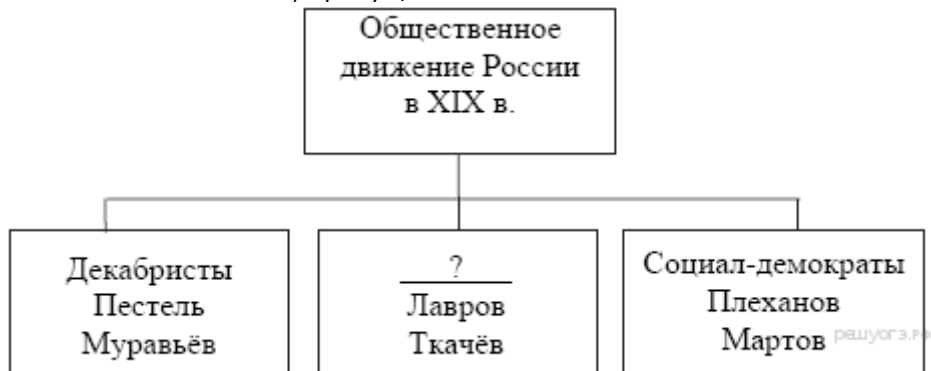
2. Запишите имя, пропущенное в схеме.



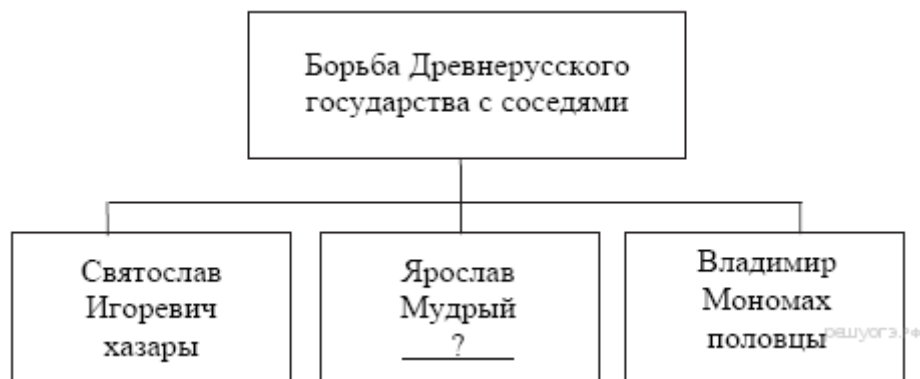
3. Запишите слово, пропущенное в схеме.



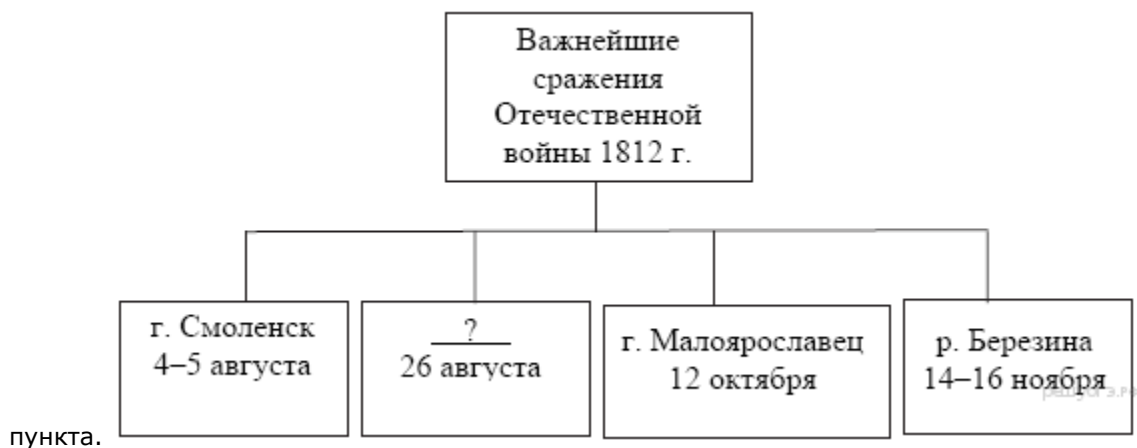
4. Запишите слово, пропущенное в схеме.



5. Запишите слово, пропущенное в схеме.

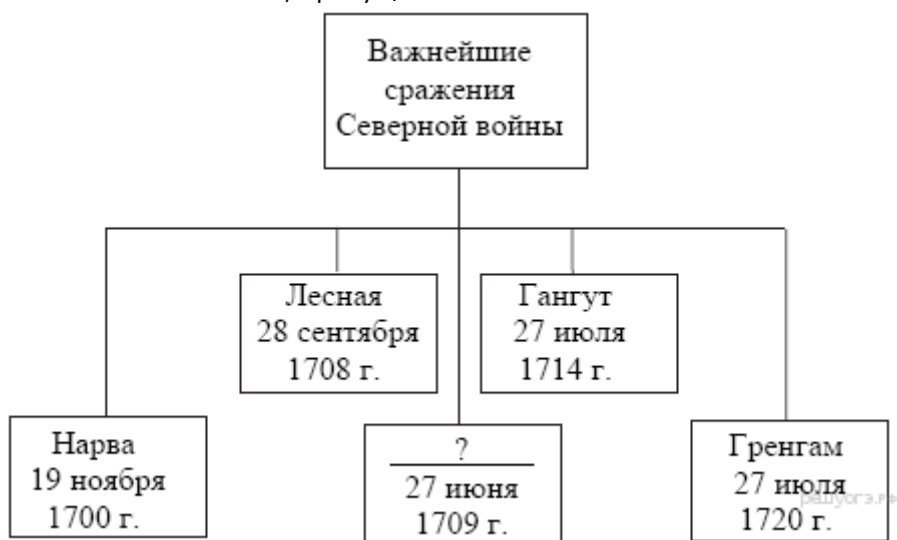


6. Запишите слово, пропущенное в схеме. В ответ запишите только название населенного



пункта.

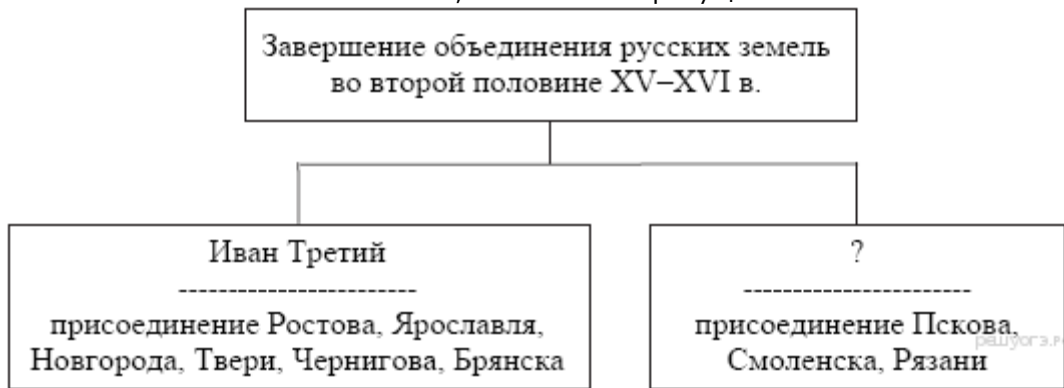
7. Запишите слово, пропущенное в схеме.



8. Запишите слово, пропущенное в схеме.



9. Запишите слово, пропущенное в схеме.



10. Запишите слово, пропущенное в схеме.



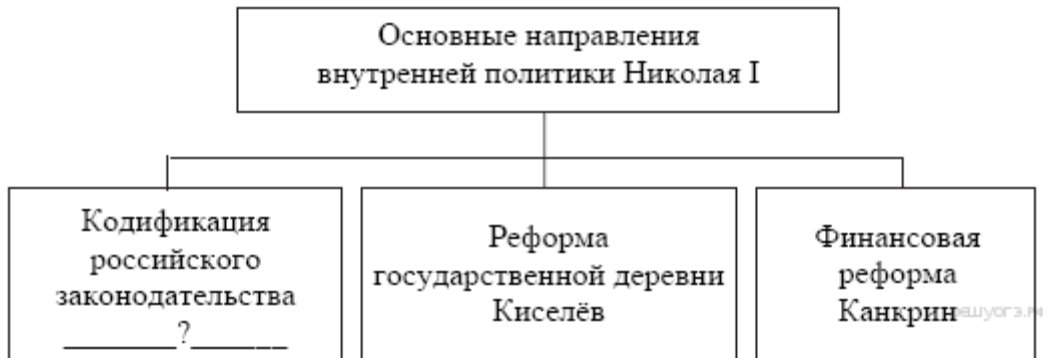
11. Запишите слово, пропущенное в схеме.



12. Запишите слово, пропущенное в схеме.



13. Запишите фамилию, пропущенную в схеме.



14. Ниже приведён перечень терминов. Все они, за исключением одного, относятся к продовольственной политике советского государства в период Гражданской войны.

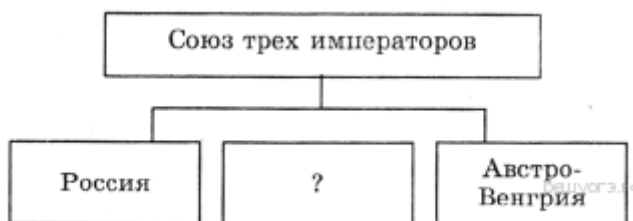
- 1) мешочки
- 2) продотряды
- 3) продразвёрстка
- 4) реквизиции
- 5) пятилетка

Найдите и укажите порядковый номер термина, «выпадающего» из данного ряда.

15. Запишите название, пропущенное в схеме.



16. Запишите название страны, пропущенной в схеме.



17. Запишите имя князя, пропущенное в схеме.



18. Запишите слово, пропущенное в схеме.



19. Запишите словосочетание, пропущенное в схеме



20. Укажите князя, пропущенного в схеме.



21. Запишите название территории, пропущенное в схеме.



22. Запишите имя, пропущенное в схеме.



23. Запишите название, пропущенное в схеме.



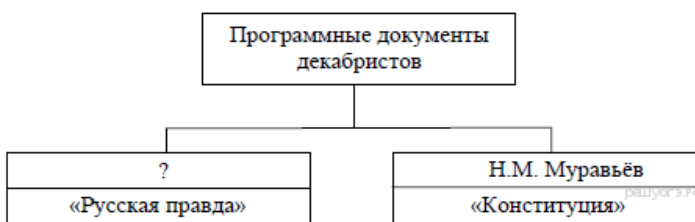
24. Запишите название, пропущенное в схеме.



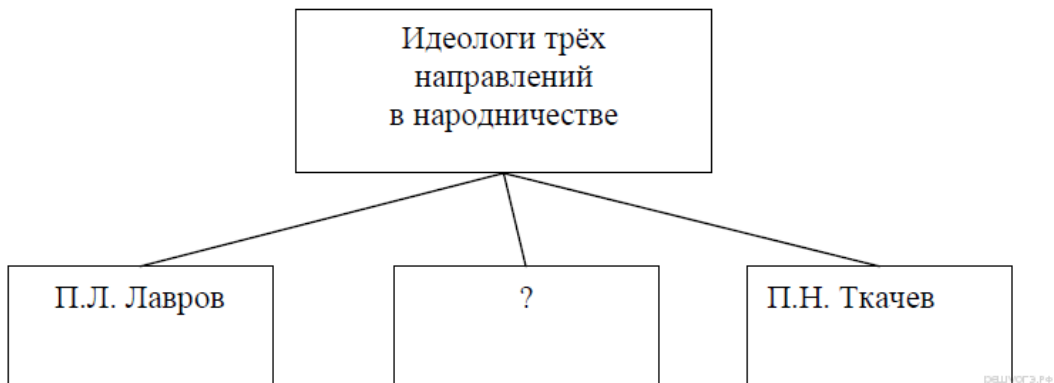
25. Запишите название, пропущенное в схеме.



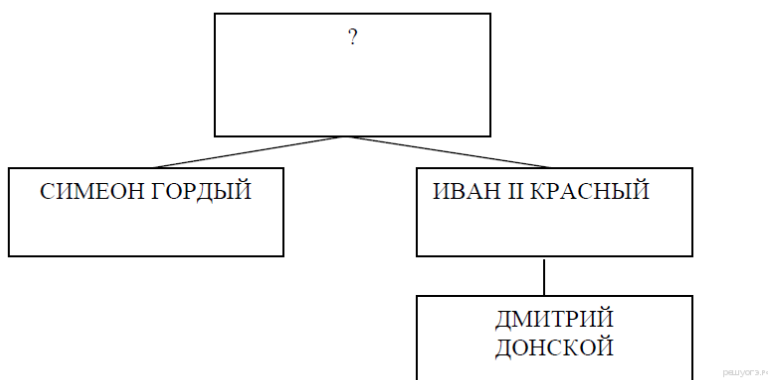
26. Запишите фамилию, пропущенную в схеме.



27. Запишите фамилию, пропущенную в схеме.



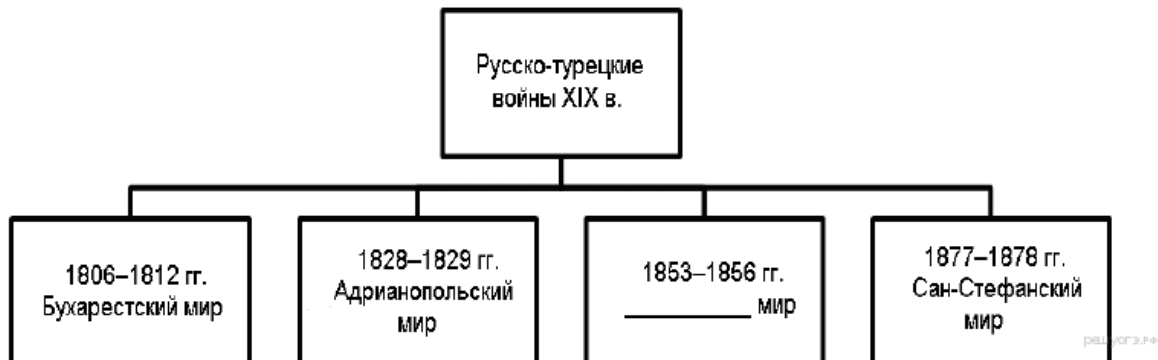
28. Назовите князя, пропущенного в схеме.



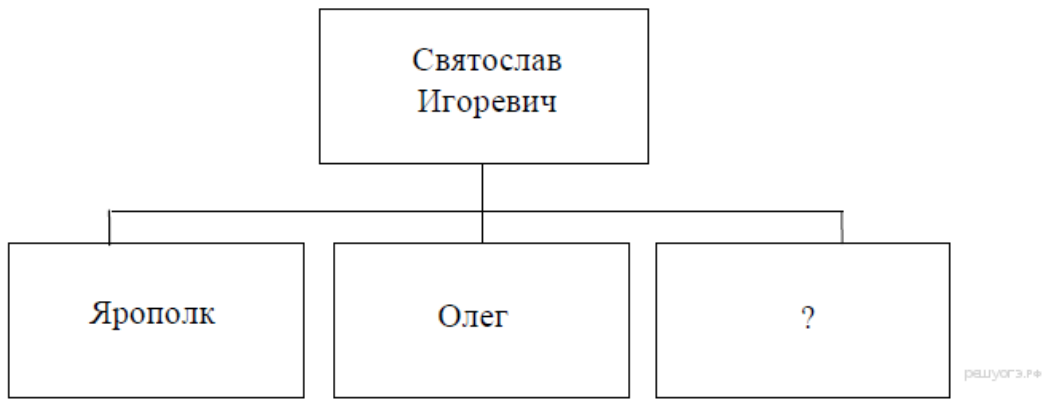
29. Запишите название, пропущенное в схеме.



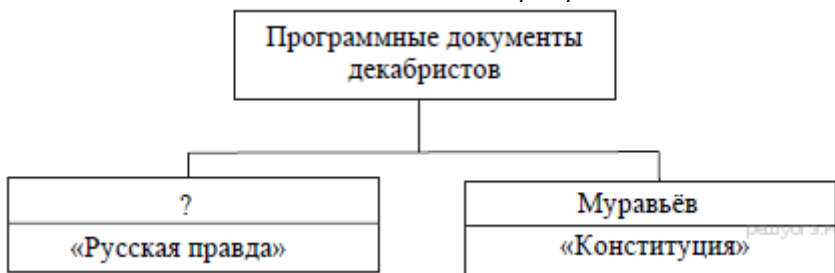
30. Запишите название, пропущенное в схеме.



31. Запишите имя, пропущенное в схеме.



32. Заполните пропуск в схеме.



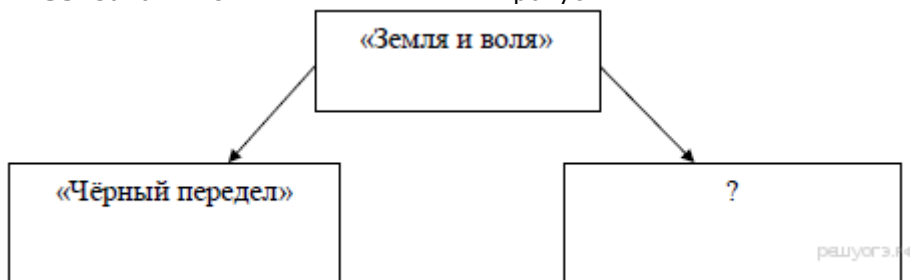
33. Заполните пропуск в схеме.



34. Заполните пропуск в схеме.



35. Заполните пропуск в схеме.





36. Заполните

пропуск

в

схеме.

