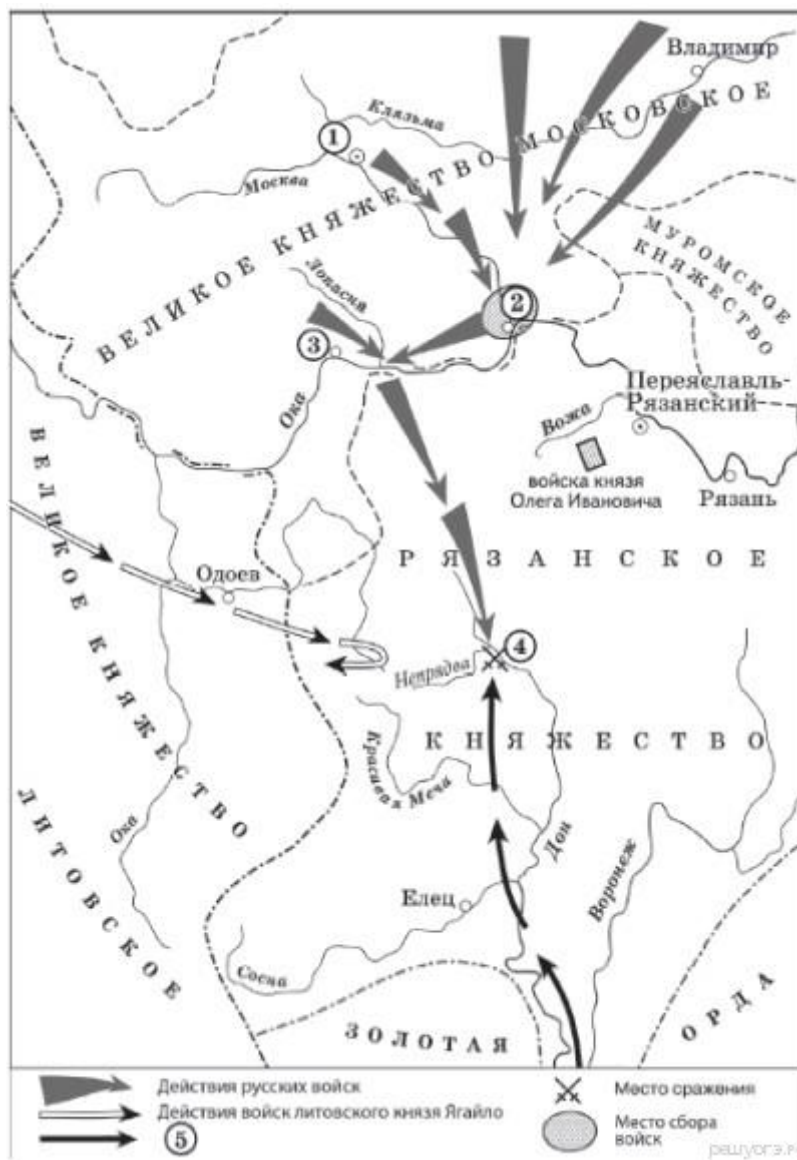


1. Прочитайте отрывок из сочинения историка и укажите цифру, обозначающую на схеме город, название которого пропущено в данном отрывке.

«Московский князь призвал всех головы свои положить за землю русскую. Местом сбора русских войск был назначен город _____. 25 августа великий князь московский прибыл в этот город. Его встретили на берегу реки Северки, притоке Москвы-реки. На утро следующего дня было приказано всем воеводам с войсками выехать за город на Девичье поле. Здесь состоялся смотр русских войск перед походом. После совета воевод русские полки 26 августа оставили город и пошли к верховьям Дона».

Рассмотрите схему и выполните задания 8-10



2. Прочитайте отрывок из сочинения историка и укажите цифру, обозначающую на схеме объект, название которого пропущено в данном отрывке два раза.

«_____ — одна из немногих рек, изменившая свое название в наше время. До восстания Емельяна Пугачева эта река называлась Яиком. Чтобы стереть всякую память о произошедшем, императрица Екатерина II повелела переименовать реку, с которой начался кровопролитный мятеж. Так Яик превратился в _____.»

Рассмотрите схему и выполните задания 8-10



3. Прочитайте отрывок из сочинения историка и укажите цифру, обозначающую на схеме город, название которого пропущено в данном отрывке.

«Вскоре (будущий предводитель восстания) возглавил поход казачьей бедноты "за зипунами" на Волгу, реку Яик и Каспийское море. Летом его суда подошли к _____. О свержении царя (будущий предводитель восстания) не говорил, но объявил войну воеводам, дьякам, представителям церкви, считая их предателями царя. Крепость была одной из лучших в Европе. Иностранцы говорили, что устоит она против любой армии. Каменный кремль: десять башен, за ними Белый город с каменными стенами до десяти сажен в высоту, за ним земляной вал с деревянной стеной на нем. У вала - глубокий ров. На трех крепостных стенах стояло пятьсот пушек! Но неожиданно жители города открыли городские ворота и впустили казаков.»

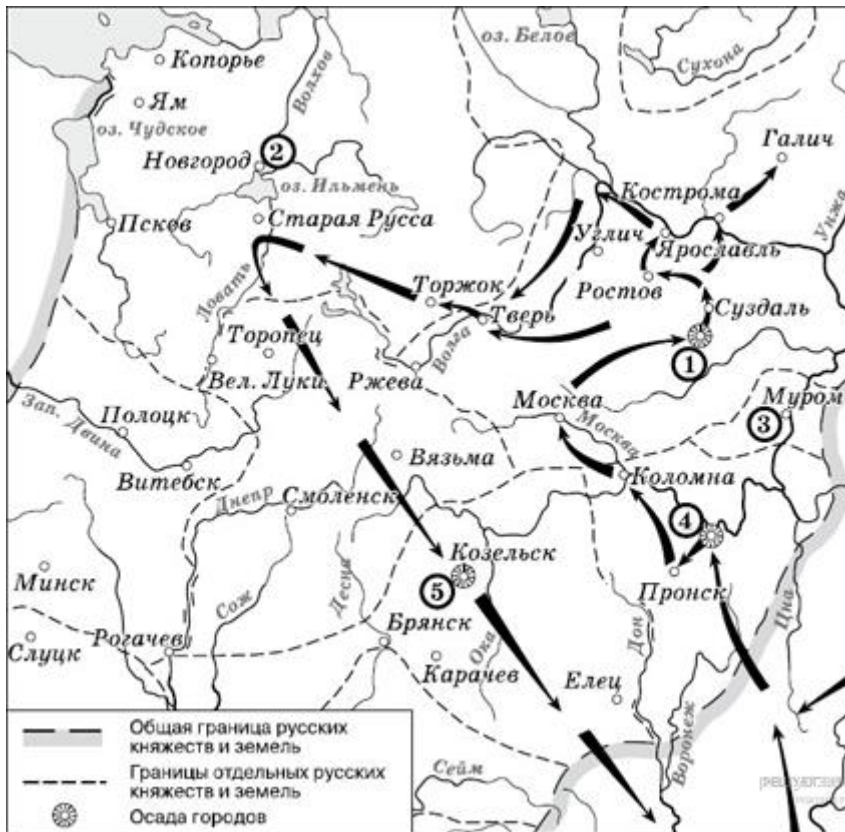
Рассмотрите схему и выполните задания 8-10



4. Прочитайте отрывок из сочинения историка и укажите цифру, обозначающую на схеме город, название которого пропущено в данном отрывке.

«Подойдя к городу, войска монголов потребовали его сдачи. Жители _____ решили на совете: «Наш Князь младенец, но мы, как правоверные, должны за него умереть, чтобы в мире оставить по себе добрую славу, а за гробом принять венец бессмертия», «главы своя положить за христианскую веру». Началась семинедельная осада.»

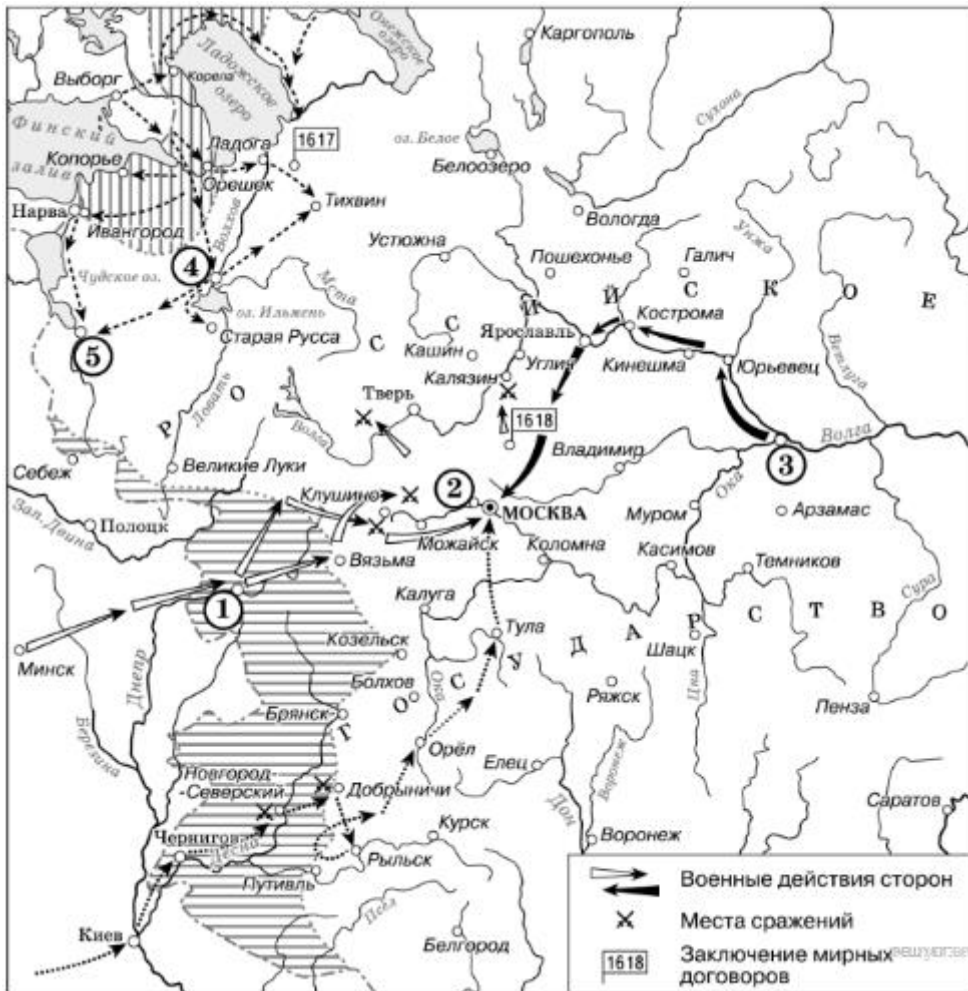
Рассмотрите схему и выполните задания 8-10



5. Прочитайте отрывок из воспоминаний современника и укажите цифру, обозначающую на схеме город, название которого пропущено в данном отрывке два раза.

«Того же года 24 июня, в праздник св. Иоанна, царь (*Лжедмитрий II*) подступил к столичному городу Москве. Там не было никакого войска кроме стражи. Когда царь (*Лжедмитрий II*), не находя удобного места для лагеря, ходил кругом Москвы и, направляясь назад к _____, дошел до Товиенска [с. Тайнинского], то на него напало было в тесном месте войско Шуйского, но при Божией помощи было разбито. Царское (*Лжедмитрия II*) войско расположилось у _____, подле монастыря св. Николая на месте, заросшем явором»

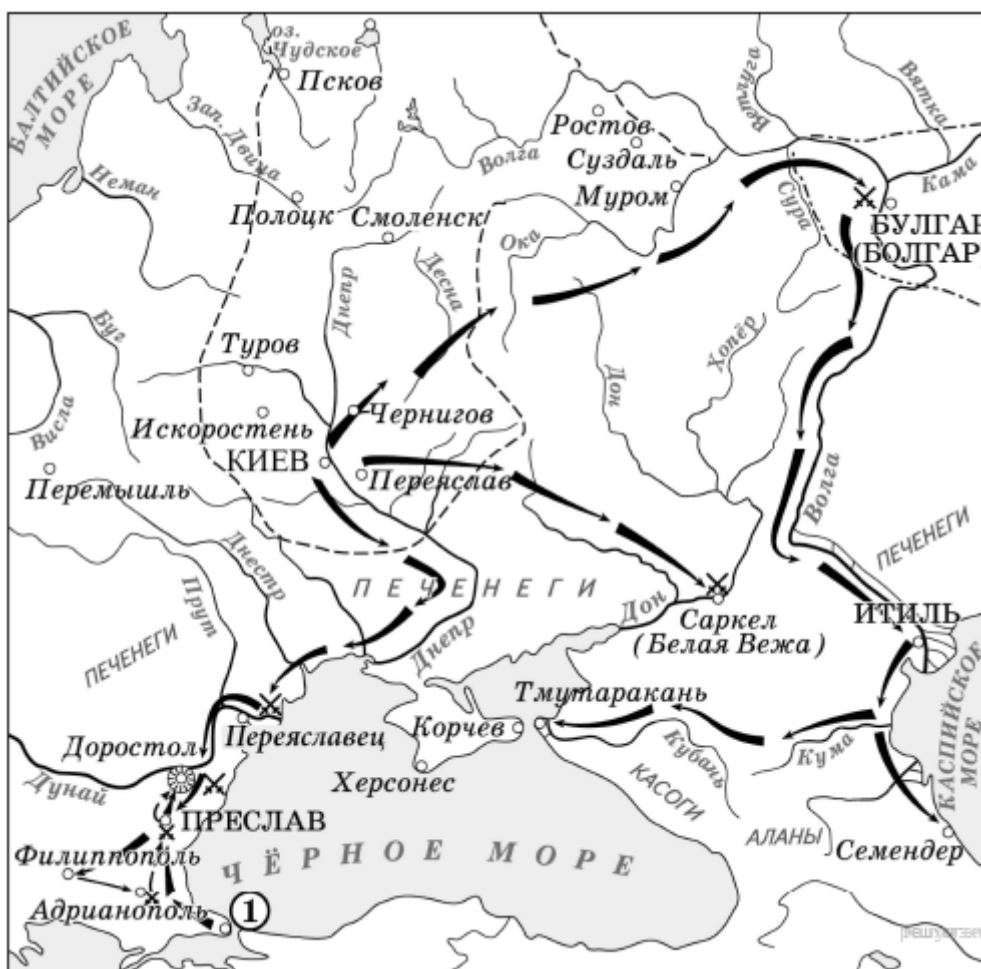
Рассмотрите схему и выполните задания 8-10



6. Прочитайте отрывок из летописи и укажите имя князя, чьи походы обозначены на схеме, и чье имя пропущено в данном отрывке.

«Когда _____ вырос и возмужал, стал он собирать много воинов храбрых, и быстрым был, словно пардус, и много воевал. В походах же не возил за собою ни возов, ни котлов, не варил мяса, но, тонко нарезав конину, или зверину, или говядину и зажарив на углях, так ел; не имел он шатра, но спал, постилая потник с седлом в головах, — такими же были и все остальные его воины. И посылал в иные земли [посланников, как правило, перед объявлением войны] со словами: «Иду на вы!»»

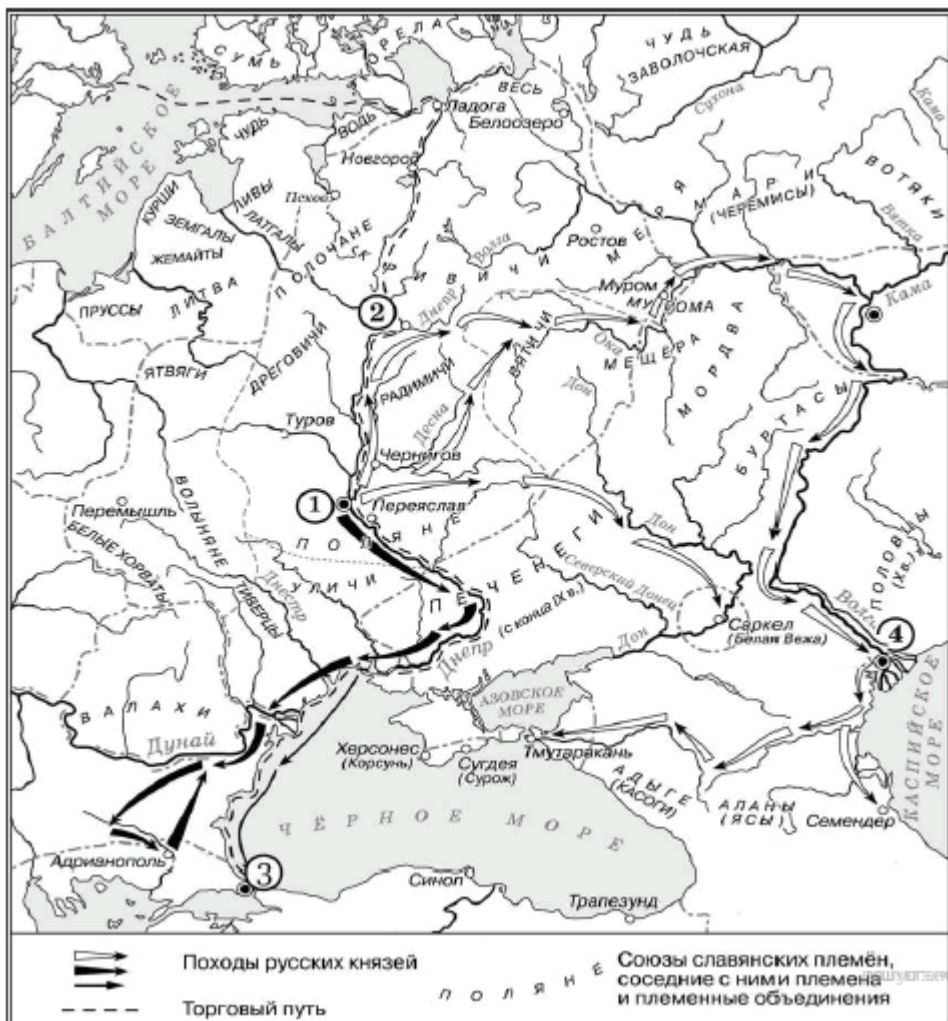
Рассмотрите схему и выполните задания 8-10



7. Прочитайте отрывок из работы историка и укажите цифру, которой на схеме обозначен город, чье название пропущено в данном отрывке.

«Конфликт разразился при вокняжении князя Святослава Игоревича. Ход войны может быть реконструирован в различных вариантах. Возможно, состоялся один большой поход, возглавляемый Святославом. Либо имели место два похода. Первый — направлен против Саркела (хазарская застава на Дону), второй — против территории Хазарии в Прикаспии. Он мог проходить уже без непосредственного участия Святослава, так как согласно русской летописи князь в это время находился в Киеве. В ходе военных действий, русы разбили хазарское войско во главе с каганом, захватили Саркел, который с этого времени стал русским городом Бelaya Вежа, подчинили ясов и касогов в Прикубанье. Далее, как следует из сообщения арабского автора Ибн Хаукаля, русы разграбили обе части хазарской столицы _____»

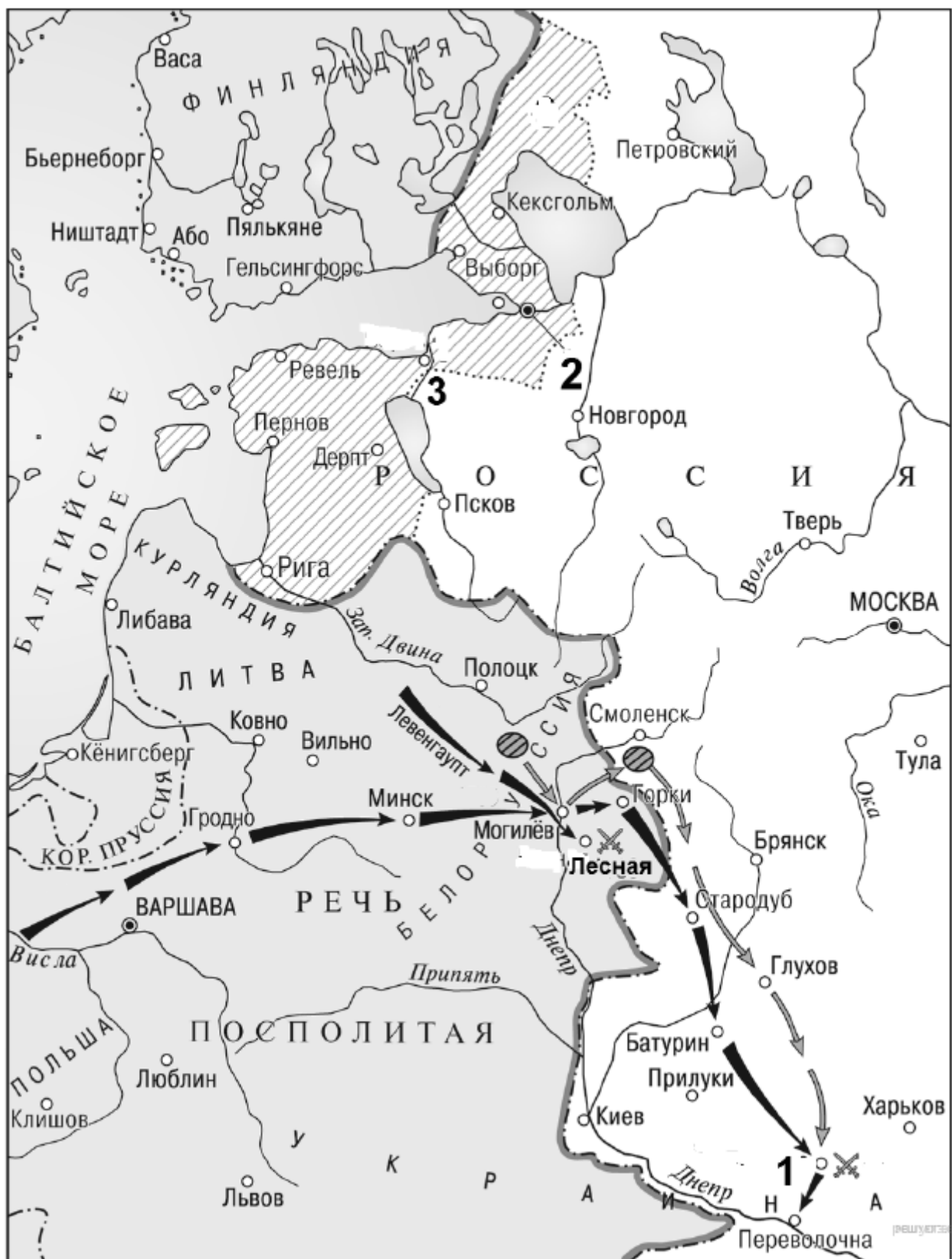
Рассмотрите схему и выполните задания 8-10



8. Прочитайте отрывок из работы историка и укажите цифру, которой на схеме обозначен город, под которым прошла битва, чье название пропущено в данном отрывке.

«В результате _____ битвы армия короля Карла XII была настолько обескровлена, что уже не могла вести активных наступательных действий. Военное могущество Швеции было подорвано, и в Северной войне произошёл перелом в пользу России. На встрече с саксонским курфюрстом Августом II в Торунь был вновь заключён военный союз Саксонии с Россией. Датский король также вновь выступил против Швеции, причём теперь, благодаря приобретённому авторитету, России это не стоило ни денежных субсидий, ни посылки воинского контингента.»

Рассмотрите схему и выполните задания 8-10



9. Прочитайте отрывок из работы историка и укажите цифру, которой на схеме обозначен город, чье название пропущено в данном отрывке.

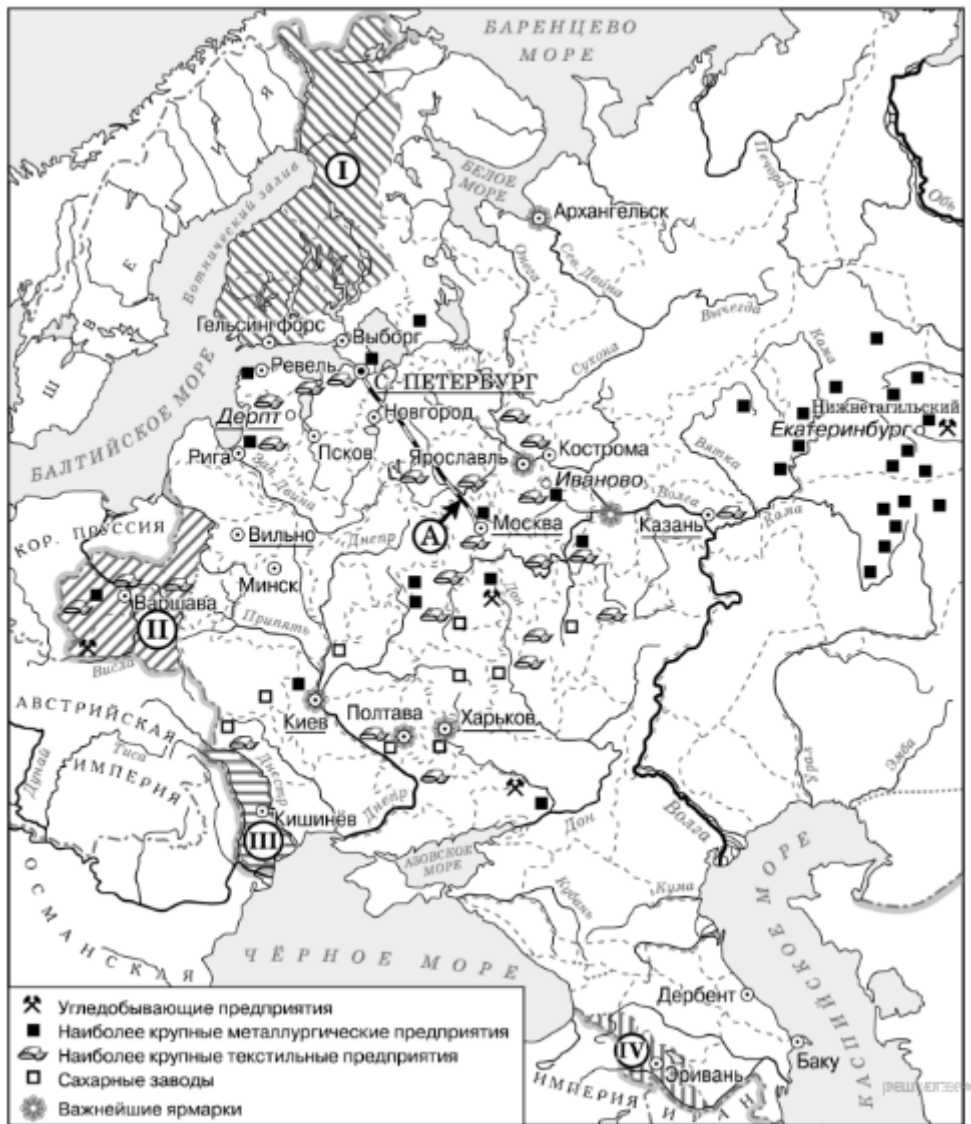
«Во время Монгольского нашествия на Русь, бывшего частью Западного похода монголов, [данное] княжество оказалось первым из русских княжеств на пути завоевателей. Осенью орда Батыея вторглась в [его] пределы. Перебив посланное князем посольство и разгромив его дружины в пограничном сражении, монголо-татары разорили Пронск и ряд других городов и затем осадили _____. После ожесточенного штурма город был захвачен и разрушен, население было истреблено.»

Рассмотрите схему и выполните задания 8-10



10. Прочитайте отрывок из работы историка и укажите цифру, которой на схеме обозначен город (крепость), чье название пропущено в данном отрывке.

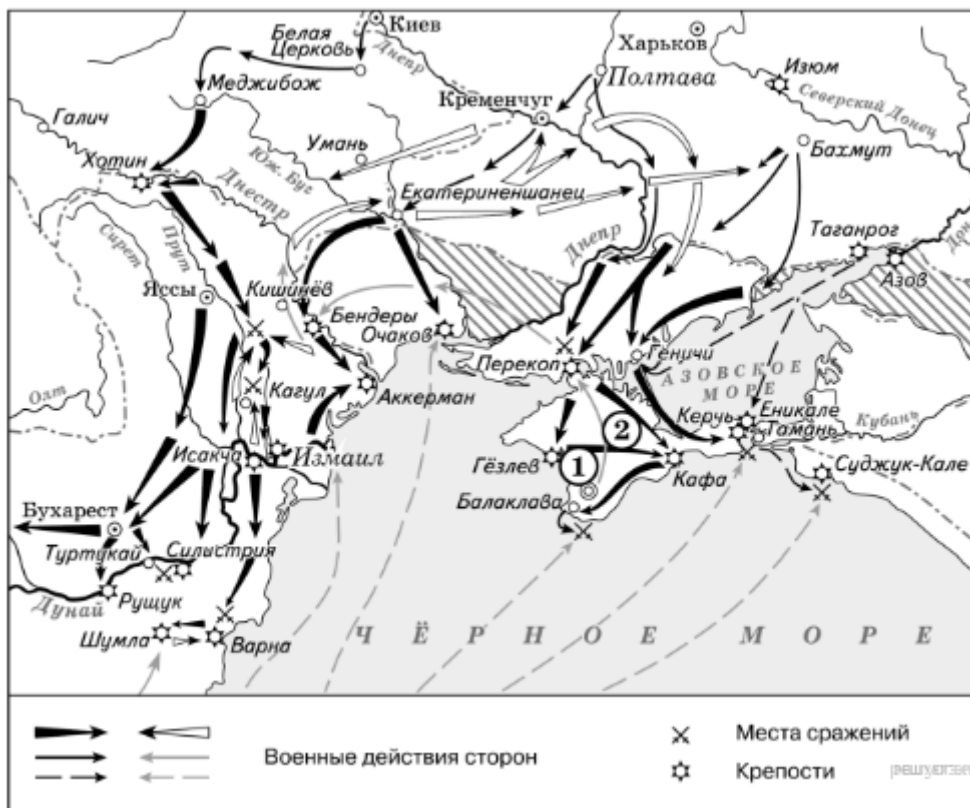
«В 3 часа ночи 11 (22) декабря взвилась первая сигнальная ракета, по которой войска оставили лагерь и, перестроившись в колонны, выступили к назначенным по дистанции местам... Особенно ожесточенное сопротивление продолжалось до 11 часов утра. Несколько тысяч лошадей, выскочивших из горящих конюшен, в бешенстве мчались по улицам и увеличивали смятение. Почти каждый дом приходилось брать с боем. Около полудня Ласси, первым взшедший на крепостной вал, первым же достиг и середины города. Здесь он встретил тысячу татар под начальством Максуда Гирея, князя чингисхановой крови. Максуд Гирей защищался упорно, и только когда большая часть его отряда была перебита, сдался в плен с 300 воинами, оставшимися в живых. Для поддержки пехоты и обеспечения успеха Суворов приказал ввести в город 20 лёгких орудий, чтобы картечью очистить улицы от турок. В час дня, в сущности, победа была одержана. Однако бой ещё не был закончен. Неприятель пытался нападать на отдельные русские отряды или засел в крепких зданиях как в цитаделях. В два часа дня все колонны проникли в центр города. К 16 часам последние защитники были убиты, некоторая часть измождённых и израненных турок сдалась. Шум битвы смолк, _____ пал.»



12. Прочитайте отрывок из работы историка и укажите название государства, с которым велись боевые действия, показанные на схеме, чье название пропущено в данном отрывке.

«По итогам войны Крым был объявлен независимым от _____. Россия получила Большую и Малую Кабарду, Азов, Керчь и Еникале, Кинбурн с округой и прилегавшей к нему степью между Днепром и Бугом. Русские корабли могли свободно ходить по [...] водам; русские подданные получили право пользоваться всеми теми выгодами, которыми пользовались в пределах _____ союзные народы; _____ признала титул русских императоров и обязалась называть их падишахами, даровала амнистию и свободу вероисповедания балканским христианам, предоставила представителям России принимать на себя роль защитников славян и ходатайствовать за них.»

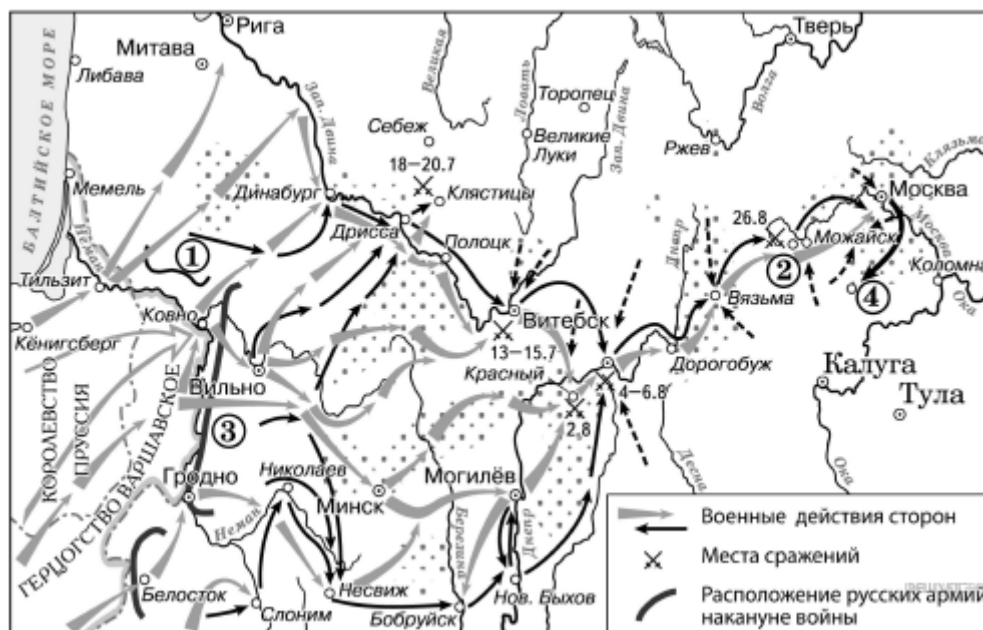
Рассмотрите схему и выполните задания 8-10



13. Прочитайте отрывок из работы историка и укажите цифру, под которой на схеме обозначено сражение, название которого пропущено в данном отрывке.

«_____ является одним из самых кровопролитных сражений данного века и наиболее кровопролитным из всех однодневных, бывших до него. По самым скромным оценкам совокупных потерь, каждый час на поле погибало или получало ранения около 6000 человек, французская армия потеряла около 25 % своего состава, русская — около 30 %. Со стороны французов было сделано 60 тысяч пушечных выстрелов, с русской стороны — 50 тысяч. Наполеон назвал _____ своим самым великим сражением, хотя его результаты более чем скромны для привыкшего к победам великого полководца.»

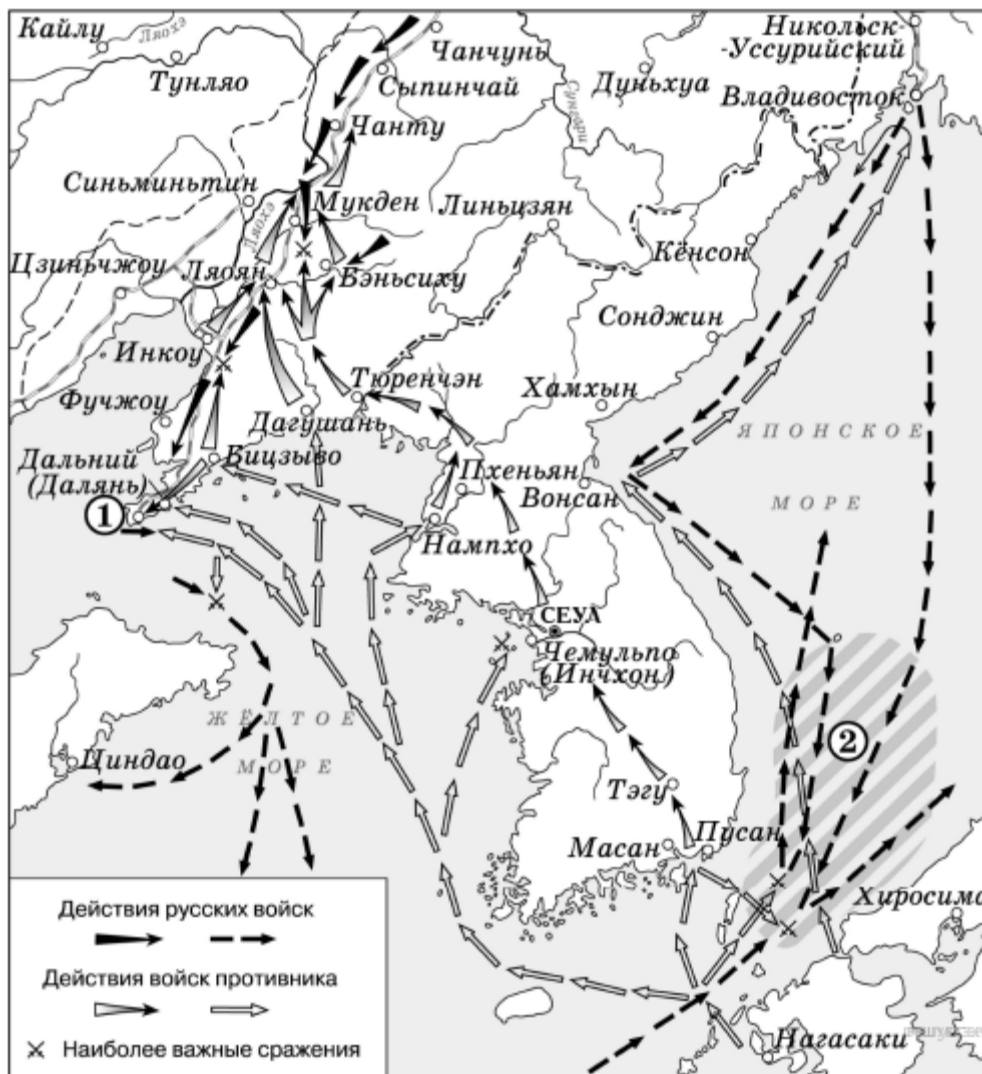
Рассмотрите схему и выполните задания 8-10



14. Прочитайте отрывок из работы историка и укажите цифру, под которой на схеме обозначено сражение, название которого пропущено в данном отрывке.

«_____ произошло в мае. В ходе него российская 2-я эскадра флота Тихого океана под командованием вице-адмирала Рожественского потерпела сокрушительное поражение от Императорского флота под командованием адмирала Хэйхатиро Того. Последнее, решающее морское сражение войны, в ходе которой русская эскадра была полностью разгромлена. Большая часть кораблей была потоплена противником или затоплена собственными экипажами, часть капитулировала, некоторые интернировались в нейтральных портах, и лишь четырём удалось дойти до русских портов.»

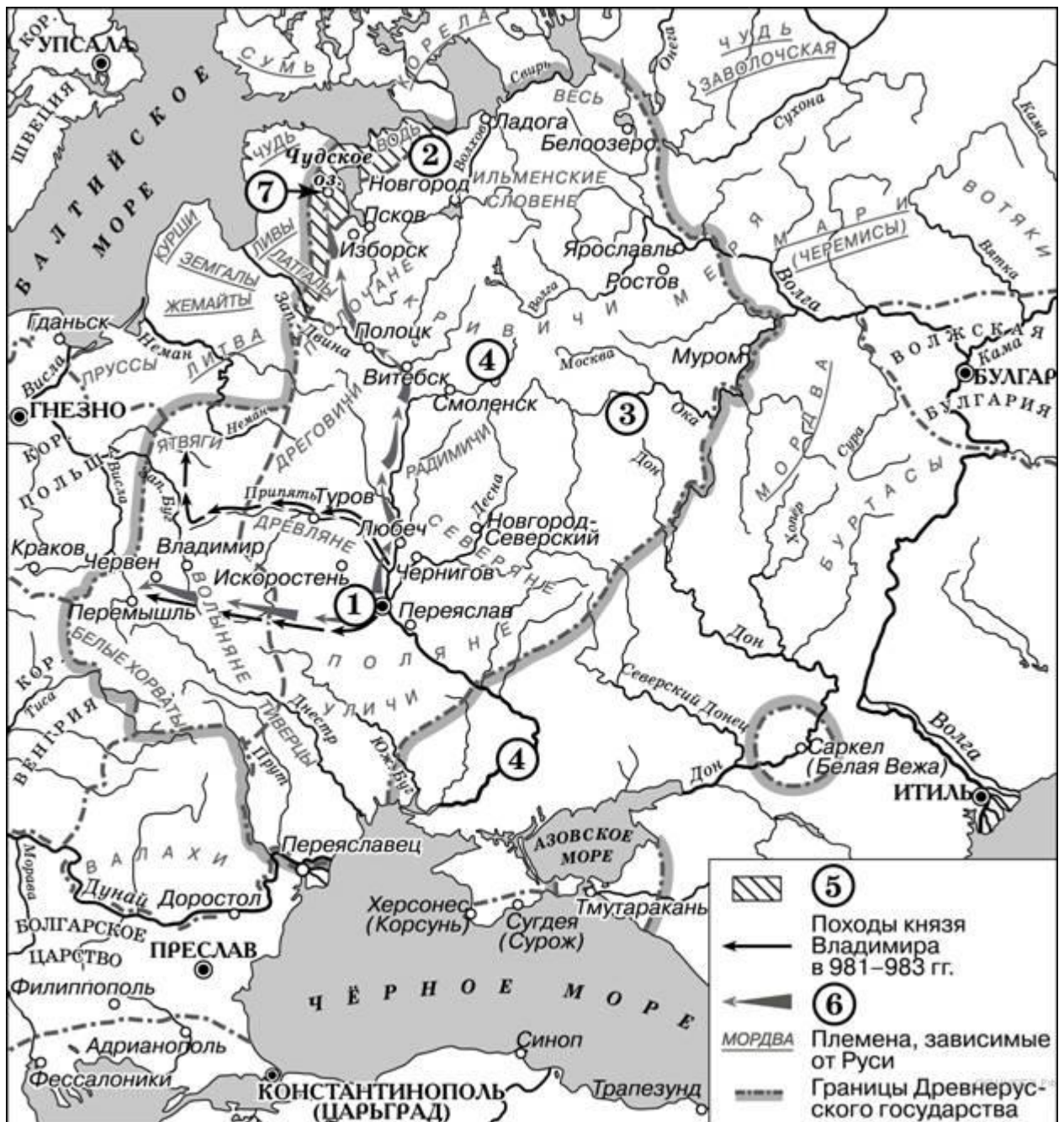
Рассмотрите схему и выполните задания 8-10



15. Прочитайте отрывок из работы историка и укажите цифру, под которой на схеме обозначено территория проживания народа, название которого пропущено в данном отрывке.

«По свидетельствам источников _____ были прекрасными степными наездниками и имели свой военный строй. Занятиями _____ были кочевое скотоводство (разведение рогатого скота, коней, овец, верблюдов) и ремесло. Тем не менее, они имели и постоянные летние и зимние стойбища. Поначалу половцы вели так называемое таборное кочевание, впоследствии (с конца XI века) сменившееся другим типом кочевья, когда за ордами, куренями и аулами закреплялись определённые участки земли под пастбища. Природа степей немало способствовала развитию и процветанию кочевого скотоводства. С другой стороны, положение кочевников было довольно трудным в холодные зимы. Золото и серебро они добывали грабежом и торговлей. Есть версия, что городов _____ не строили, хотя в их землях упоминаются города Шарукань, Сугров, Чешуев, заложенные именно _____. Кроме того, Шарукань был столицей западных _____.»

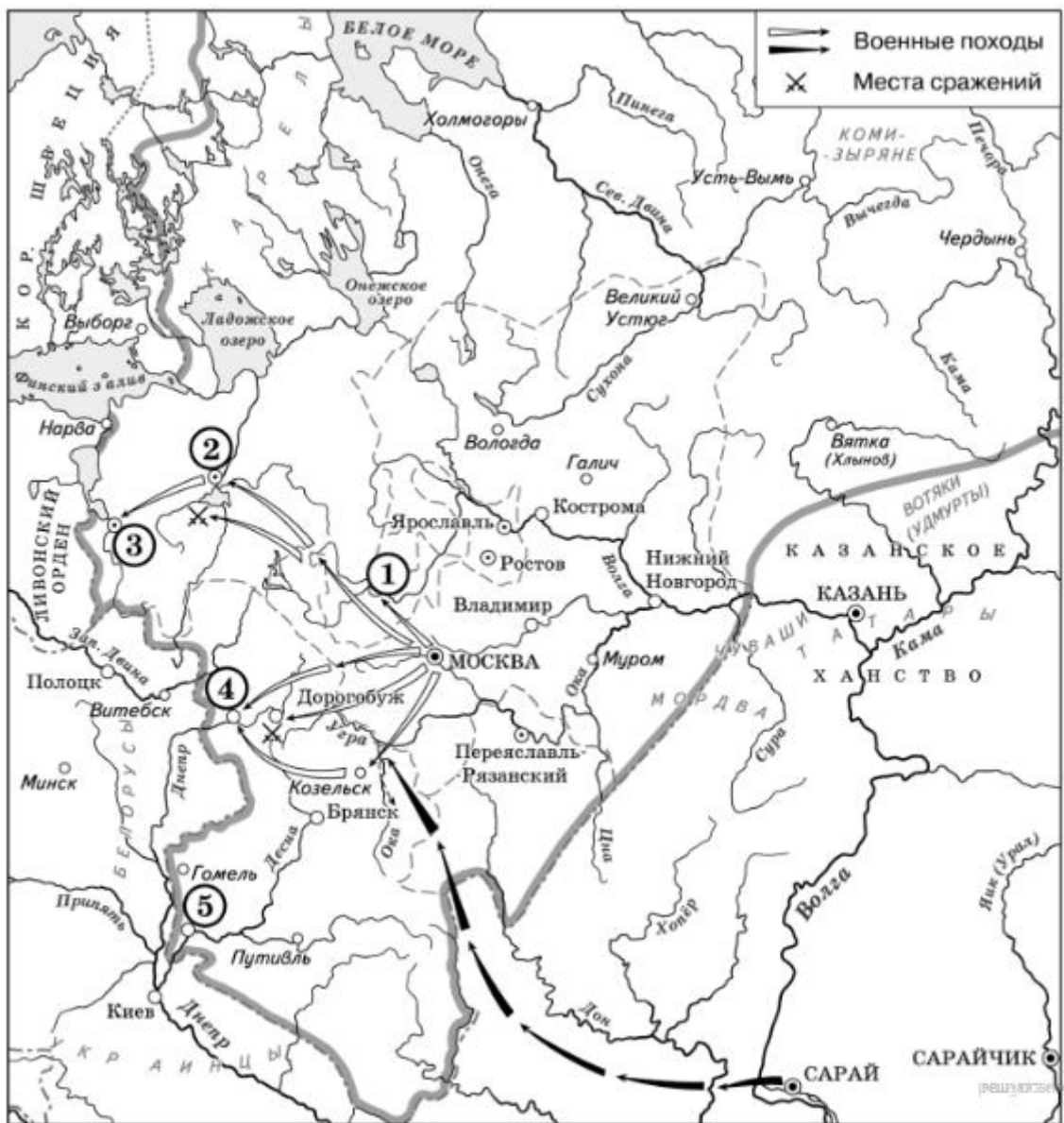
Рассмотрите схему и выполните задания 8-10



16. Прочитайте отрывок из работы историка и укажите цифру, под которой на схеме обозначен город, название которого пропущено в данном отрывке.

«Чтобы облегчить свою участь, жители _____ 5 декабря года вступили в переговоры с московским князем. Однако Иван III на попытку _____ договориться с ним ответил: «Знайте же, что в _____ не быть ни вечевому колоколу, ни посаднику, а будет одна власть государева, как в стране московской». Тем временем город был расколот надвое: одни жители были готовы защищать его от москвичей, а другие — отказывались участвовать в отражениях атак московских воинов. Поняв, что московский государь настроен решительно, население города в конце концов сдались. 4 января Иван III потребовал, чтобы ему отдали половину владычных и монастырских волостей и все новоторжские волости. 6 января года бояре приняли эти условия, сохранив таким образом свои вотчины. 13 января было объявлено о подчинении _____ Великому князю, а 15 января московские войска во главе с Иваном III вступили в город.»

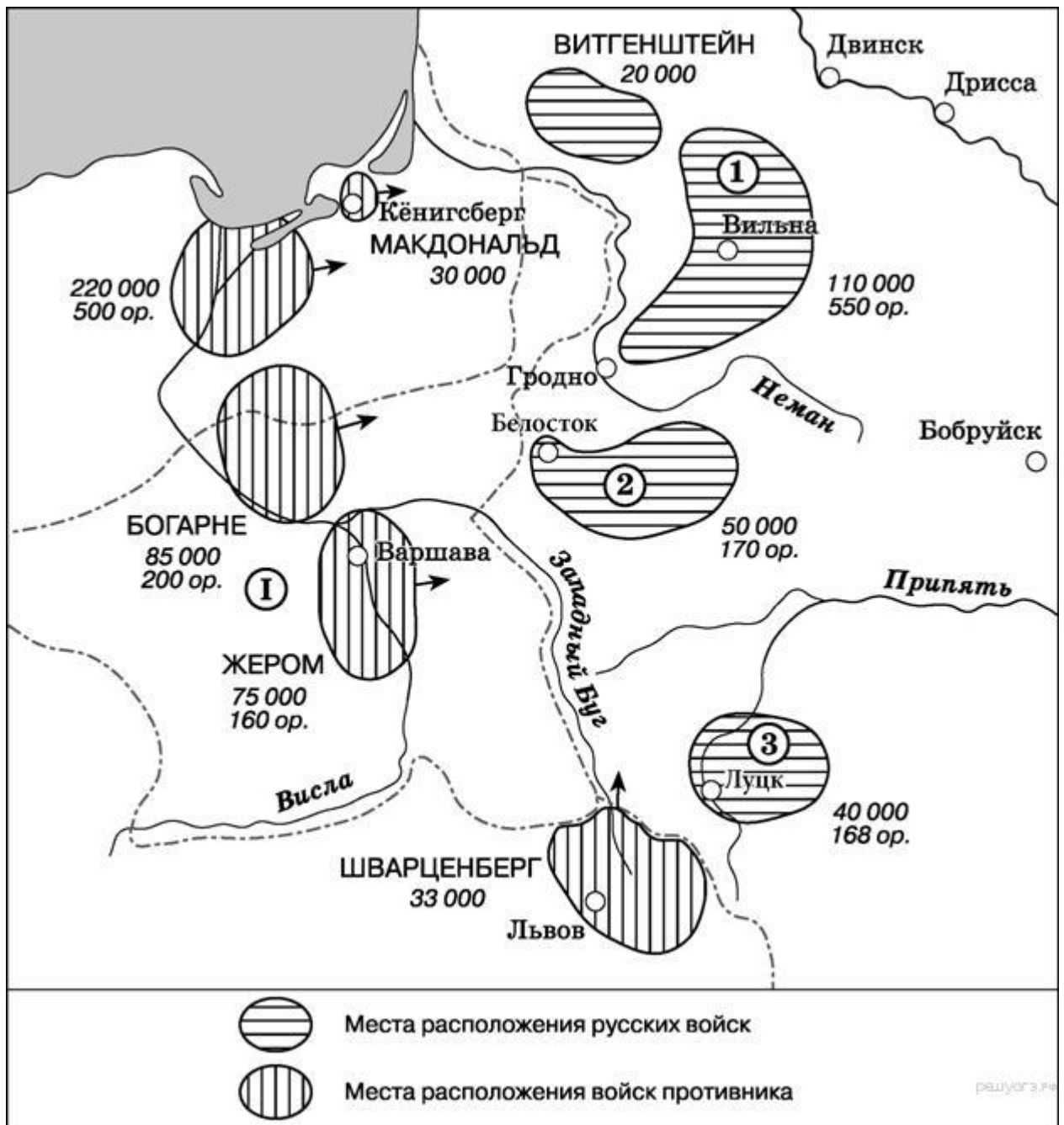
Рассмотрите схему и выполните задания 8-10



17. Прочитайте отрывок из работы историка и укажите цифру, под которой на схеме обозначена армия, название которой пропущено в данном отрывке.

«_____ армия военного министра России генерала от инфантерии М.Б. Барклая де Толли (около 120 тыс. чел. при 590 орудиях) включала в свой состав шесть пехотных корпусов (1-й, 2-й, 3-й, 4-й, 5-й и 6-й), три резервных кавалерийских корпуса (1-й, 2-й и 3-й), Летучий казачий корпус атамана М.И. Платова, четыре пионерные (инженерные) и две понтонные роты. Должность начальника Главного штаба с 30 июня занимал генерал-майор А.П. Ермолов.»

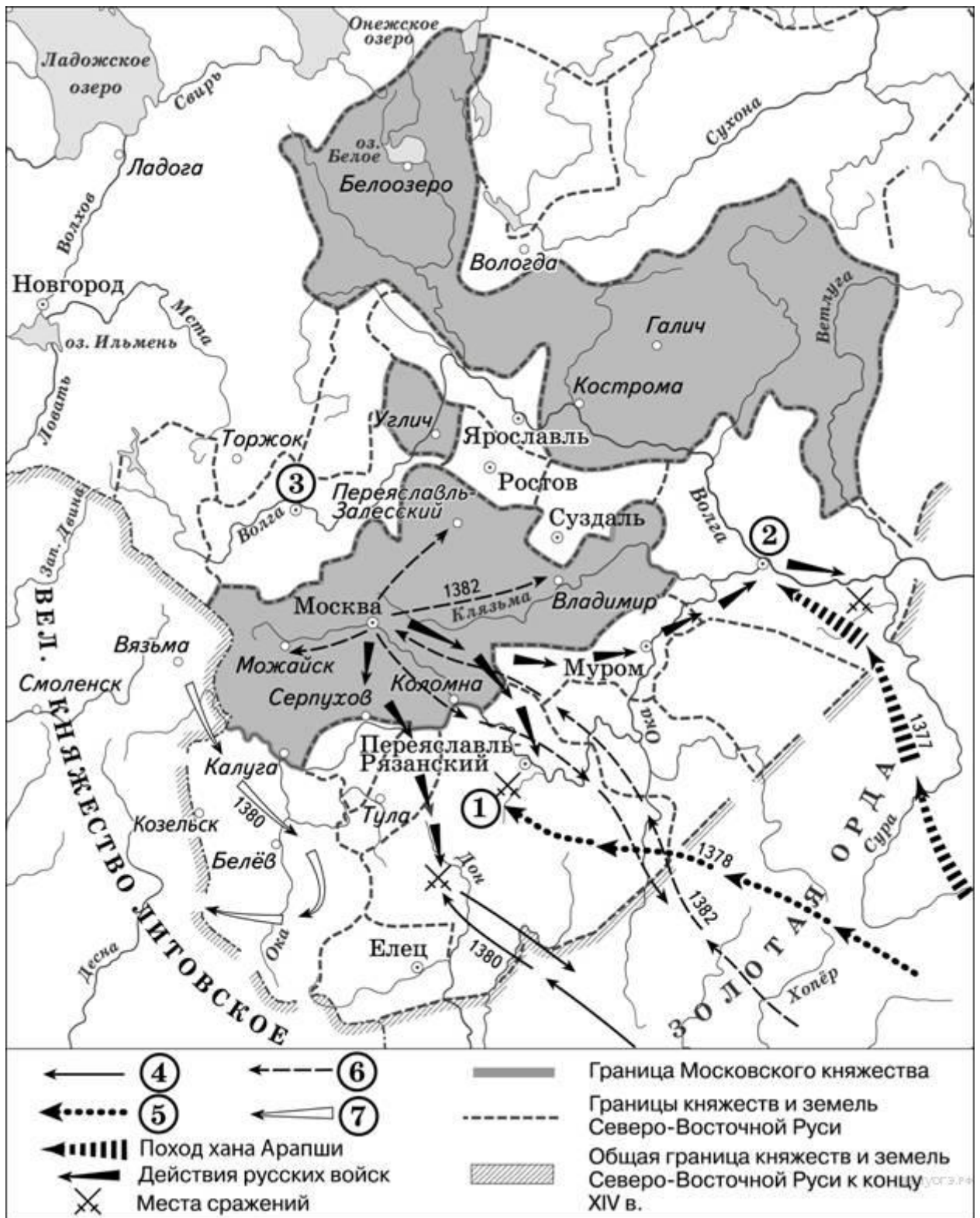
Рассмотрите схему и выполните задания 8-10



18. Прочитайте отрывок из работы историка и укажите цифру, под которой на схеме обозначен поход военачальника, чье имя пропущено в данном отрывке.

«_____ учел уроки Куликовской битвы и принял все меры для того, чтобы его нападение было неожиданным. Это ему удалось. Дмитрий Иоаннович покинул столицу и уехал в Кострому собирать войска, вскоре из города уехал и митрополит Киприан. 23 августа ордынское войско подошло к Москве, 3 дня продолжался безуспешный штурм города. Лишь с помощью обмана хан сумел занять и разграбить столицу Московского княжества. После захвата города _____ стал рассылать по Московской земле свои отряды. Когда до него дошли известия, что один из отрядов был уничтожен войсками кн. Владимира Храброго под Волоком Ламским, а в Костроме с войсками стоит Дмитрий Иоаннович, то хан поспешил увести свои войска в Орду, разграбив по пути Рязанскую землю. После этого набега среди князей, ранее признававших политическое верховенство Москвы, начались колебания. Олег Рязанский указал ордынскому войску тайные броды на Оке. Сыновья нижегородского князя Дмитрия Константиновича — князя Василий и Семен — встречали ордынское войско на границе владений отца, затем вместе с ним под стенами Московского Кремля, целуя крест, убеждали москвичей поверить _____.»

Рассмотрите схему и выполните задания 8-10

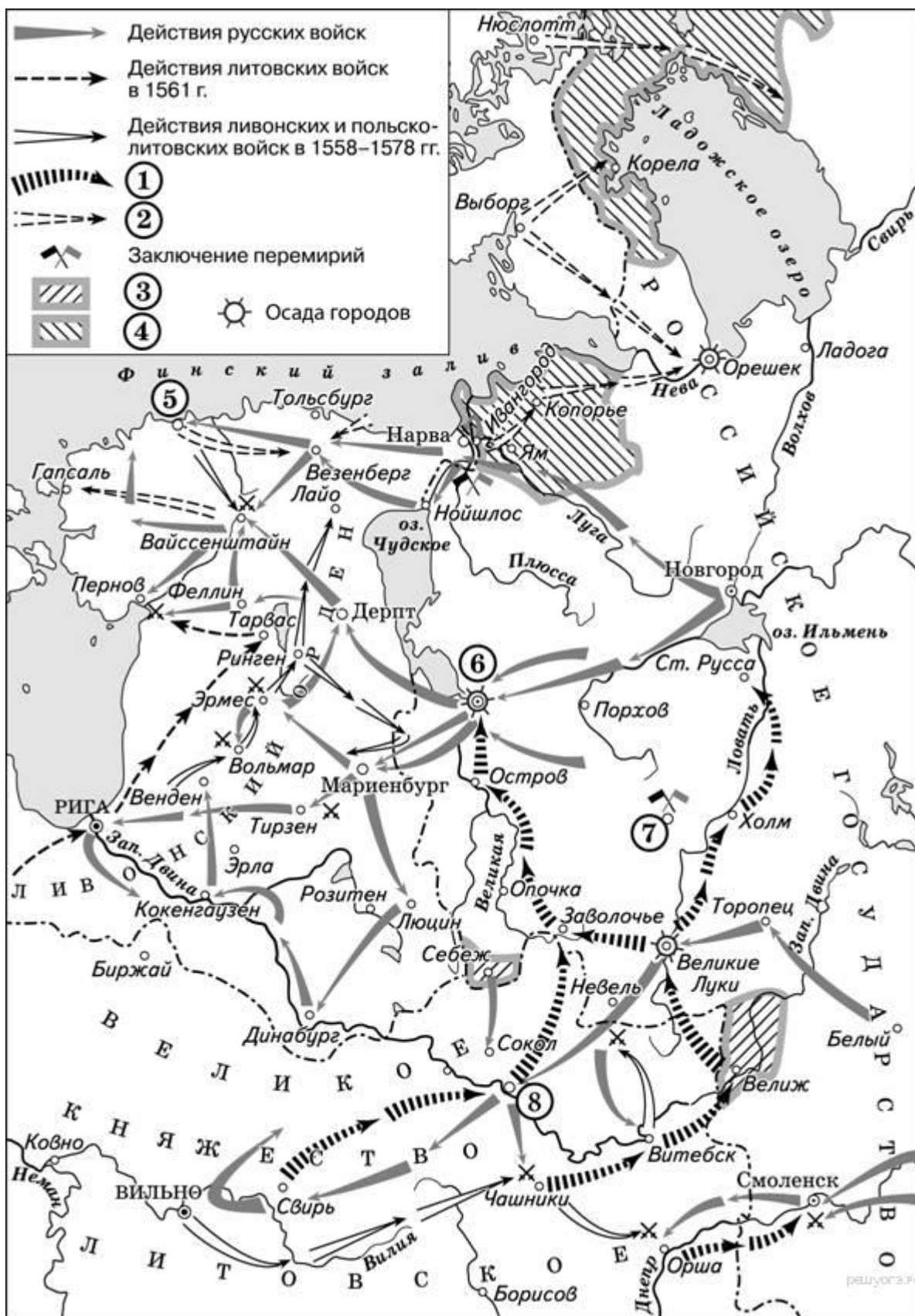


19. Прочитайте отрывок из работы историка и укажите цифру, под которой на схеме обозначен город, чья осада описана в данном отрывке.

«Переправившись через Великую, 18 августа передовые отряды войска Речи Посполитой подошли к городу с юга. Увидев малочисленность авангарда противника, русские воеводы предприняли вылазку и отбросили противника на несколько вёрст. В течение недели Баторий вёл разведку русских укреплений, и только 26 августа приказал основным силам своей армии подступить к городу. Однако солдаты вскоре попали под огонь русских пушек и отступили к реке Черёха. Здесь Баторий устроил укреплённый лагерь, стал рыть траншеи и ставить туры, чтобы приблизиться к стенам крепости. Свой шатёр Баторий приказал поставить недалеко от стен _____ на московской дороге у церкви Николы Чудотворца. Ночью русская крепостная артиллерия открыла огонь по лагерю, нанеся польско-литовскому войску значительный ущерб.

Для устрашения жителей города был проведён парад-смотр войск, принимали его польский король Стефан Баторий и главнокомандующий армии, коронный гетман Ян Замойский. Отдельными отрядами осаждавших были заняты пригородные монастыри: Снеготорский, Любятовский, Ивановский, Мирожский и другие.»

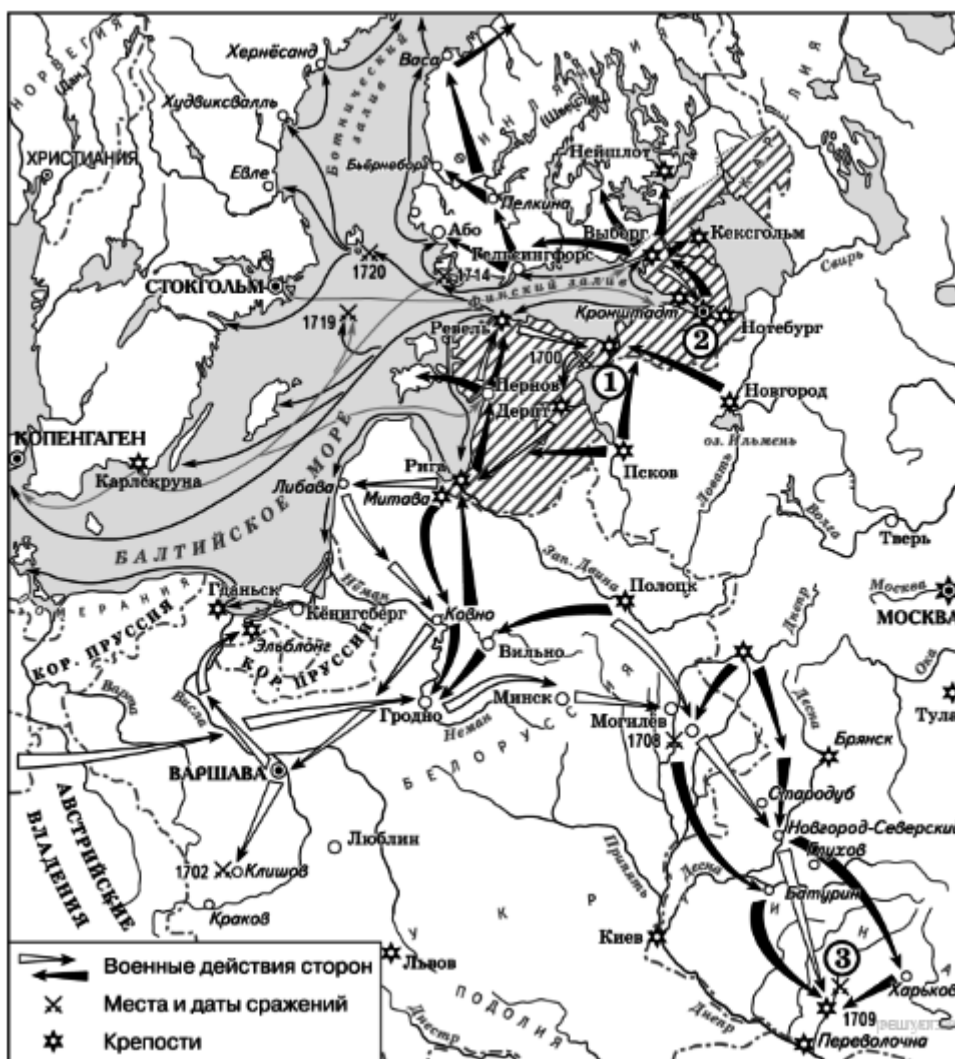
Рассмотрите схему и выполните задания 8-10



20. Прочитайте отрывок из работы историка и укажите цифру, под которой на схеме обозначен город, чье название пропущено в тексте.

«Русская армия потерпела тяжёлое поражение: было потеряно значительное количество артиллерии, понесены тяжёлые людские потери, сильно пострадал командный состав. В Европе русскую армию на несколько лет перестали воспринимать как серьёзную силу, а Карл XII получил славу великого полководца. С другой стороны, эта тактическая победа посеяла семя будущего поражения Швеции — Карл XII поверил, что разбил русских надолго и сильно недооценивал их вплоть до Полтавы. Пётр I, напротив, после поражения под _____, осознал необходимость военных реформ и сделал упор на подготовку национальных командных кадров.»

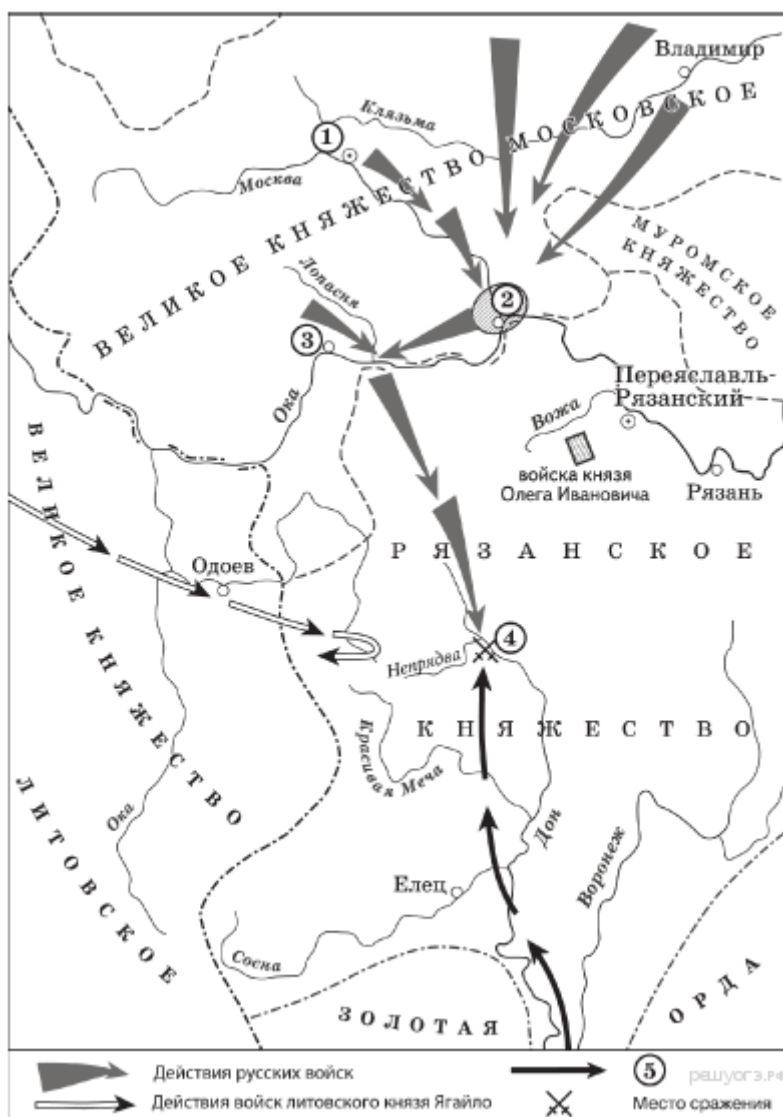
Рассмотрите схему и выполните задания 8-10



21. Прочитайте отрывок из сочинения историка и укажите цифру, обозначающую на схеме город, название которого пропущено в данном отрывке.

«Московский князь призвал всех головы свои положить за землю русскую. Местом сбора русских войск был назначен город _____. 25 августа великий князь московский прибыл в этот город. Его встретили на берегу реки Северки, притоке Москвы-реки. На утро следующего дня было приказано всем воеводам с войсками выехать за город на Девичье поле. Здесь состоялся смотр русских войск перед походом. После совета воевод русские полки 26 августа оставили город и пошли к верховьям Дона.»

Рассмотрите схему и выполните задания 8–10



22. Прочитайте отрывок из сочинения историка и укажите цифру, обозначающую на схеме город, название которого пропущено в данном отрывке.

«Разорив Рязань, завоеватели двинулись во Владимиро-Суздальскую землю. Шли они кружным путём, по течению рек. У Коломны вражеская рать встретилась со сторожевым отрядом, высланным владимирским князем Юрием Всеволодовичем, и с рязанским полком во главе с князем Романом Ингваревичем. В ожесточённом бою пало много воинов, был убит и князь Роман.

Далее на пути завоевателей лежала _____, обороной которой руководил воевода Филипп Нянка. Сопротивление жителей было сломлено, город и окрестные села сожжены неприятелем, жители перебиты «от старца и до младенца», а юный князь Владимир Юрьевич взят в плен».

Рассмотрите схему и выполните задания 8–10



24. Прочитайте отрывок из сочинения историка и укажите цифру, обозначающую на схеме город, название которого пропущено в данном отрывке.

«В этой обстановке значение союза _____ с князем должно было возрасти неизмеримо. В летописном рассказе о событиях этих лет фигура князя занимает центральное место. Князь возглавляет поход на Неву [из этого города] и прославляет своё имя в победоносной Невской битве со шведами. Можно предполагать, что усиление роли князя сопровождалось уже в это время и более активным его вмешательством в городские республиканские порядки».

Рассмотрите схему и выполните задания 8–10



25. Прочитайте отрывок из сочинения историка и укажите цифру, обозначающую на схеме город, рядом с которым произошли описанные события.

«Решающее сражение произошло на реке Шелони. Ополчение, имея значительное превосходство в силах, сражалось неохотно; москвичи же, по словам близких к Москве летописцев, «как львы рыкающие», набросились на противника и более 20 вёрст преследовали отступающих».

Рассмотрите схему и выполните задания 8–10

