

1. В государстве Z большинство предприятий находятся в частной собственности, но существуют государственные и муниципальные предприятия. Какие иные признаки из приведённых ниже свидетельствуют о том, что экономика страны Z относится к рыночному типу? Запишите цифры, под которыми они указаны.

1) Каждый имеет право на свободное использование своих способностей и имущества для предпринимательской деятельности.

2) Государство осуществляет централизованное распределение ресурсов.

3) Предприятиям приходится решать проблему ограниченности ресурсов.

4) Производители товаров и услуг конкурируют между собой за спрос потребителей.

5) В расчётах между предприятиями активно применяется безналичная форма оплаты.

6) Цены определяются соотношением спроса и предложения товаров и услуг.

2. Предприниматель решил по ,обстоятельствам личного характера, не связанным с экономической ситуацией в городе, регионе, стране, закрыть принадлежащую ему швейную фабрику. В результате 250 человек остались без работы. Городская служба занятости предлагала им различные варианты переобучения с последующим трудоустройством, но никто не согласился. Работники продолжают поиск работы по своей специальности. Найдите в приведённом списке характеристики безработицы данного типа и запишите цифры, под которыми они указаны.

1) сезонная

2) скрытая

3) фрикционная

4) циклическая

5) открытая

6) прогрессивная

3. Правительство страны Z обсудило целесообразность вступления государства в ВТО. Какая дополнительная информация позволит сделать вывод о том, что в стране Z проводится протекционистская экономическая политика? Запишите цифры, под которыми они указаны.

1) В стране Z были выделены субсидии сельскохозяйственным производителям.

2) В стране Z был принят профицитный государственный бюджет.

3) Правительством страны Z был установлен режим наибольшего благоприятствования в торговле в отношении приграничных государств.

4) В стране Z были повышены пошлины на ввоз импортной бытовой техники.

5) В стране Z была разработана программа по локализации сборки автомобилей выпускаемых иностранными производителями.

6) Центральным банком страны Z была снижена ключевая ставка.

4. В стране M наблюдается экономический рост. Какие факты из приведённого списка свидетельствуют об этом? Запишите цифры, под которыми они указаны.

Цифры укажите в порядке возрастания.

1) Согласно данным статистических служб, выросла покупательная активность населения.

2) Произошло обвальное падение валютного курса национальной денежной единицы страны M.

3) Правительство констатирует падение производства в стране.

4) Руководство нескольких крупных коммерческих банков заявило о значительном сокращении количества потребительских кредитов.

5) Согласно базе данных Всемирного банка, в текущем году в стране увеличился ВВП на душу населения.

6) Уровень безработицы среди молодёжи сократился за последние два года.

5. В стране N — командный тип экономической системы. Какие факты из приведённого списка свидетельствуют об этом? Запишите цифры, под которыми они указаны.

1) Экономические пропорции устанавливаются централизованно.

2) Основные средства производства принадлежат государству.

3) Цены на товары определяются соответствием спроса и предложения.

4) производители сами решают, какое количество товара надо произвести


5) В стране законодательно гарантируется многообразие форм собственности.

6) Ресурсы распределяются между производителями централизованно.

6. Чтобы не уступить рынок японским производителям, американские автомобильные компании «Дженерал Моторс», «Форд» и «Крайслер» стали усиленно работать над повышением качества своих машин. Какие экономические явления могут быть проиллюстрированы данной ситуацией? Запишите цифры *в порядке возрастания*, под которыми эти явления указаны.

1) факторы производства

2) конкуренция



- 3) олигополия
- 4) специализация
- 5) инфляция
- 6) стагнация

7. Большинство авиастроительных корпораций останавливает свой выбор на двигателях, произведённых одной из трёх компаний крупнейших в мире производителей авиационных двигателей. Выберите из приведённого списка характеристики данного рынка. Запишите цифры, под которыми они указаны.

Цифры укажите в порядке возрастания.

- 1) рынок товаров
- 2) монополия
- 3) мировой рынок
- 4) олигополия
- 5) фондовый рынок
- 6) местный рынок

8. В стране В только три фармакологических компании, выпускающие лекарственные препараты, пользующиеся спросом у больных. Выберите из приведённого ниже списка характеристики данного рынка и запишите цифры, под которыми они указаны.

- 1) рынок товаров и услуг
- 2) фондовая биржа
- 3) монополия
- 4) национальный рынок
- 5) олигополия
- 6) мировой рынок

9. Фирма Y — ателье по пошиву свадебных платьев. Найдите в приведённом списке примеры переменных издержек фирмы Y в краткосрочном периоде и запишите цифры, под которыми они указаны. *Цифры укажите в порядке возрастания.*

- 1) издержки на погашение процентов по ранее взятому кредиту
- 2) издержки на приобретение тканей, ниток, фурнитуры
- 3) издержки на выплату сдельной заработной платы работникам
- 4) арендная плата за помещение ателье
- 5) оплата потреблённой электроэнергией
- 6) страховые взносы

10. Людмила Анатольевна вкладывает свои сбережения в покупку ценных бумаг различных предприятий. Найдите в приведённом ниже списке ценные бумаги, которые она может приобрести в соответствии с Гражданским кодексом РФ, и запишите цифры, под которыми они указаны.


- 1) банкноты
- 2) купюры
- 3) облигации
- 4) акции
- 5) инвестиционный пай паевого инвестиционного фонда
- 6) договор о страховании имущества

11. Что относится к функциям государства в условиях рынка? Выберите верные положения и запишите цифры, под которыми они указаны.

- 1) контроль за ценами на товары и услуги
- 2) распределение факторов производства между производителями
- 3) создание общественных благ
- 4) поддержка социально незащищённых групп населения
- 5) создание условий для развития среднего и малого бизнеса

12. Граждане страны Z обычно долго ищут работу по специальности, не соглашаясь ни на какую другую. Государственная служба занятости предлагает различные варианты переобучения с последующим трудоустройством, однако эта услуга мало востребована. Выберите в приведённом ниже списке характеристики безработицы в стране Z и запишите цифры, под которыми они указаны.

- 1) сезонная
- 2) скрытая
- 3) фрикционная
- 4) добровольная
- 5) циклическая



6) открытая

13. Экономика страны Z основана на крупном машинном производстве; в ней доминирует тяжёлая промышленность. Какие признаки позволяют сделать вывод о том, что в стране Z командная (плановая) экономика? Запишите цифры, под которыми они указаны.

- 1) господство государственной собственности на средства производства
- 2) зависимость продовольственного рынка от импортных товаров
- 3) необходимость решения проблемы ограниченности ресурсов
- 4) отсутствие конкуренции производителей
- 5) директивное ценообразование
- 6) наличие трудового законодательства

14. В стране N наблюдается экономический спад. Какие факты из приведённого списка свидетельствуют об этом? Запишите цифры, под которыми они указаны.

- 1) В стране наблюдается рост доходов населения.
- 2) Производители предпочитают не делать инвестиции в долгосрочные проекты.
- 3) Статистические службы констатируют рост безработицы, особенно среди молодёжи.
- 4) В стране растёт количество коммерческих банков.
- 5) ВВП на душу населения за последние три года вырос на 4%.
- 6) Банки испытывают недостаток денежных средств.

15. Фирма «Наталья» предоставляет парикмахерские услуги. Найдите в приведённом ниже списке примеры постоянных издержек этой фирмы в краткосрочном периоде и запишите цифры, под которыми они указаны.

- 1) оплата счетов за покупку расходных материалов
- 2) сдельная оплата услуг курьера
- 3) оплата услуг охранного агентства, обеспечивающего безопасность помещения салона
- 4) окладная оплата труда администратора салона
- 5) ежемесячные выплаты по кредиту на развитие бизнеса
- 6) оплата счетов за электроэнергию по данным установленных в салоне счётчиков

16. Найдите в приведённом списке проявления интенсивного экономического роста. Запишите цифры, под которыми они указаны.

- 1) рациональная организация производства
- 2) повышение процентной ставки по кредиту
- 3) внедрение более производительной технологической линии
- 4) разведка новых месторождений цветных металлов
- 5) обучение персонала новым приемам обработки информации

17. Владельцы ателье по пошиву одежды несут постоянные и переменные издержки. Что из перечисленного ниже относится в краткосрочном периоде к переменным издержкам ателье? Запишите цифры, под которыми они указаны.


- 1) арендная плата за помещение
- 2) приобретение сырья
- 3) проценты по кредитам
- 4) расходы на рекламу
- 5) оклады менеджеров
- 6) сдельная оплата персонала

18. Центральный банк принял решение о приостановке деятельности коммерческого банка «Прогресс» в связи с проводимыми последним рискованными финансовыми операциями. Какие ещё функции выполняет Центральный банк? Запишите цифры, под которыми они указаны.

- 1) принимает вклады населения
- 2) осуществляет денежную эмиссию
- 3) выдаёт кредиты предприятиям
- 4) регулирует валютный курс
- 5) проводит расчётно-кассовые операции
- 6) кредитует банки

19. Плательщиками каких налогов является коммерческая организация, которая использует общую систему налогообложения? Найдите в приведённом списке нужные позиции и запишите цифры, под которыми эти налоги указаны.

- 1) налог на прибыль
- 2) налог на добавленную стоимость



- 3) налог на доходы физических лиц
- 4) налог на наследство
- 5) государственная пошлина

20. Правительство страны, решая проблему дефицита государственного бюджета, сократило расходы на содержание государственного аппарата. Выберите из приведённого ниже списка другие расходные статьи государственного бюджета. Запишите цифры, под которыми они указаны. *Цифры укажите в порядке возрастания.*

- 1) налоговые поступления
- 2) выплаты по международным кредитам
- 3) ликвидация последствий чрезвычайных ситуаций и стихийных бедствий федерального масштаба
- 4) национальная оборона и обеспечение безопасности государства
- 5) административные сборы и платежи
- 6) продажа государственных запасов и товаров

21. Найдите в приведённом ниже списке признаки традиционной экономической системы. Запишите цифры, под которыми они указаны.

- 1) натуральный обмен
- 2) аграрно-сырьевой характер хозяйства
- 3) интенсивные товарно-денежные отношения
- 4) диктат хозяйственного опыта предков
- 5) массовое промышленное производство
- 6) государственное ценообразование

22. Согласно статистическим данным, в стране М. в последние 5 лет наблюдается устойчивый экономический рост. Выберите из приведённого ниже списка факторы экстенсивного экономического роста. Запишите цифры, под которыми они указаны. *Цифры укажите в порядке возрастания.*

- 1) освоение целинных земель под пахоту
- 2) увеличение численности трудовых мигрантов
- 3) внедрение государственных программ переквалификации
- 4) разработка новых месторождений полезных ископаемых
- 5) реструктуризация производства на основе новых технологий
- 6) устойчивый рост курса национальной валюты

23. У Надежды сын-дошкольник, и она по согласованию с руководством предприятия занята на производстве неполный рабочий день. Какие еще категории, помимо частично занятых, включаются в численность рабочей силы страны? Запишите цифры в порядке возрастания, под которыми указаны такие категории.


- 1) домохозяйки
- 2) работающие по гибкому графику
- 3) не имеющие работы, но активно ее ищущие
- 4) отбывающие срок заключения в тюрьмах
- 5) рантье, живущие на проценты по депозитам
- 6) находящиеся в очередном отпуске

24. Найдите в приведённом ниже списке факторы, которые могут способствовать повышению спроса на новую модель автомобиля. Запишите цифры, под которыми они указаны.

- 1) банки предоставляют автокредиты на выгодных для клиентов условиях
- 2) доходы семей выросли за прошедший год
- 3) производитель сократил выпуск других моделей автомобилей
- 4) производитель активно рекламирует новую модель автомобиля
- 5) цены на новую модель автомобиля выше, чем на старую модель
- 6) налог с продаж был повышен на 1%

25. В Канаде и Австралии много земли, а население рассредоточено на больших пространствах. В связи с этими условиями здесь возникли фирмы, которые выращивают и поставляют на мировой рынок пшеницу, кормовые культуры и крупный рогатый скот. Они заботятся о заключении наиболее выгодных сделок. О каких процессах, происходящих в названных странах, свидетельствует приведенный пример? Запишите цифры, под которыми указаны эти процессы.

- 1) инфляции
- 2) специализации
- 3) монополизации
- 4) конкуренции



- 5) информатизации
- 6) девальвации

26. Поставку продуктов питания в магазины города Р осуществляет множество компаний, в число которых входят как крупные производители, так и отдельные фермерские хозяйства. Найдите в приведённом ниже списке характеристики данного рынка и запишите цифры, под которыми они указаны.

- 1) рынок информации
- 2) дефицит продукции
- 3) чистая (совершенная) конкуренция
- 4) рынок товаров
- 5) местный рынок
- 6) олигополия

27. В стране Т преобладает интенсивный путь развития экономики. Какие факторы из перечисленных ниже указывают на это? *Цифры укажите в порядке возрастания.*

- 1) рост производительности труда
- 2) низкая инфляция
- 3) рост занятости
- 4) рост сбережений населения
- 5) увеличение доли высокотехнологичных товаров в экспорте
- 6) распространение ресурсосберегающих технологий

28. В городе X на рынке сотовой связи присутствуют три компании. Найдите в приведённом ниже списке характеристики данного рынка и запишите цифры, под которыми они указаны.

- 1) местный рынок
- 2) монополия
- 3) рынок товаров
- 4) национальный рынок
- 5) олигополия
- 6) рынок услуг

29. Премьер-министр страны Т. выступил перед парламентом с докладом, в котором сообщалось о преодолении кризисных тенденций в экономике страны. Выберите из приведенного ниже списка факторы, свидетельствующие об этом. Запишите цифры, под которыми они указаны. *Цифры укажите в порядке возрастания.*


- 1) долгосрочный рост ВВП
- 2) сокращение численности безработных
- 3) спад производства
- 4) падение курса национальной валюты
- 5) сокращение дефицита бюджета
- 6) рост государственного долга

30. Япония, где земля — достаточно дефицитный ресурс, но зато имеется высококвалифицированная рабочая сила, производит и поставляет на мировой рынок видеокамеры, автомобили и электронику. В последние годы мировой рынок всё более явно ощущает воздействие растущей индустрии электроники в Корее и США. Какие явления иллюстрирует данная ситуация? Запишите цифры, под которыми эти явления указаны.

- 1) инфляцию
- 2) конкуренцию
- 3) монополизацию
- 4) специализацию
- 5) информатизацию
- 6) дифференциацию

31. Большинство производителей телефонов в мире останавливают свой выбор на жидкокристаллических дисплеях, произведённых одной из четырёх компаний, крупнейших в мире производителей жидкокристаллических дисплеев. Выберите из приведённого списка характеристики данного рынка и запишите цифры, под которыми они указаны.

- 1) рынок товаров и услуг
- 2) фондовый рынок
- 3) олигополия
- 4) монополия
- 5) рынок сырья
- 6) мировой рынок



32. В стране М правительство активно реализует политику протекционизма. Выберите из приведённого ниже списка факты, которые соответствуют данной политике. Запишите цифры, под которыми они указаны. *Цифры укажите в порядке возрастания.*

- 1) Правительство установило квоты на ввоз определённых видов товаров.
- 2) Внутренняя торговля осуществляется только фирмами с преобладающей долей отечественного капитала.
- 3) На территории страны существуют регионы — зоны свободной торговли.
- 4) Правительство установило высокие ввозные пошлины на товары некоторых отраслей производства.
- 5) Правительство объявило о процессе вхождения в состав ВТО.
- 6) Правительство обеспечило свободное хождение на территории страны иностранных валют.

33. В стране М наблюдается рост инфляции. Выберите из приведённого ниже списка факторы, которые могли этому способствовать. Запишите цифры, под которыми они указаны.

- 1) милитаризация производства и рост военных расходов государства
- 2) рост курса национальной валюты
- 3) чрезмерная кредитная экспансия
- 4) чрезмерная эмиссия бумажных денег
- 5) рост реального ВВП
- 6) увеличение численности безработных

34. Найдите в приведенном списке налоги, плательщиками которых выступают физические лица, не являющиеся ИП, и запишите цифры, под которыми они указаны.

- 1) налог на имущество предприятий
- 2) налог на добавленную стоимость
- 3) налог на имущество
- 4) налог на прибыль организаций
- 5) подоходный налог
- 6) транспортный налог

35. Аптека № 1 города N является муниципальным унитарным предприятием. Что из приведённого в списке соответствует отличительным признакам данной формы организации предпринимательской деятельности? Запишите цифры, под которыми они указаны.

Цифры укажите в порядке возрастания.

1) Высшим органом управления является общее собрание его членов, которое решает важнейшие вопросы деятельности фирмы, в том числе избирает постоянно действующие исполнительные органы – правление и/или председателя.

2) Предприниматель отвечает по своим обязательствам всем принадлежащим ему имуществом, за исключением имущества, на которое в соответствии с законом не может быть обращено взыскание.

3) Коммерческая организация не наделена правом собственности на имущество, закреплённое за ней собственником.

4) Предприятие не вправе создавать в качестве юридического лица другое предприятие путём передачи ему части своего имущества (дочернее предприятие).

5) Имущество предприятия принадлежит ему на праве хозяйственного ведения или на праве оперативного управления, является неделимым и не может быть распределено по вкладам.


6) Прибыль предприятия распределяется между его работниками в соответствии с их трудовым участием.

36. Выберите из перечня функции, присущие только Центральному банку, и запишите цифры, под которыми они указаны.

- 1) проведение расчетов и платежей в хозяйстве
- 2) посредничество в кредите между домохозяйствами и владельцами свободных денежных средств
- 3) аккумуляция и мобилизация денежного капитала
- 4) управление золотовалютными запасами страны
- 5) поддержание устойчивости курса рубля
- 6) осуществление денежной эмиссии

37. В стране Z был принят закон, регулирующий передачу крупных предприятий в частную собственность. Какие дополнительные факторы позволяют сделать вывод о том, что в стране Z осуществляется переход к рыночной экономической системе?

- 1) В стране Z был повышен размер минимальной оплаты труда.
- 2) В стране Z была отменена уголовная ответственность за покупку иностранной валюты.
- 3) В стране Z значительно вырос реальный ВВП на душу населения.
- 4) Государственный бюджет страны Z стал публиковаться в открытых источниках.
- 5) В конституции страны Z было закреплено существование различных форм собственности.



Учитель по истории и обществознанию
Стручков Александр Волынский

6) В стране Z частные инвесторы стали привлекаться к разработке мест полезных ископаемых.

38. Фирма «Добрая хозяйюшка» оказывает услуги по уборке помещений. Найдите в приведённом ниже списке примеры переменных издержек этой фирмы в кратко-срочном периоде и запишите цифры, под которыми они указаны.

- 1) издержки на приобретение мощных средств
- 2) арендная плата за офис фирмы
- 3) издержки на выплату окладов работникам административного аппарата
- 4) издержки на погашение процентов по ранее взятому кредиту
- 5) издержки на выплату сдельной заработной платы работников
- 6) оплата электроэнергии

39. Сергей решил открыть своё дело и обратился в банк за предоставлением кредита на приобретение материалов. Какие ещё функции выполняют коммерческие банки? Выберите из приведённого списка нужные позиции и запишите цифры, под которыми они указаны.

- 1) осуществление расчётов и платежей
- 2) предоставление страховых услуг
- 3) приём вкладов
- 4) регулирование денежного обращения
- 5) денежная эмиссия
- 6) поддержка курса национальной валюты

40. В государстве M вследствие снижения конкурентоспособности и высокого уровня загрязнения окружающей среды постепенно были закрыты все угольные шахты. Десятки тысяч шахтеров, потеряв работу, зарегистрировались на бирже труда, правительство обеспечивает функционирование курсов переквалификации. Выберите из приведённого ниже списка характеристики возникшей в государстве безработицы. Запишите цифры, под которыми они указаны.

- 1) массовая
- 2) структурная
- 3) циклическая
- 4) открытая
- 5) сезонная
- 6) фрикционная

41. Учащиеся социально-экономического профиля проводят семинар «Акционерные общества в современной экономике». Одно из выступлений касается статуса обыкновенной акции. Что из перечисленного ниже должно быть отмечено в этом выступлении? Запишите цифры в *порядке возрастания*, под которыми указаны верные положения.

- 1) дает право на участие в управлении фирмой
- 2) дает право на получение фиксированного дивиденда
- 3) дает первоочередное право на получение имущества фирмы в случае ее банкротства
- 4) дает право на безусловный возврат ее номинальной стоимости по истечении срока погашения
- 5) дает право на получение нефиксированных дивидендов в случае соответствующих решений
- 6) является долевой ценной бумагой

42. Решив приобрести акции крупной компании, Иван Петрович остановил свой выбор на привилегированных акциях. Выберите из приведённого ниже списка преимущества данного вида акций. Запишите цифры, под которыми они указаны.

- 1) право на первоочередное получение дивидендов
- 2) право голоса при назначении совета директоров
- 3) право голоса при внесении изменений в устав компании
- 4) право на фиксированный доход или в виде процента от стоимости акций, или определённой суммы денег, выплачиваемых независимо от результатов деятельности компании
- 5) право на приоритетное участие в распределении имущества компании при её ликвидации
- 6) право голоса при ликвидации компании

43. Иван составляет бизнес-план развития своего предприятия. Что из перечисленного ниже он может использовать как источники финансирования бизнеса? Запишите цифры, под которыми они указаны.

- 1) привлечение кредитов
- 2) налоговые отчисления
- 3) прибыль от реализации продукции предприятия
- 4) средства амортизационного фонда



5) выпуск и размещение акций предприятия

6) повышение производительности труда

44. Алексей Т. приобрёл 5 % акций ПАО «Вихрь». Какие права приобрёл Алексей Т. как новый акционер компании? Запишите цифры, под которыми они указаны.

Цифры укажите в порядке возрастания.

1) право вести от имени компании предпринимательскую деятельность

2) право на получение части прибыли компании

3) право на участие в формировании органов управления компании

4) право самостоятельно распоряжаться имуществом компании

5) право на получение части имущества компании в случае банкротства

6) право представлять компанию в налоговых и судебных органах

45. Индивидуальный предприниматель Семён за год получил доход в размере 2 млн рублей при затратах 950 тыс. рублей. 120 тыс. рублей он заплатил в качестве налога на доход, и ещё 25 тыс. рублей в качестве налога на имущество. На оставшиеся после уплаты налогов средства Семён приобрёл акции нефтяной компании, рассчитывая на высокие дивиденды. Какие экономические термины характеризуют описанную ситуацию? Запишите цифры, под которыми они указаны.

Цифры укажите в порядке возрастания.

1) макроэкономика

2) налоговый вычет

3) прибыль

4) косвенные налоги

5) прямые налоги

6) инвестиции

46. В городе Z поставку бытовой химии в магазины осуществляет множество фирм. Они предлагают разнообразную продукцию и не имеют возможности контролировать цены на неё. Найдите в приведённом списке характеристики данного рынка и запишите цифры, под которыми они указаны.

1) рынок капитала

2) дефицит товаров

3) рынок товаров

4) олигополия

5) местный рынок

6) совершенная (чистая) конкуренция

47. Решив заняться предпринимательской деятельностью, Сидоров выбрал в качестве организационно-правовой формы статус индивидуального предпринимателя. Что из приведённого в списке относится к преимуществам данного статуса?

1) упрощённый порядок ведения бухгалтерского учёта

2) льготная система налогообложения

3) полная имущественная ответственность по обязательствам

4) отсутствие компаньонов по бизнесу

5) свободное использование выручки

6) обязательная государственная регистрация

48. По окончании колледжа студент планирует открыть индивидуальное предприятие. Найдите в приведённом списке примеры трудностей, с которыми он может столкнуться при такой форме организации бизнеса, и запишите цифры, под которыми они указаны

1) высокий риск вложения капитала

2) ограниченность свободы действий

3) ограниченность средств на рекламу

4) сложность управления предприятием

5) ограниченность средств для привлечения профессионалов

49. Государство выполняет ряд функций в экономической жизни общества. Найдите в приведённом списке примеры производства общественных благ и запишите цифры.

1) государственное финансирование общеобразовательных учреждений


2) контроль над деятельностью финансовых организаций

3) проведение антиинфляционной политики

4) принятие закона о банковской деятельности

5) ликвидация последствий наводнения

6) организация работы государственного телеканала



50. В стране *N* отмечается рост инфляции. Какие факторы из перечисленных ниже могли этому способствовать? *Цифры укажите в порядке возрастания.*

- 1) сокращение объёмов потребительского кредитования
- 2) снижение курса национальной валюты
- 3) рост безработицы
- 4) дополнительная эмиссия денег для покрытия возросших государственных расходов
- 5) снижение темпов роста ВВП
- 6) значительный рост средней заработной платы в стране