

Сергеев  
Алексей  
Валерьевич

## Практикум по Истории России



На какой территории было создано Древнерусского государство?

---

---

Посмотрите на репродукцию и ответьте на следующие вопросы:



Кто является автор данной картины? Какое событие изображено на картине? Кто является князем, при описываемых событиях?

---


---

Соотнесите картинки.

Десятинная  
церковь

Софийский  
собор

Спасо-  
Преображенский  
собор



От какого государства попала в зависимость Русь в XIII веке?

---


---

Соотнесите картинки

ТИУН



КЛЮЧНИКИ



ОГНИЩАНИН



Кем был Александр Невский?

---

---

---

Опишите фрагмент картинки



---

---

Рассмотрите внимательно событие изображенное на схеме и ответьте на вопросы



Какая битва изображена на схеме? Напишите число, месяц и год данной битвы. Кто победил в данной битве? И как звали русского князя принимавшего участия в этой битве?

---

---



Какое имя в истории получил царь Иван IV?



Кто является художником данной картины? Год создания данного портрета.

---

---





Кто является автором данной картины?  
Название данной картины.

---

---



Как называется архитектурный памятник-крепость в Москве, который был построен как символ образования единого Московского государства?

---

---



Что изображено на данной картине? В конце какого века служит данное событие? Кто является автором данной картины?

---



Выберите верное суждение

Какой сын Владимира Святого основал династию полоцких князей?	
1. Изяслав	3. Борис
2. Ярослав	4. Мстислав

В 1572 г. русские войска одержали победу:	
1. под Чашниками	3. на Шелони
2. при Молодях	4. на Угре



Определите пропущенные в тексте названия, слова, имена, даты, обозначенные порядковыми номерами. Необходимые вставки впишите под соответствующими номерами в помещенную ниже таблицу.

Культура петровского времени отличалась от предыдущей эпохи «обмирщения» более быстрыми темпами (1 – термин) – процесса освобождения от церковных норм и установок. В первую очередь это касалось сферы образования и науки – в (2) году была основана светская Школа математических и (3 – название) наук по подготовке кадров для армии и флота. В (4) году была открыта Петербургская академия наук, при которой была создана научная библиотека и функционировал музей с уникальной коллекцией старины – (5 – название). В 1708 году трудночитаемый церковнославянский шрифт был заменён печатным (6 – название). Активно развивалась публицистика: основным идеологом петровских реформ был (7 – имя и фамилия), автор знаменитого «Духовного (8 – название документа)». Экономическую мысль при Петре развивал И.Т. Посошков, опубликовавший сочинение «О (9 – название) и богатстве». Прорыв был совершён и в области градостроительства: начался переход к (10 – термин) планировке городов. Первым образцом такого города стал Санкт-Петербург, объявленный столицей в (11 – год) году. Архитектурным символом нового царственного града стало здание Двенадцати (12 – орган управления), построенное итальянцем Доменико (13 – фамилия). Местом встреч дворянства стали собрания – (14 – названия). Изменениям при Петре подверглось даже времяисчисление – с (15) года страна перешла на отсчет лет от (16). Таким образом, русскую культуру первой четверти XVIII века вполне можно признать частью общемировой культуры (17 – название периода) времени.

1)	2)
3)	4)
5)	6)
7)	8)
9)	10)
11)	12)
13)	14)
15)	16)
17)	



Перед Вами юбилейные марки, выпущенные в СССР. Расположите их в хронологическом порядке выпуска и объясните Ваше решение, произведя необходимый расчет.



1)



2)



3)

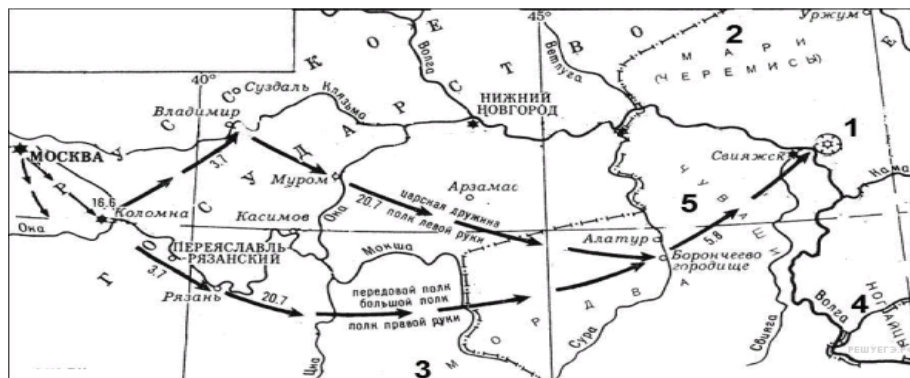


4)

Номер марки	Объяснение



Внимательно рассмотрите схему и выполните задания.



Назовите правителя, предпринявшего поход, обозначенный на схеме.



Укажите год, когда был совершен обозначенный на схеме поход.



Укажите цифру, обозначающую город, который первым на Руси подвергся нападению войск хана Батые.



Назовите город-крепость, основанный как база русских войск в ходе событий, обозначенных на схеме.



Укажите название обозначенной на карте реки, на которой находились так называемые Верховские княжества.



Запишите название христианского праздника, в дни которого русское войско одержало победу в ходе похода, изображенного на схеме, и в честь которого в Москве был воздвигнут храм в память об этой победе.



Верны ли представленные ниже утверждения («да» - «нет»)? Ответы внесите в таблицу.

На схеме обозначен город-место сбора русских войск перед Куликовской битвой	
Обозначенный на схеме поход завершился взятием Астрахани	
Участником похода, обозначенного на схеме, был Даниил Холмский	
На момент похода, показанного на схеме,	

центром русской митрополии был Суздаль	
В результате обозначенного на схеме похода был подписан Бахчисарайский мир	
Обозначенный на схеме поход состоялся позже, чем был созван первый Земский собор	
Впоследствии город Свяжск стал центром Второго ополчения в Смутное время	



Выберите верное (ые) суждение (я)

Прозвище византийского историка VI века Прокопия, оставившего известия о ранней истории восточных славян, было	
1. Римский	3. Александрийский
2. Константинопольский	4. Кесарийский

Выберите годы правления монарха, при котором началось строительство КВЖД:	
1. 1825-1855 гг.	3. 1881-1894 гг.
2. 1855-1881 гг.	4. 1894-1917 гг.

Кто из перечисленных исторических деятелей был активным участником русско-турецкой войны 1735-1739 гг.	
1. Миних Б.-Х.	3. Шереметев Б.П.
2. Ласси П.П.	4. Ушаков Ф.Ф.

В какие из перечисленных дат происходили конференции Большой тройки	
1. 1941 г.	3. 1943 г.

2. 1942 г.	4. 1945 г.
------------	------------

Какие из перечисленных терминов (выражений) связаны с эпохой И.В. Сталина	
1. «Шахтинское дело»	3. «бархатные революции»
2. «ускорение»	4. «сплошная коллективизация»

В каком году прошла Крестьянская реформа Александра II	
1. 1861 г.	3. 1863 г.
2. 1862 г.	4. 1864 г.



Внимательно изучите таблицу и ответьте на вопросы после нее.

Число приказных изб в XVII в.

Район	1626	1633	1645	1656	1664	1677	1682	1698
<b>Города южного района</b>	<b>Число приказных изб</b>							
Рязанские и окские	22	22	22	22	22	22	22	22
Украинские	13	13	13	13	13	13	13	13
Польские	9	9	-	-	-	-	-	-
Внутри Белгородской черты	-	-	8	13	15	18	18	18
- по черте	-	-	15	23	24	24	24	25
- за чертой	-	-	2	4	10	14	17	17
<b>Итого</b>	<b>44</b>	<b>44</b>	<b>60</b>	<b>75</b>	<b>84</b>	<b>91</b>	<b>94</b>	<b>95</b>





Дайте определение термину «приказная изба».

---



---



---



Объясните, почему польские города значатся в 1633 г. и не значатся в 1645 г.?

---



---



---



Охарактеризуйте развитие системы приказных изб с 1626 по 1698 гг. В городах южного района Московского государства. Какой процесс характеризуют собой данные таблицы?

---



---



---



Основываясь на таблице и на собственных знаниях, приведите три фактора, которые способствовали увеличению числа приказных изб в указанный период в данном регионе.

---



---



---



Одна из самых важных сторон деятельности историка – анализ источника, умение извлечь из него необходимую информацию. Перед Вами челобитная служилых людей с Камчатки начала XVIII века. Напишите на ее основе небольшую работу на тему «Проблемы освоение Камчатки в начале XVIII века»

«Державнейший царь, государь милостивейший! В нынешнем 711 году, в Верхнем и в Нижнем в Камчадальских острогах, прежде бывшие прикащики от нас, рабов твоих, побиты, а за что они, прикащики, побиты, и в той своей страдничьей вине подали тебе, великому государю, за руками две челобитные в Верхнем Камчадальском остроге прикащику служилому человеку Алексею Александровых, апреля в 12 день. И за такую свою страдничью вину пошли мы, раби твои, вышеписанного месяца из камчадальских острогов служить тебе, великому государю, на Большую реку, умирать изменников, которые в прошлом 707 и 710 годех тебе, великому государю, изменяли и ясачное зимовье и острог на Большой реке сожгли, а твою, великого государя, сборную ясачную казну разграбили, и прикащика со служилыми людьми побили, и с того вышеписанного 707 году но нынешней 711 год повсягодно многих служилых людей побивали ж, а твою, великого государя, сборную ясачную казну, порох, и свинец, и пищали побитых служилых людей отбили ж. И будучи мы, раби твои, на Большой реке, апреля 23 числа, лутчего иноземца Кушугу с родниками ласкою и приветом под твою царскую высокосамодержавную руку с ясачным платежом из острогу его вызывали и вызвать не могли. И ныне от нас, рабов твоих, тот его Кушугин острог крепким приступом взят; и на том приступе нас, рабов твоих, многих на смерть испереранили, а иных камением









Что с исторической точки зрения объединяет перечисленные в ряду элементы? Дайте максимально точный ответ

Ряд	Ответ
П.Н. Милюков; С.А. Муромцев; В.Д. Набоков; Ф.А. Головин	
1549 г.; 1566 г.; 1649 г.; 1653 г.	



Дайте кратко обоснование ряда (что объединяет перечисленные элементы с исторической точки зрения) и укажите, какой из элементов является лишним по данному основанию

Ряд	Общее	Лишний
С.Г. Волконский; С.П. Трубецкой; П.И. Пестель; П.Н. Дурново		
1924 г.; 1936 г.; 1961 г.; 1977 г.		



Расположите в хронологической последовательности

Издание Указа о вольных хлебопашцах	
Создание военных поселений	
Столыпинская аграрная реформа	
Отмена временнообязанного состояния крестьян	
Работа Редакционной комиссий	
Инвентарная реформа	



Определите пропущенные в тексте названия, слова, имена, даты, обозначенные порядковыми номерами. Необходимые вставки впишите под соответствующими номерами в помещенную ниже таблицу.

Первая русская революция, начавшаяся в (1) году, стала результатом отказа самодержавия решать рабочий, национальный и самый болезненный – (2 – **название** **Алексей Сергеев** стр. 10 **17.01.18**) – вопросы. Сигналом для выступления широких народных масс стало «(3 – **название**) воскресенье», когда шествие рабочих под руководством священника Георгия (4 – **фамилия**) к Зимнему дворцу было разогнано войсками. На посту министра внутренних дел (5 – **звание**) Святополк-Мирского сменил (6 – **фамилия**), взявший курс на создание и созыв палаты народных представителей – (7 – **учреждение**) с законосовещательными полномочиями. Однако представители народа не собирались сдаваться: уже весной возник первый Совет рабочих депутатов в (8 – **город**). Революционное движение в деревне вылилось в изгнание помещиков из усадеб и последующий «(9 – **название**) передел» земель между общинами. Страну накрыла и новая волна политического терроризма – в феврале был убит бывший генерал-губернатор Москвы великий князь (10 – **имя и отчество**), приговор которому вынесла партия (11 – **название партии**). К осени – отдельные забастовки на предприятиях и железных дорогах вылились в единую Всероссийскую октябрьскую политическую (12 – **термин**). Николай Второй под давлением С.Ю. (13 – **фамилия**) подписал т.н. «Манифест (14 – **число**) октября», гарантировавший населению политические права. Было объявлено о создании нового правительства – (15 – **название**) министров. Центр революционного движения из Петербурга переместился в (16 – **город**), где в (17 – **месяц**)

вспыхнуло вооружённое восстание.

1)	2)
3)	4)
5)	6)
7)	8)
9)	10)
11)	12)
13)	14)
15)	16)
17)	



Перед Вами изображения девяти русских военачальников. Их можно разделить на 3 группы по 3 военачальника в каждой, положив в основу классификации совместное участие в одной войне. Запишите в верхней строке приведенной ниже таблицы названия войн, на основании участия в которых можно разделить военачальников на 3 группы, укажите годы начала и окончания каждой войны. Во вторую строку таблицы внесите порядковые номера изображений военачальников, участвовавших в соответствующей войне.



Война(с датировкой)			
№№ изображений			



**Прочитайте отрывок из исторического источника и выполните приведенное ниже задания.**

Следуя историческим своим заветам, Россия, единая по вере и крови с славянскими народами, никогда не взирала на их судьбу безучастно. С полным единодушием и особою силою пробудились братские чувства русского народа к славянам в последние дни, когда Австро-Венгрия предъявила Сербии заведомо неприемлемые для Державного государства требования. Презрев уступчивый и миролюбивый ответ Сербского правительства, отвергнув доброжелательное посредничество России, Австрия поспешно перешла в вооружённое нападение, открыв бомбардировку беззащитного Белграда.

Вынужденные, в силу создавшихся условий, принять необходимые меры предосторожности, Мы повелели привести армию и флот на военное положение, но, дорожа кровью и достоянием наших подданных, прилагали все усилия к мирному исходу начавшихся переговоров. Среди дружественных сношений, союзная Австрия Германия, вопреки нашим надеждам на вековое доброе соседство и не внемля заверению нашему, что принятые меры отнюдь не имеют враждебных ей целей, стала домогаться немедленной их отмены и, встретив отказ в этом требовании, внезапно объявила России войну. Ныне предстоит уже не заступаться только за несправедливо обиженную родственную нам страну, но оградить честь, достоинство, целостность России и положение её среди Великих Держав. Мы непоколебимо верим, что на защиту Русской Земли дружно и самоотверженно встанут все верные наши подданные. В грозный час испытания да будут забыты внутренние распри. Да укрепится ещё теснее единение Царя с Его народом, и да отразит Россия, поднявшаяся как один человек, дерзкий натиск врага. С глубокою верою в правоту нашего дела и смиренным

упованием на Всемогущий Промысел, Мы молитвенно призываем на Святую Русь и доблестные войска Наши Божие благословение.



**Укажите год и месяц, когда был обнародован данный акт. Под каким названием вошла в историю война, о которой сообщает документ? Укажите ее годы.**

---



**В тексте указано, что Россия «единая с ... славянскими народами, никогда не взирала на их судьбу безучастно». Приведите три примера в подтверждение этого тезиса.**

---



---



---



**Автор текста пишет, что Германию и Россию в начале войны связывало «вековое доброе соседство». Приведите два примера из истории русско-германских (прусских) связей за столетие, предшествовавшие началу войны.**

---



---



---




**Какие военные операции предприняли русские армии в том же году, в котором выпущен приведенный документ? Назовите три такие операции.**





Многие деятели революционного движения в нашей стране были известны широко как современникам, так и потомкам под вымышленными фамилиями (псевдонимами). Вам предлагаются факты из биографии (или личные характеристики) этих деятелей, а также список их настоящих фамилий и портреты. На основе предложенных материалов заполните таблицу.



**А.** «Был, несомненно, самым выдающимся рабочим, которого выдвинула большевистская партия, а пожалуй, и русская революция в целом... Годы каторжных работ и всяких других испытаний обнаружили в нём огромную силу физического и нравственного сопротивления. В течение ряда лет он стоял во главе советских профессиональных союзов, знал массу и умел говорить с ней на её языке». Псевдоним взял по названию одного из сибирских городов

**Б.** «Неутомимость его в работе была беспримерна. Его мысль была одинаково напряжена в сибирской ссылке, в Британском музее или на заседании Совета Народных Комиссаров... Его образ жизни в Кремле мало отличался от его образа жизни в эмиграции. Простота обихода, воздержанность в отношении пищи, питья, одежды и всех вообще «благ» жизни вытекали у него не из каких-либо моралистических принципов, а из того факта, что умственная работа и напряженная борьба не только поглощали его интересы и страсти, но и давали ему то высшее удовлетворение, которое не оставляет места для суррогатов наслаждения».

**В.** «Энергия, воля и решимость сочетаются с эмпиризмом, близорукостью, органической склонностью к оппортунистическим решениям в больших вопросах, личной грубостью, нелояльностью и готовностью злоупотреблять властью для подавления партии».

Г. «Настоящая фамилия этого человека в сочетании с вопросами, которыми он занимался, становились иногда объектом определенных каламбуров. Ему, в свою очередь, приписывают интересное замечание: «Если у нас возле Иверской часовни на стене написано: «Религия — опиум для народа», то я бы предложил возле ВСНХ повесить вывеску: «Эмиссия — опиум для народного хозяйства»».

Д. «Вся работа по практической организации восстания проходила под руководством председателя Петроградского Совета... Можно с уверенностью сказать, что быстрым переходом гарнизона на сторону Совета и умелой постановкой работы Военно-революционного комитета партия обязана, прежде всего, и главным образом, ему».

Е. «Человек выдающихся способностей и хладнокровно беспощадный... Что же касается руководства внешней политикой, то Сюлли, Талейран и Меттерних с радостью примут его в свою компанию, если только есть такой загробный мир, куда большевики разрешают себе доступ».

Ж. «Был одной из самых влиятельных фигур советского руководства во время последней болезни Ленина (1922 – 1923) и выступал с отчетным докладом ЦК на XII-м (1923) и XIII-м (1924) партсъездах, как раньше Ленин. Он считался одним из ведущих теоретиков компартии как глава Коммунистического Интернационала».

З. «Главный оппонент В. И. Ленина на II съезде РСДРП... Захват власти большевиками воспринял отрицательно, протестовал против большевистского произвола, не мог примириться с «аракчеевским пониманием социализма и пугачевским пониманием классовой борьбы», дискредитирующими понятие социализма».

И. «Происхождение псевдонима носит случайный характер. История его появления описана в очерке Дзахо Гатуева «Мируныч». По свидетельству очевидца, псевдоним образован от одного из имен церковного календаря ... Услышав это имя, он произнес: «Величайший полководец в подполье!»

Настоящая фамилия	Псевдоним	№ портрета	Тест (буква)
Бриллиант			
Ефремов			
Ульянов			
Радомысльский			
Скрябин			
Костриков			
Цедербаум			
Джугашвили			
Бронштейн			



**В XVIII веке Россия неоднократно воевала с Османской империей. Ваша задача соотнести в таблице событие или факт и войну, к которой он относится, и поставить знак «+» в соответствующей графе таблицы. Некоторые факты могут относиться к нескольким войнам одновременно.**

Факт	Прутский поход	Война 1735-39	Война 1768-74	Война 1787-91
В ходе военных действий был взят Хотин				
Русские войска действовали в союзе с царями Имеретии и Картли-Кахетии				
Основным союзником в войне выступила Молдавия				

Русские войска действовали на территории Крыма				
В ходе военных действий был взят Очаков				
По итогам войны, России запрещалось иметь свой военный флот в Чёрном море				
Русские войска действовали в союзе со Священной Римской империей				
Основные силы русской армии не дошли до Дуная				
Русский флот нанес серьезные поражения турецкому в нескольких морских сражениях				
Россия добровольно отказалась от получения контрибуции с Турции				



Верно ли, что:

1. Владимир Святой захватил власть в Киеве, опираясь на помощь варягов?
2. Владимир Святой никогда не посещал европейские государства?
3. Старший сын Владимира Святого умер при жизни отца?
4. После вокняжения в Киеве Владимира Святого последовали гонения на христиан?
5. Владимир Святой первым из русских князей установил контакты с Англией?
6. В правление Владимира Святого Русь посетил миссионер Бруно Кверфуртский?

7. При Владимире Святом началась чеканка первых русских монет?
8. Владимир Святой был похоронен в Софии Киевской?
9. Канонизация Владимира Святого произошла при Владимире Мономахе?
10. Могила Владимира Святого были обретены Петром Могилой?
11. Киевский университет до революции носил имя Владимира Святого?
12. Владимир Святой почитается как православными, так и католиками?
13. Памятник Владимиру Святому является старейшим скульптурным памятником Киева?

ВЕРНО	НЕВЕРНО



Перед Вами – отрывки из исторических источников, повествующих о пожарах Москвы. Соотнесите фрагменты с предложенными датами. Дайте обоснование датировки ссылками на текст источников. Ответ оформите в виде таблицы. Обратите внимание: две даты в предложенной таблице – лишние.

**Фрагмент № 1.** 24-го мая, в день Вознесения, татары из Крыма совершенно сожгли главный город московита Москву; в этом пожаре сгорели более 40000 домов, господских усадеб и жилищ со всеми церквями и амбарами, и погибло около трехсот тысяч человек, старых и молодых. Этот пожар продолжался всего только три часа. Потому что татары пришли в 8 часов утра с 40000 человек и зажгли город, а в 11 уже все сгорело до тла. Тут московиту было отплачено за все, что он сделал с бедной Ливонией и Финляндией прошлую зимою.

**Фрагмент № 2.** Солдаты десятками бегали в город, выхватывали из горящих русских домов всякие жизненные припасы, напитки, одежду, возвращались с этой добычей в лагерь и делились даже с офицерами, которые были всему этому очень рады... В таком положении пробыли мы до третьего дня, когда наконец были снаряжены команды под начальством офицеров и охраной Старой гвардии, чтобы идти в город и взять оттуда одежды и припасов. Там, проходя мимо погребов, можно было видеть там пьяных солдат, которые с бутылками в руках кричали проходящим: «Сюда, товарищ!»

**Фрагмент №3.** Седмочисленныя же боляре Московския державы и всю власть Русския земли предаша в руце литовских воеводъ. Того же лета, марта въ 19, излияся фиаль горести, царствующему граду Москве разорение. Падоша тогда высокоздания домове, иже красотами блистающиися, огнем поядошася, и вси мудроверхия церкви, яже преже божественною славою сияюще, скверными руками до конца разоришася. И множество христиансково народа мечемъ плеча литовскаго отсекошася, а инии от домовъ своихъ и от града скокомъ бежаша, понеже спастися желаху. И тако литовския люди обладаша Москвою два лета и 5 месяць бедно же, поне и русския люди не отступиша и убивающе многихъ.

**Фрагмент №4.** И отвориша врата градная, и выйдоша съ своимъ княземъ и с дары многими к царю... И в томъ часе начаша татарове сечи их по ряду напрасно. Преже всех их убиень бысть князь Остей пред градом, и потом начаша сечи попов и игуменов, аще и в ризах съ кресты, и черных люди.<...> И бяше дотолѣ, преже видети, была Москва град великъ, град чюдень, градъ многочеловечень. И ныне видети его нечего, разве токмо земля, и персть, и прах, и пепел. <...> Тогда же бысть сущу Киприану митрополиту на Тфери, и тамо избывшу ему ратнаго нахождения, и приеха на Москву октября 7.

**Фрагмент № 5.** И так как народ все еще был в большом страхе, вспоминая о недавнем нашествии татар, то Борис приказывал поджигать Москву в разных местах, и сгорело более 200 домов, и все поджигатели были подкуплены Борисом; таким образом, он снова навел страх на всю страну; сверх того, он послал воеводами в пограничные города несколько человек, которые лживо писали, что крымский хан с большим войском снова готовится вторгнуться в страну, и посылали письма с такими вестями в Москву, так что повергли всю страну в такой страх, что народ забыл обо всех делах и забыл о смерти или убиении Димитрия.

**Фрагмент № 6.** В коллегии, канцелярии и конторы к описям после случившегося на Троицу пожара определить людей добрых, кого Сенатская контора заблагорассудит. После пожара на тех местах, где денежная казна стояла и прочие медали и погорели, сыскивать слитков серебра, меди и медали, и отдавать на Монетный двор<...>, о том к тайному советнику и кавалеру графу Михаилу Гавриловичу Головкину послать указ. О судьбе колокола Моториных особое розыскание надлежит произвести. В Артиллерийскую Контору подтвердить указом, чтоб в Москве в городе пороха отнюдь не держали ни чьего. **Фрагмент №7.** Июня 21 во вторник загореся храм Воздвижение честнаго Креста за Неглимною на Арбатской... А митрополита Макария едва вызвавши из церкви, великаго для поущения Божия дымнаго духа едва не подзадохся... А стоял царь князь великий в своем селе в Воробьеве и з своею царицею з великою княгинею Анастасиею. Того же месяца 26 на пятый день после пожару черные люди града Москвы всколебашася и убиша камением царева великого князя болярина князя Юрья Васильевича Глинского.

Дата	Номер фрагмента	Основания для датировки
1382		
1408		
1547		
1571		



1591		
1611		
1714		
1737		
1812		



Дайте краткое обоснование ряда.

Ряд	Ответ
Финифть, зернь, чернь, скань 1097 г.; 1100 г.; 1102 г.; 1103 г.	



Дайте кратко обоснование ряда (что объединяет перечисленные элементы с исторической точки зрения) и укажите, какой из элементов является лишним по данному основанию

Ряд	Общее	Лишний
964-972 гг.; 1015-1019 гг.; 1093-1113 гг.; 1125-1132 гг.		
1346 г.; 1356 г.; 1380 г.; 1415 г.		