

6 класс

# КОНТУРНЫЕ КАРТЫ

С ЗАДАНИЯМИ

## История Средних веков



АСТ-ПРЕСС  
ИЗДАТЕЛЬСКИЙ ДОМ

## Правила работы с контурными картами

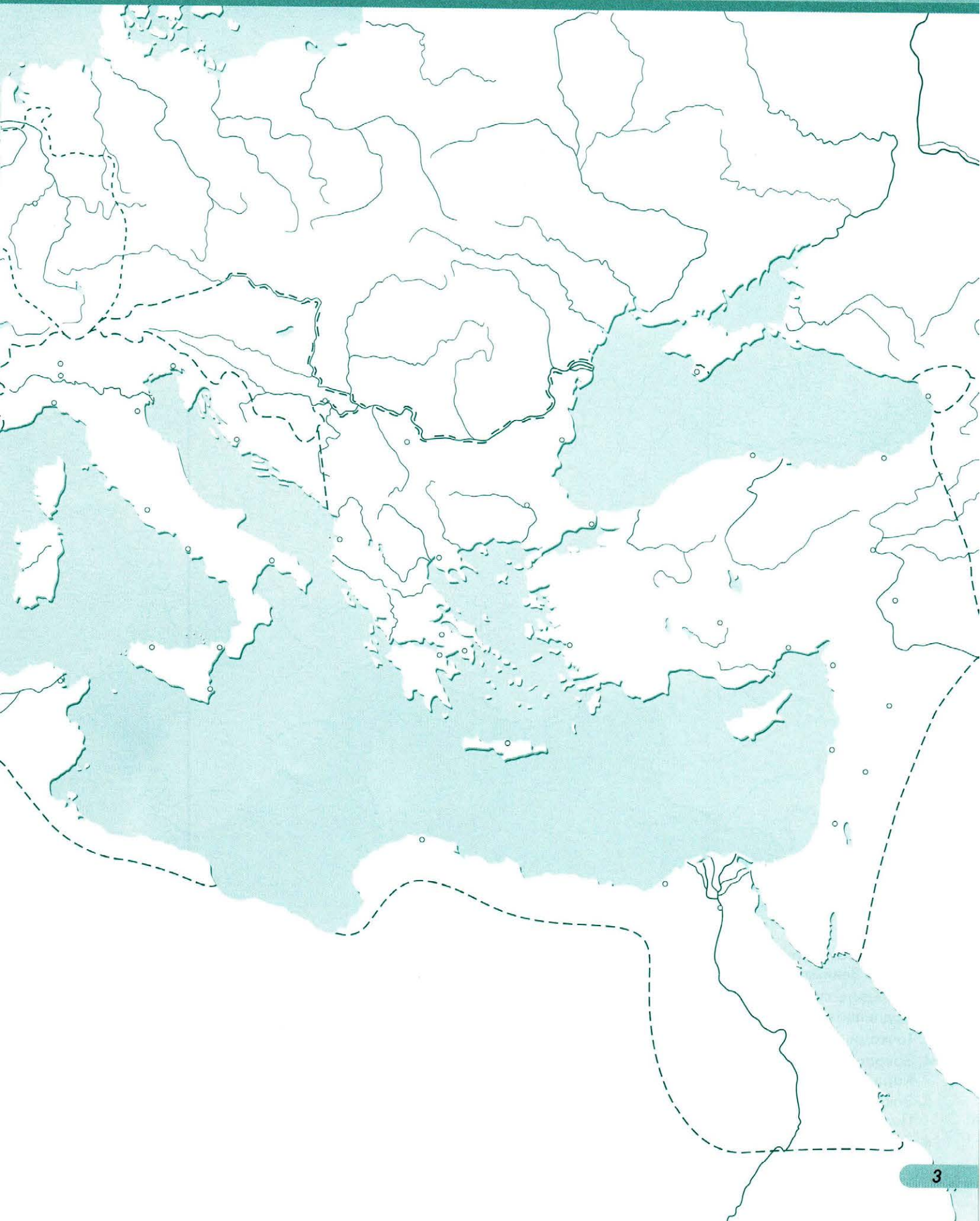
1. *Перед началом работы прочитайте соответствующий параграф учебника. Задания выполняйте с помощью учебника и карт атласа.*
2. *Прочитайте задание и определите ход его выполнения.*
3. *Выберите условные знаки и укажите их в плашках рядом с заданиями. При подборе знаков используйте карты атласа, а также предлагайте свои варианты знаков.*
4. *При нанесении объектов на карту соблюдайте точность их положения, ориентируясь по рекам, береговой линии, границам.*
5. *Надписи на карте выполняйте сначала простым карандашом, а после проверки — ручкой.*

## Задания

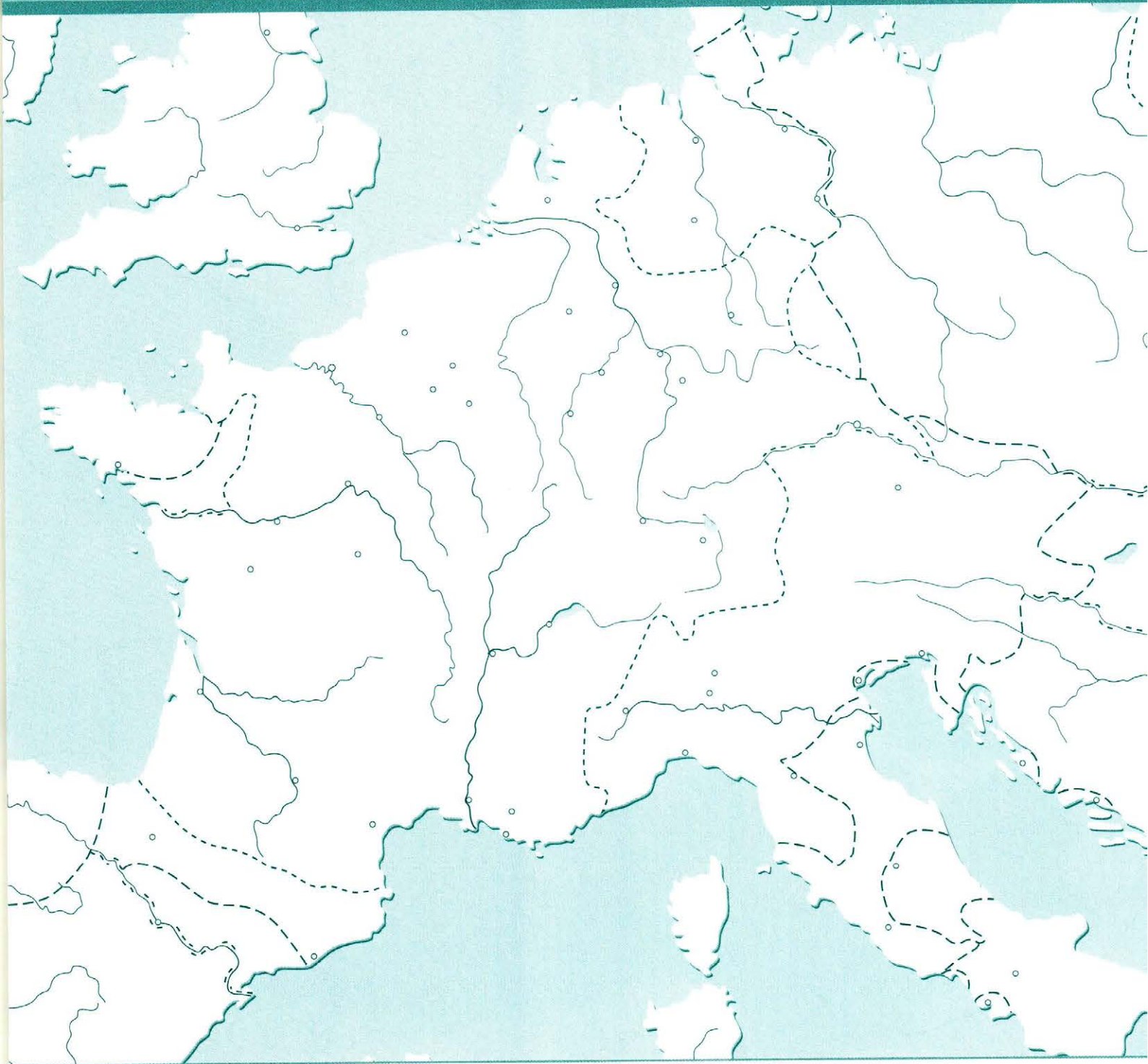
1. Обведите линией зелёного цвета границы Византийской империи в 527 году.
2. Закрасьте зелёным цветом территории, присоединённые к Византийской империи при Юстиниане I.
3. Подпишите на карте название столицы Византийской империи.
4. Подпишите названия королевств варваров.
5. Подчеркните название варварского королевства, созданного Хлодвигом.
6. Коричневым цветом подпишите название племени лангобардов в месте их первоначального расселения. Нанесите стрелками коричневого цвета направление вторжения лангобардов в Италию.
7. Красным цветом подпишите место расселения славянских племён и нанесите стрелками красного цвета направления их вторжений в пределы Византийской империи.



**Для выполнения  
дополнительных заданий**



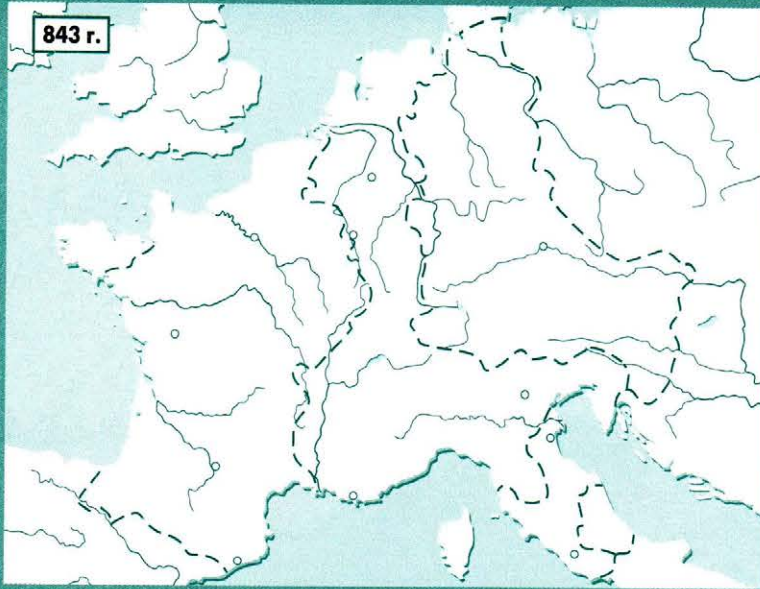
# Империя Карла Великого и её распад



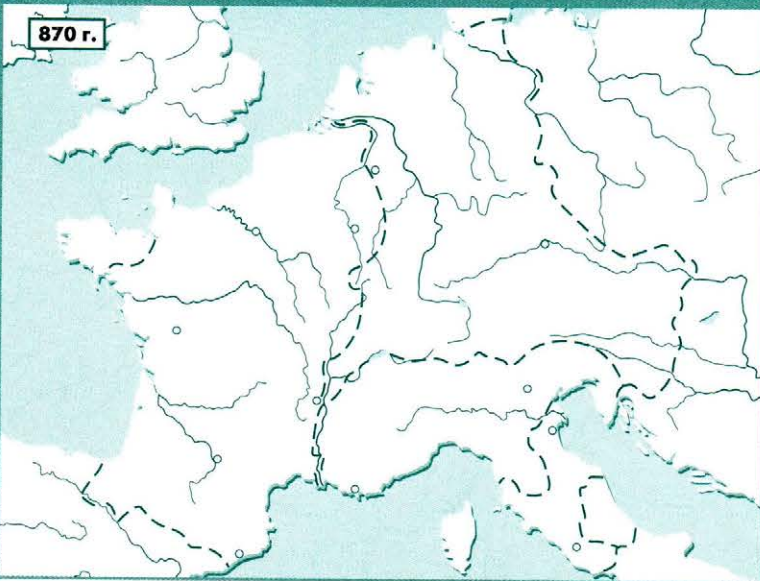
## Задания

1. Обведите линией синего цвета границы Франкского королевства к началу правления Карла Великого.
2. Обведите линией красного цвета границы земель, завоеванных Карлом Великим. Подпишите названия этих территорий.
3. Точками красного цвета отметьте район восстания саксов.
4. Закрасьте зелёным цветом пунсон города, где был коронован императорской короной Карл Великий. Подпишите название города и дату этого события.
5. Закрасьте синим цветом пунсон города, ставшего любимой резиденцией императора. Подпишите название этого города.
6. Закрасьте жёлтым цветом территорию государства Папская область и подпишите его название.


843 г.



870 г.



Для выполнения  
дополнительных  
заданий

### Задания

1. Заштрихуйте синим цветом территорию, отошедшую к Карлу Лысому в результате распада империи Карла Великого.
2. Заштрихуйте жёлтым цветом территорию, отошедшую к Лотарю в результате распада империи Карла Великого.
3. Заштрихуйте зелёным цветом территорию, отошедшую к Людовику Немецкому в результате распада империи Карла Великого.
4. Обведите линией синего цвета границу Западно-Франкского королевства.
5. Обведите линией зелёного цвета границу Восточно-Франкского королевства.
6. Обведите линией жёлтого цвета границу королевства Италия.

<input type="checkbox"/>
<input type="checkbox"/>
<input type="checkbox"/>
<input type="checkbox"/>
<input type="checkbox"/>
<input type="checkbox"/>



Для выполнения  
дополнительных заданий



**Задания**

1. Линией синего цвета обведите границы Священной Римской империи.
2. Закрасьте коричневым цветом территории областей первоначального проживания норманнов.
3. Нанесите стрелками коричневого цвета основные направления набегов норманнов на земли европейских стран. Подпишите названия этих стран.
4. Закрасьте жёлтым цветом территории, захваченные норманнами.
5. Подпишите названия островов в Норвежском море, открытых норманнами.
6. Подпишите название герцогства, воины которого завоевали Англию.
7. Обозначьте крестиком красного цвета место сражения между англосаксами и завоевателями. Подпишите дату этого события.
8. Стрелками красного цвета нанесите направления вторжения венгров в Европу.
9. Обведите линией красного цвета границы Венгерского королевства. Подпишите дату его образования.

# Образование Арабского халифата



## Задания

1. Закрасьте зелёным цветом пунсон города, где начал проповедовать Мухаммед. Подпишите название города.
2. Закрасьте синим цветом пунсон города, куда Мухаммед и его сторонники бежали от преследований. Подпишите название города и дату события.
3. Заштрихуйте зелёным цветом территорию мусульманского государства на момент смерти Мухаммеда.
4. Закрасьте красным цветом пунсоны столиц Арабского халифата и подпишите их названия.
5. Подпишите названия стран и областей, захваченных арабами. Укажите даты их захватов.
6. Линией зелёного цвета обведите границы Арабского халифата к 750 году.
7. Отметьте крестиком чёрного цвета место сражения арабов с вестготами. Подпишите дату этого сражения.
8. Отметьте крестиком красного цвета место сражения, в результате которого был остановлен натиск арабов на Европу. Подпишите дату и название города, рядом с которым произошло это сражение.



# КОНТРОЛЬНЫЕ ЗАДАНИЯ ПО ИСТОРИИ СРЕДНИХ ВЕКОВ

УЧЕНИ \_\_\_\_\_

\_\_\_\_\_ КЛАССА \_\_\_\_\_ ШКОЛЫ

## ТЕМА 1. ВАРВАРСКИЕ КОРОЛЕВСТВА И ВИЗАНТИЙСКАЯ ИМПЕРИЯ

**1.1. ОТМЕТЬТЕ МОРЯ, ОМЫВАВШИЕ ЗЕМЛИ ГОСУДАРСТВА ТЕОДОРИХА ВЕЛИКОГО**



- Средиземное
- Тирренское
- Черное
- Ионическое

**1.2. ОТМЕТЬТЕ МОРЯ, ОМЫВАВШИЕ ЗЕМЛИ ВИЗАНТИЙСКОЙ ИМПЕРИИ**

- Каспийское
- Эгейское
- Ионическое
- Тирренское

## ТЕМА 2. ИМПЕРИЯ КАРЛА ВЕЛИКОГО И ЕЕ РАСПАД

**2.1. ОТМЕТЬТЕ ОБЛАСТИ И ЗЕМЛИ, НЕ ВХОДИВШИЕ В СОСТАВ ФРАНКСКОГО ГОСУДАРСТВА К НАЧАЛУ ПРАВЛЕНИЯ КАРЛА ВЕЛИКОГО**



- Аквитания
- Каринтия
- Саксония
- Бургундия

**2.2. ОТМЕТЬТЕ ОБЛАСТИ И ЗЕМЛИ, ВХОДИВШИЕ В СОСТАВ ФРАНКСКОЙ ИМПЕРИИ К КОНЦУ ПРАВЛЕНИЯ КАРЛА ВЕЛИКОГО**

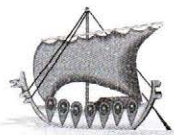
- Саксония
- Нейстрия
- Ломбардия
- Папская область

**2.3. ЗАПОЛНИТЕ ПРОПУСК В ОТРЫВКЕ ИЗ ХРОНИКИ ПРИДВОРНОГО ЛЕТОПИСЦА КАРЛА ВЕЛИКОГО НАЗВАНИЕМ НАРОДА, НЕОДНОКРАТНО ВОССТАВАВШЕГО ПРОТИВ ВЛАСТИ ИМПЕРАТОРА**

«...Не было войны более затяжной, жестокой и тяжкой для народа франкского, чем война с \_\_\_\_\_. Ибо \_\_\_\_\_, как почти все народы населяющие Германию, жестокие по природе, преданные служители демонов, супротивники веры нашей, не считали зазорным осквернять и преступать законы божеские и человеческие»

## ТЕМА 3. ЕВРОПА В VIII-XI ВЕКАХ. ПОХОДЫ НОРМАННОВ. ВТОРЖЕНИЕ ВЕНГРОВ И АРАБОВ В ЕВРОПУ

**3.1. ОТМЕТЬТЕ СТРАНЫ, НАРОДАМ КОТОРЫХ ПРИШЛОСЬ ВЕСТИ БОРЬБУ С НАБЕГАМИ НОРМАННОВ**



- Венгрия
- Италия
- Франция
- Византийская империя

**3.2. ОТМЕТЬТЕ СТРАНЫ, НАРОДАМ КОТОРЫХ ПРИШЛОСЬ ВЕСТИ БОРЬБУ С НАБЕГАМИ ВЕНГРОВ**

- Италия
- Франция
- Византийская империя
- Германия

## ТЕМА 4. ВИЗАНТИЙСКАЯ ИМПЕРИЯ И ЕЁ СОСЕДИ В IX-XI ВЕКАХ



**4.1. ПОДСЧИТАЙТЕ, СКОЛЬКО ЛЕТ ПРОШЛО ОТ ЗАХВАТА КОНСТАНТИНОПОЛЯ КРЕСТОНОСЦАМИ ДО ВОССТАНОВЛЕНИЯ ВИЗАНТИЙСКОЙ ИМПЕРИИ**

**4.2. ПОДСЧИТАЙТЕ, СКОЛЬКО ЛЕТ ПРОШЛО ОТ НАЧАЛА ПРАВЛЕНИЯ МАКЕДОНСКОЙ ДИНАСТИИ ДО ПАДЕНИЯ ПЕРВОГО БОЛГАРСКОГО ЦАРСТВА**

## ТЕМА 5. ЗАВОЕВАНИЯ АРАБОВ И ОБРАЗОВАНИЕ АРАБСКОГО ХАЛИФАТА В VII-IX ВЕКАХ



**5.1. ОТМЕТЬТЕ ГОРОД, ЯВЛЯВШИЙСЯ СТОЛИЦЕЙ АРАБСКОГО ХАЛИФАТА С СЕРЕДИНЫ VII ДО СЕРЕДИНЫ VIII ВЕКА**

- Мекка
- Дамаск
- Багдад
- Александрия

**5.2. ОТМЕТЬТЕ ГОРОД, СТАВШИЙ СТОЛИЦЕЙ АРАБСКОГО ХАЛИФАТА СО ВТОРОЙ ПОЛОВИНЫ VIII ВЕКА**

- Мекка
- Багдад
- Дамаск
- Медина

## ТЕМА 6. КРЕСТОВЫЕ ПОХОДЫ



**6.1. ОТМЕТЬТЕ ГОСУДАРСТВА, В КОТОРЫХ НАЧИНАЛИСЬ ПОХОДЫ КРЕСТОНОСЦЕВ**

- Польша
- Франция
- Англия
- Германия

**6.2. ОТМЕТЬТЕ ГОСУДАРСТВА, ПОДВЕРГШИЕСЯ НАПАДЕНИЮ КРЕСТОНОСЦЕВ**

- Государство Сельджуков
- Византийская империя
- Венгрия
- Италия

## ТЕМА 7. РЕКОНКИСТА. ПИРЕНЕЙСКИЕ ГОСУДАРСТВА В IX-XV ВЕКАХ

**7.1. ОТМЕТЬТЕ НАЗВАНИЕ КРУПНЕЙШЕГО МУСУЛЬМАНСКОГО ГОСУДАРСТВА НА ПИРЕНЕЙСКОМ ПОЛУОСТРОВЕ В X-XI ВЕКАХ**

- Гранадский эмират
- Королевство Арагон
- Кордовский халифат
- Государство Альмохадов

**7.2. ОТМЕТЬТЕ КРУПНЕЙШЕЕ МУСУЛЬМАНСКОЕ ГОСУДАРСТВО НА ПИРЕНЕЙСКОМ ПОЛУОСТРОВЕ В XIV-XV ВЕКАХ**

- Государство Альмохадов
- Гранадский эмират
- Королевство Португалия
- Кордовский халифат

## ТЕМА 8. ОБЪЕДИНЕНИЕ ФРАНЦИИ В XII-XV ВЕКАХ



**8.1. ВПИШИТЕ В ТАБЛИЦУ В ХРОНОЛОГИЧЕСКОМ ПОРЯДКЕ ЗЕМЛИ, ПРИСОЕДИНЕННЫЕ К КОРОЛЕВСКОМУ ДОМЕНУ И ДАТЫ ИХ ПРИСОЕДИНЕНИЯ: БРЕТАНЬ, АНЖУ, ПУАТУ, ДОФИНЭ, ПРОВАНС, НОРМАНДИЯ**

Название	Дата

**8.2. ВПИШИТЕ В ТАБЛИЦУ В ХРОНОЛОГИЧЕСКОМ ПОРЯДКЕ ЗЕМЛИ, ПРИСОЕДИНЕННЫЕ К КОРОЛЕВСКОМУ ДОМЕНУ И ДАТЫ ИХ ПРИСОЕДИНЕНИЯ: ТУРЕНЬ, МАРШ, АЛАНСОН, ПИКАРДИЯ, ШАМПАНЬ, ЛАНГЕДОК**

Название	Дата

## ТЕМА 9. АНГЛИЯ И ФРАНЦИЯ В XIV-XV ВЕКАХ. СТОЛЕТНЯЯ ВОЙНА



**9.1. ОТМЕТЬТЕ СРАЖЕНИЯ, В КОТОРЫХ ПОБЕДУ ОДЕРЖАЛИ ФРАНЦУЗСКИЕ ВОЙСКА**

- При Орлеане
- При Азенкуре
- При Пуатье
- При Патэ

**9.2. ОТМЕТЬТЕ СРАЖЕНИЯ, В КОТОРЫХ ПОБЕДУ ОДЕРЖАЛИ АНГЛИЙСКИЕ ВОЙСКА**

- При Париже
- При Креси
- При Азенкуре
- При Орлеане

## ТЕМА 10. СВЯЩЕННАЯ РИМСКАЯ ИМПЕРИЯ И ИТАЛИЯ В XII-XV ВЕКАХ

**10.1. ОТМЕТЬТЕ ИТАЛЬЯНСКИЕ ГОРОДА, ВЫСТУПИВШИЕ ПРОТИВ ВЛАСТИ ИМПЕРАТОРА ФРИДРИХА I**

- Милан
- Парма
- Рим
- Равенна

**10.2. ОТМЕТЬТЕ ИТАЛЬЯНСКИЕ ГОРОДА, СОХРАНИВШИЕ ВЕРНОСТЬ ИМПЕРАТОРУ ФРИДРИХУ I**

- Бергамо
- Сиена
- Павия
- Римини

**10.3. ОТМЕТЬТЕ ЦИФРОЙ «1» ЗЕМЛИ И ГОСУДАРСТВА, ВХОДИВШИЕ В XII-XIII ВЕКАХ В СОСТАВ СВЯЩЕННОЙ РИМСКОЙ ИМПЕРИИ, ЦИФРОЙ «2» — ЗЕМЛИ И ГОСУДАРСТВА, НЕЗАВИСИМЫЕ ОТ НЕЁ**

Папская область	
Тоскана	
Ломбардия	
Верона	
Венеция	
о. Сицилия	

**10.4. ОТМЕТЬТЕ ЦИФРОЙ «1» ЗЕМЛИ И ГОСУДАРСТВА, ВХОДИВШИЕ В XIV-XV ВЕКАХ В СОСТАВ СВЯЩЕННОЙ РИМСКОЙ ИМПЕРИИ, ЦИФРОЙ «2» — ЗЕМЛИ И ГОСУДАРСТВА, НЕЗАВИСИМЫЕ ОТ НЕЁ**

Республика Флоренция	
Пьемонт	
Папская область	
Республика Генуя	
Республика Сиена	
о. Сицилия	

## ТЕМА 11. МОНГОЛЬСКИЕ ЗАВОЕВАНИЯ XIII ВЕКА. ДЕРЖАВА ЧИНГИСХАНА И ЕГО НАСЛЕДНИКОВ

**11.1. ОТМЕТЬТЕ СТРАНЫ И ПЛЕМЕНА, ВОШЕДШИЕ В СОСТАВ УЛУСА ВЕЛИКОГО ХАНА**



Уйгуры	<input type="checkbox"/>
Тибет	<input type="checkbox"/>
Татары	<input type="checkbox"/>
Половцы	<input type="checkbox"/>
Армения	<input type="checkbox"/>
Тангуты	<input type="checkbox"/>

**11.2. ОТМЕТЬТЕ ГОРОДА, ПОДВЕРГШИЕСЯ НАПАДЕНИЮ И РАЗГРОМУ СО СТОРОНЫ МОНГОЛОВ**

Ургенч	<input type="checkbox"/>
Багдад	<input type="checkbox"/>
Дели	<input type="checkbox"/>
Каракорум	<input type="checkbox"/>
Булгар	<input type="checkbox"/>
Самарканд	<input type="checkbox"/>

## ТЕМА 12. ЗАВОЕВАНИЯ ТУРОК-ОСМАНОВ В XIV-XV ВЕКАХ. БАЛКАНСКИЕ СТРАНЫ В XIV ВЕКЕ

**12.1. ОТМЕТЬТЕ ОБЛАСТИ, ВХОДИВШИЕ В СОСТАВ ВИЗАНТИЙСКОЙ ИМПЕРИИ В 1340 Г.**

- Македония
- Босния
- Фракия
- Фессалия

**12.2. ОТМЕТЬТЕ ОБЛАСТИ, ВХОДИВШИЕ В СОСТАВ КОРОЛЕВСТВА СЕРБИЯ ПРИ СТЕФАНЕ ДУШАНЕ В 1355 Г.**

- Эпир
- Македония
- Валахия
- Зета

**12.3. ВПИШИТЕ НАЗВАНИЕ ГОРОДА В ПРОПУСК В ОТРЫВКЕ ИЗ РАБОТЫ ВИЗАНТИЙСКОГО ИСТОРИКА ДУКА (XV В.)**

«12 мая, в день решающего штурма, счастье склонилось в сторону турок. Они приставили к стенам \_\_\_\_\_ лестницы и, словно орлы, взбирались по ним. Против одного ромея было более 20 турок. Спасения не было. Император Константин бросился в гущу врагов. Он искал смерти. Над ним скрестились копыя и ятаганы. Последний ромейский правитель пал смертью героя. Его нашли только на другой день, узнав по обуви, украшенной золотыми орлами».

## ТЕМА 13. ГОСУДАРСТВА И НАРОДЫ ДОКОЛУМБОВОЙ АМЕРИКИ

**13.1. ОТМЕТЬТЕ ГОСУДАРСТВА, СУЩЕСТВОВАВШИЕ НА ТЕРРИТОРИИ ЮЖНОЙ АМЕРИКИ**



- Государство ацтеков
- Государство инков
- Государство майя
- Государство чибча-муисков

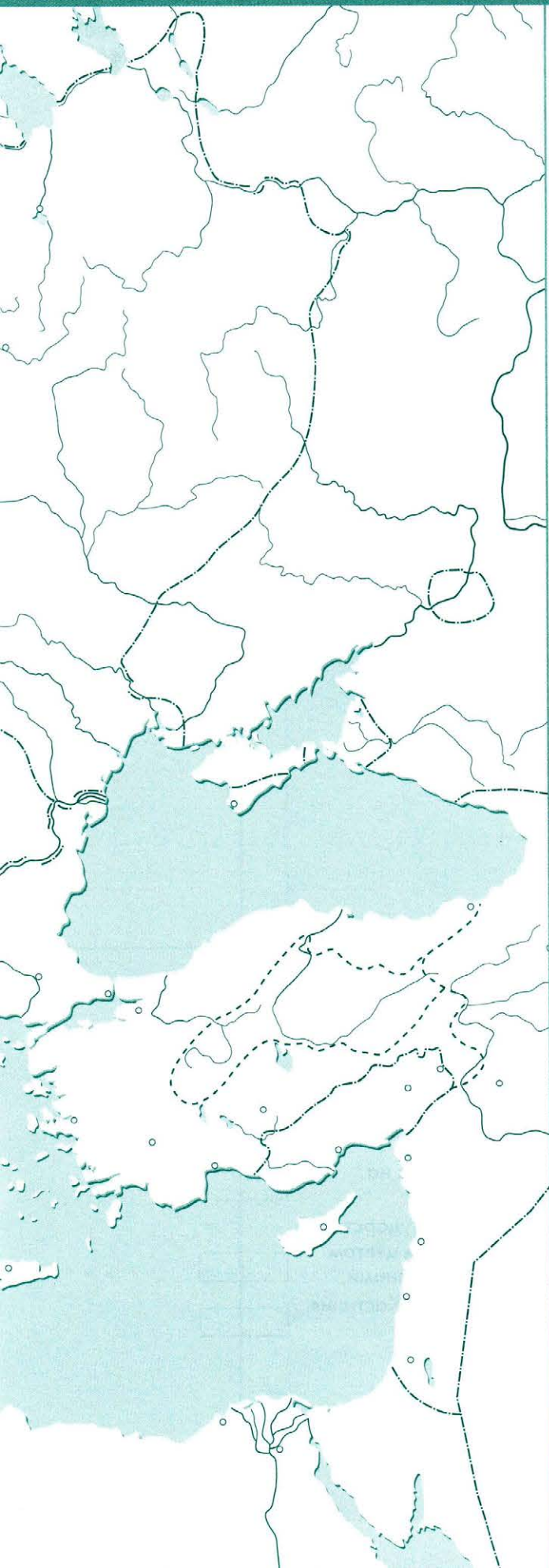
**13.2. ОТМЕТЬТЕ ГОРОДА, ВХОДИВШИЕ В СОСТАВ ГОСУДАРСТВА ИНКОВ**

- Куско
- Теночтитлан
- Кито
- Кахамарка

Для выполнения  
дополнительных заданий







### Задания

1. Отметьте крестиком зелёного цвета и подпишите название города, в котором Папа объявил о начале Крестовых походов. Подпишите дату этого события.
2. Закрасьте красным цветом пунсоны городов, в которых начались Крестовые походы.
3. Подпишите чёрным цветом названия стран, принявших наиболее активное участие в Крестовых походах.
4. Стрелками красного цвета нанесите направления Первого крестового похода. Над стрелками подпишите его дату.
5. Крестиком красного цвета отметьте город Иерусалим, захваченный крестоносцами в результате Первого крестового похода. Подпишите дату этого события.
6. Стрелками синего цвета нанесите направления Второго крестового похода. Над стрелками подпишите его дату.
7. Нанесите черным цветом границы государств крестоносцев во второй половине XII века. Закрасьте жёлтым цветом территории этих государств.
8. Стрелками зелёного цвета нанесите направления Третьего крестового похода. Над стрелками подпишите его дату.
9. Отметьте крестиком чёрного цвета город, в котором закончился Четвёртый крестовый поход. Подпишите название города.

Для выполнения  
дополнительных заданий

Для выполнения  
дополнительных  
заданий



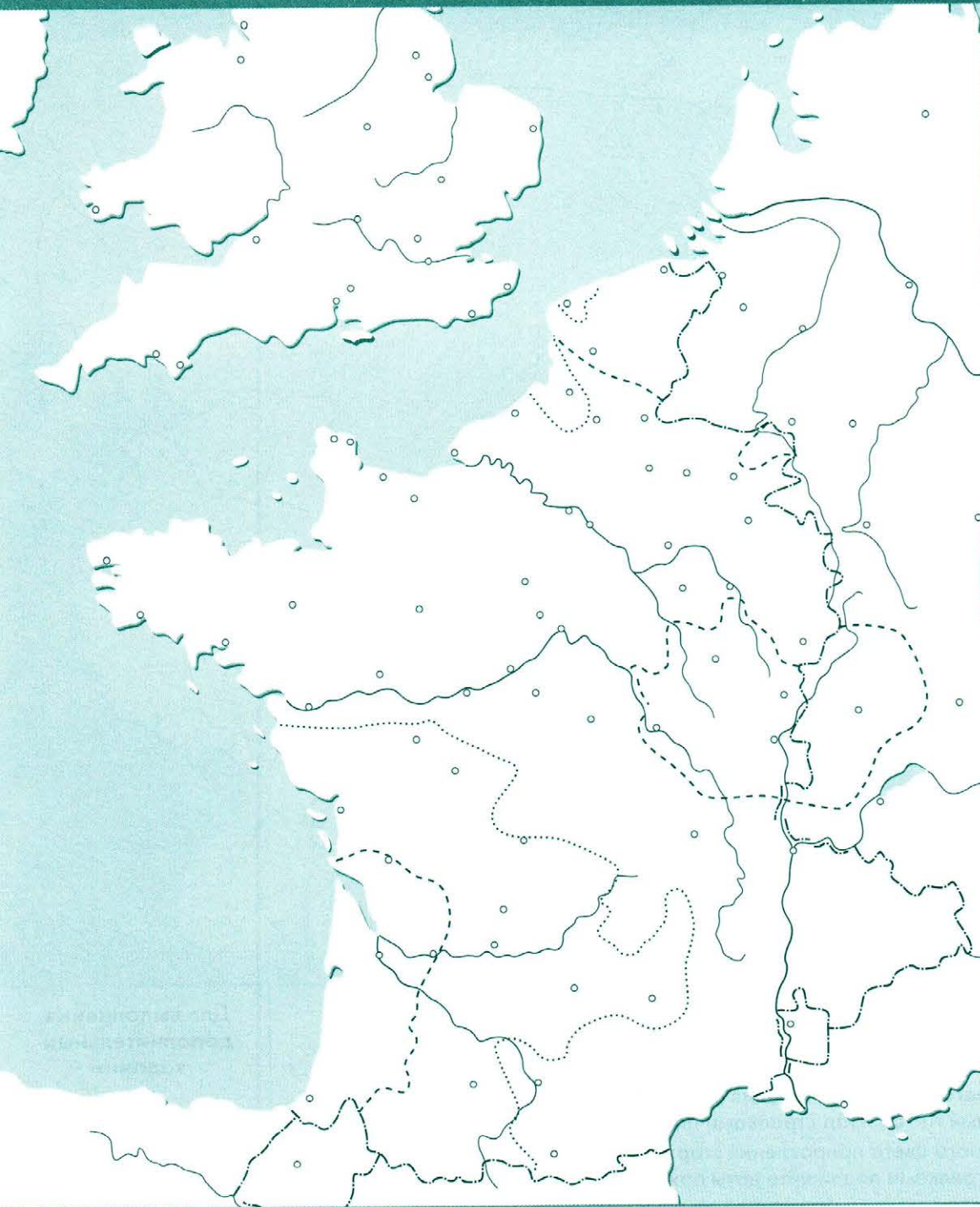
## Задания

1. Кругом зелёного цвета отметьте столицу мусульманского государства на Пиренейском полуострове в X—XI веках. Подпишите её название.
2. Обведите линией жёлтого цвета южные границы христианских государств на территории Пиренейского полуострова к XI веку. Подпишите названия этих государств.
3. Обведите линией синего цвета границы Португалии в XII веке. Подпишите название государства Португалия.
4. Обведите линией красного цвета южную границу христианских государств на территории Пиренейского полуострова в XII веке.
5. Обведите линией зелёного цвета границу последнего мусульманского государства на Пиренейском полуострове. Подпишите название государства. Зелёным цветом закрасьте пунсон столицы. Подпишите её название и дату захвата христианами.
6. Обведите линией коричневого цвета границу объединённого Королевства Кастилия и Арагон.

<input type="text"/>
<input type="text"/>
<input type="text"/>
<input type="text"/>
<input type="text"/>
<input type="text"/>
<input type="text"/>

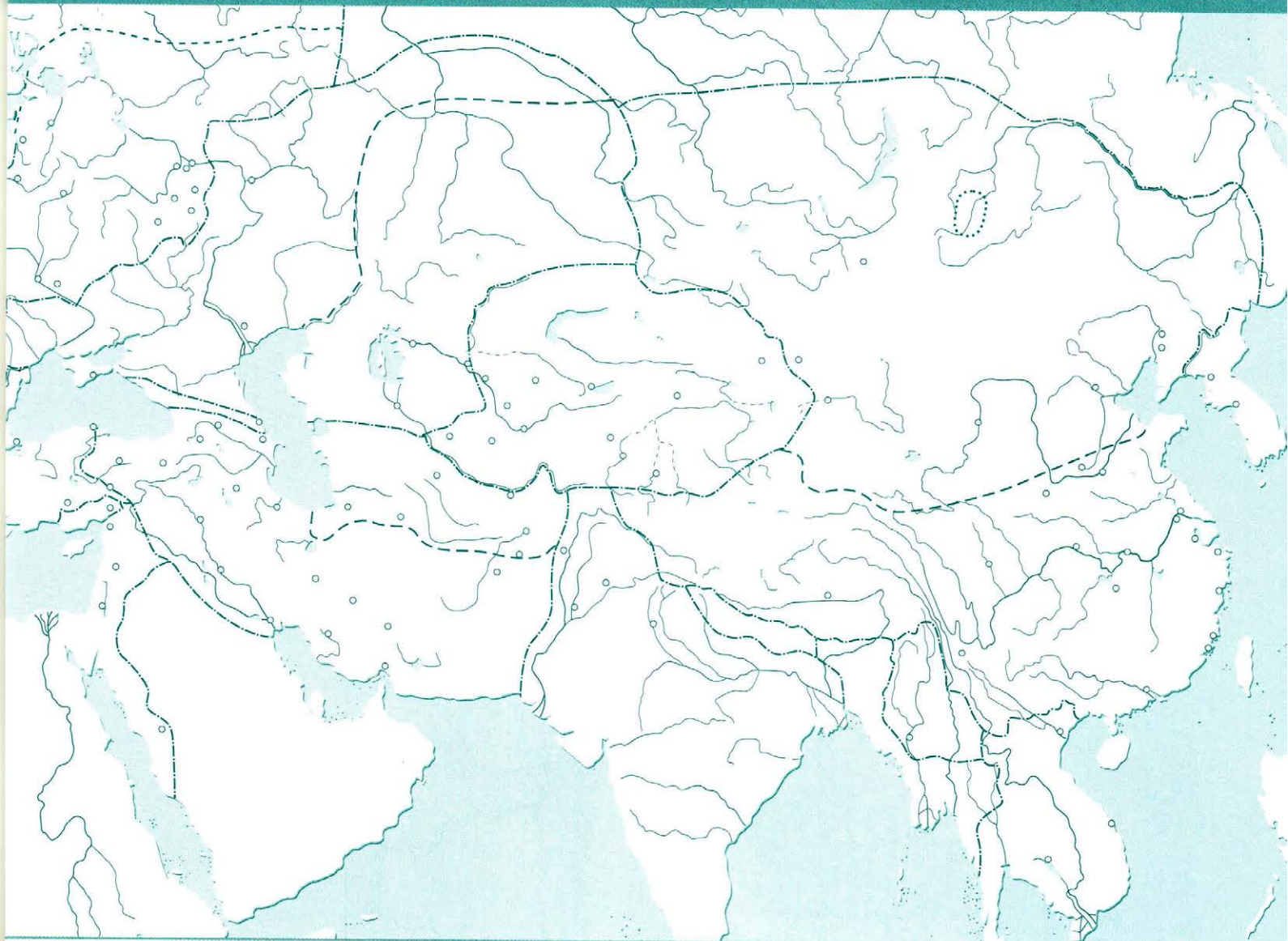


Для выполнения  
дополнительных  
заданий



## Задания

1. Чёрным цветом закрасьте пунсоны столиц Англии и Франции. Подпишите названия этих городов.
2. Обведите линией зелёного цвета границы английских владений во Франции накануне Столетней войны.
3. Обведите линией коричневого цвета владения герцога Бургундского.
4. Точками красного цвета нанесите район восстания Жакерия. Подпишите дату.
5. Точками синего цвета нанесите район восстания Уота Тайлера. Подпишите дату.
6. Пунктирной линией зелёного цвета обведите границы владений Англии во Франции по миру 1360 года.
7. Крестиками чёрного цвета отметьте места сражений при Кресси, Пуатье и Азенкуре. Подпишите даты этих сражений.
8. Крестиком красного цвета отметьте город, в освобождении которого приняла участие Жанна д'Арк. Подпишите дату этого события.

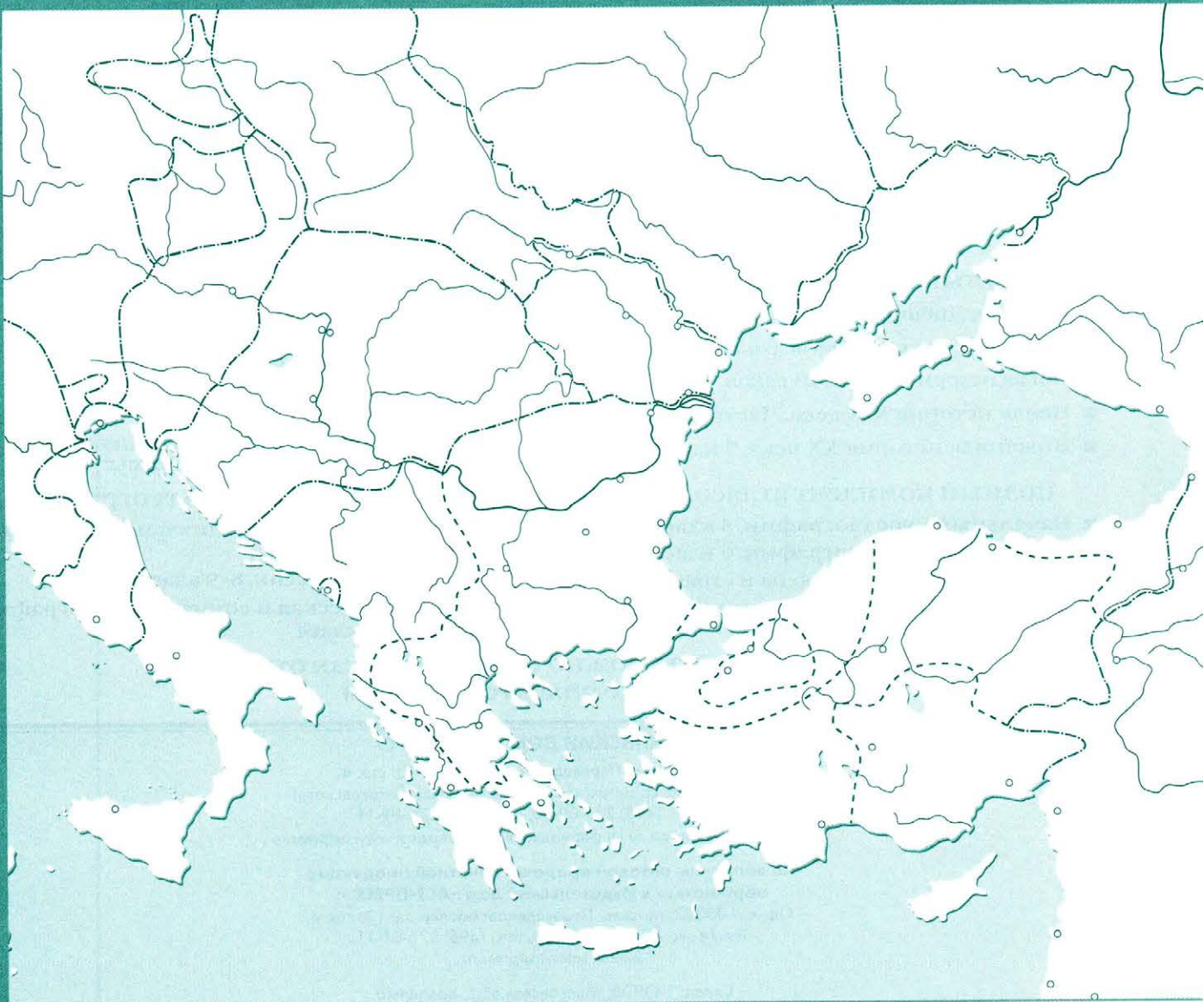


### Задания

1. Обведите линией синего цвета район первоначального расселения монголов.
2. Нанесите стрелками синего цвета направления вторжений монголов во главе с Чингисханом в Северный Китай. Над стрелками подпишите даты походов.
3. Нанесите стрелками чёрного цвета направления вторжений войска Чингисхана в Среднюю Азию. Над стрелками подпишите даты походов.
4. Нанесите стрелками красного цвета направления вторжений монгольских войск под командованием сыновей Чингисхана в Иран, Междуречье и Закавказье.
5. Крестиками красного цвета отметьте места важнейших битв и подпишите их даты.
6. Линией красного цвета обведите границы владений Чингисхана ко времени его смерти.
7. Пунктирной линией синего цвета обведите границы и подпишите названия монгольских государств (улусов).
8. Отметьте красным цветом пунсон и подпишите название столицы Монгольской державы.
9. Отметьте синим цветом пунсон столицы Арабского халифата, взятой монголами. Подпишите название этой столицы и дату события.

<input type="text"/>
<input type="text"/>
<input type="text"/>
<input type="text"/>
<input type="text"/>
<input type="text"/>
<input type="text"/>
<input type="text"/>
<input type="text"/>
<input type="text"/>

Для выполнения дополнительных заданий



**Задания**

1. Коричневым цветом закрасьте первоначальную территорию Османского государства в XIV веке.
2. Линией зелёного цвета обведите границы территории Османского государства к середине XIV века.
3. Линией красного цвета обведите границы Османской империи к началу XVI века.
4. Подпишите названия стран Балканского полуострова, завоёванных турками-османами. Подпишите даты подчинения этих стран.
5. Крестиком красного цвета отметьте место решающего сражения между сербами и турками. Подпишите название местности и дату события.
6. Крестиком чёрного цвета отметьте место сражения, произошедшего в XIV веке между западноевропейскими крестоносцами и турками-османами. Подпишите название местности и дату события.
7. Закрасьте красным цветом пунсон столицы Византийской империи, взятой турками-османами. Подпишите её название и дату события.

Варварские королевства и Восточная Римская (Византийская) империя в V–VII вв. ....	2–3
Империя Карла Великого и её распад .....	4–5
Европа в VIII–XI вв. ....	6–7
Образование Арабского халифата .....	8–9
Крестовые походы .....	10–11
Реконкиста .....	12
Столетняя война .....	13
Монгольские завоевания XIII в. ....	14
Завоевания турок-османов в XIV–XV вв. ....	15

### Издательство «АСТ-ПРЕСС» выпускает

#### полный комплект атласов и контурных карт с заданиями по истории

- |   |  |
|---|--|
| ■ История Древнего мира. 5 класс                  | ■ История России с древнейших времён до начала XVI века. 6 класс     |
| ■ История Средних веков. 6 класс                  | ■ История России XVI–XVIII веков. 7 класс                            |
| ■ Новая история XVI–XVIII веков. Часть I. 7 класс | ■ История России XIX века. 8 класс                                   |
| ■ Новая история XIX века. Часть II. 8 класс       | ■ История России XX – начало XXI века. 9 класс                       |
| ■ Новейшая история XX века. 9 класс               | ■ История России с древнейших времён – начало XXI века. 10–11 классы |

#### полный комплект атласов и контурных карт с заданиями по географии

- |  |  |
|--|--|
| ■ Начальный курс географии. 5 класс          | ■ Экономическая и социальная география России. 9 класс |
| ■ Начальный курс географии. 6 класс          | ■ География России. 8–9 классы                         |
| ■ Материки, океаны, народы и страны. 7 класс | ■ Экономическая и социальная география мира. 10 класс  |
| ■ Физическая география России. 8 класс       |  |

**Контурные карты можно приобрести как отдельно,  
так и в комплекте с атласом**

#### ИЗДАТЕЛЬСКИЙ ДОМ «АСТ-ПРЕСС»

105082, Москва, Переведеновский пер., д. 13, стр. 4.  
(Проезд в Москве: ст. метро «Бауманская», «Электrozаводская»)  
Тел./факс: (495) 276-09-60, тел.: (495) 276-01-11  
E-mail: [astpress@astpress.ru](mailto:astpress@astpress.ru) Информационная поддержка: [www.astpress.ru](http://www.astpress.ru)

#### По вопросам оптовой продажи печатной продукции обращаться в Издательский дом «АСТ-ПРЕСС»:

Офис: 105082, Москва, Переведеновский пер., д. 13, стр. 4  
Тел./факс: (495) 276-09-60, тел.: (495) 276-01-11  
E-mail: [sales@astpress.ru](mailto:sales@astpress.ru)

Склад: 143900, Московская обл., Балашиха,  
Западная промзона, ш. Энтузиастов, д. 4  
Тел.: (495) 223-62-32 (многоканальный),  
факс: (495) 521-94-74

**Книги Издательского дома «АСТ-ПРЕСС»  
вы всегда можете приобрести в книжных магазинах страны,  
в том числе в Интернете**

УДК 940.1  
ББК 63.3(0)4  
К 64



**Контурные карты с заданиями  
ИСТОРИЯ СРЕДНИХ ВЕКОВ. 6 КЛАСС**  
Авторы: **С. В. Колпаков, М. В. Пономарёв**  
Картограф К. И. Гезин  
Дизайнер обложки В. И. Пантелеев

ISBN 978-5-94776-943-2



Подписано в печать 02.09.16. Формат 60х90/8.  
Печать офсетная. Бумага офсетная. Печ. л. 2,5.

Лицензия на осуществление картографических работ № 77-00283Ф от 26.03.2012 г.

Общероссийский классификатор продукции ОК-005-93, том 2-955517  
Сертификат соответствия № РОСС RU. АГ51. Н 03801 № 0828470 от 07.09.15

ООО «АСТ-ПРЕСС ШКОЛА»,  
105082, Москва, Переведеновский пер., д. 13, стр. 4.

Отпечатано в типографии ООО «ЛД-ПРИНТ». 196644, Санкт-Петербург, Колпинский р-н, пос. Саперный,  
территория предприятия «Балтика», д. 6/н, лит. Ф. Тел.: (812) 462-83-83, e-mail: [office@ldprint.ru](mailto:office@ldprint.ru)

Москва  
АСТ-ПРЕСС  
издательский дом

© ООО «АСТ-ПРЕСС ШКОЛА», 2016  
© Картографическая основа. РОСРЕЕСТР, 2016