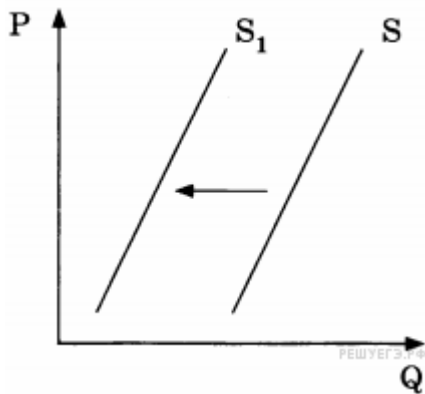


1. На графике изображено изменение спроса на отечественном автомобильном рынке: линия спроса D переместилась в новое положение D_1 (P — цена автомобиля, Q — объем спроса на отечественные машины). Это перемещение может быть связано в первую очередь с

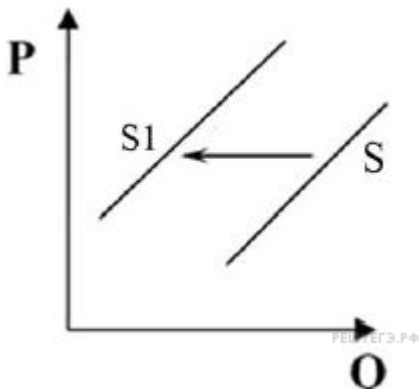
- 1) модернизацией автомобильной отрасли в стране
- 2) увеличением транспортного налога
- 3) увеличением доходов населения
- 4) экономическим кризисом
- 5) резким повышением цен на импортные автомобили

2. На графике отражено изменение предложения бананов на соответствующем рынке: кривая предложения переместилась из положения S в положение S_1 (на графике P — цена товара, Q — количество товара).

Какие из перечисленных факторов могут вызвать такое изменение? Запишите цифры, под которыми они указаны.

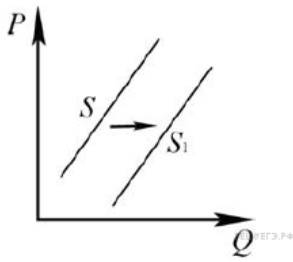



- 1) увеличение доходов потребителей
- 2) увеличение таможенных пошлин на импорт бананов
- 3) предоставление льготных кредитов продавцам бананов
- 4) уменьшение цен на энергоносители
- 5) неурожай бананов в странах-производителях



3. На рисунке отражена ситуация на рынке кофе: линия предложения S переместилась в новое положение — S_1 (P — цена товара, Q — количество товара). Это перемещение может быть связано прежде всего с

- 1) ростом популярности горячего шоколада
- 2) неурожаем кофе в Южной Америке
- 3) снижением цен на чай
- 4) снижением ввозных пошлин на кофе
- 5) санкциями, предусматривающими запрет на покупку кофе у отдельных государств — основных производителей кофе

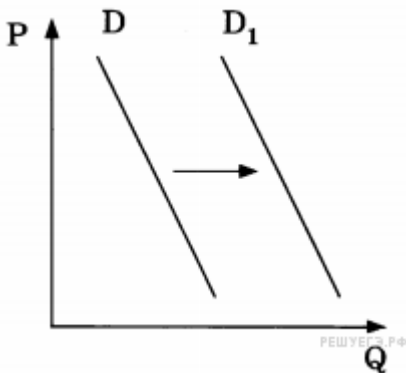


4. На рисунке отражено изменение предложения молочных продуктов на соответствующем рынке: линия предложения S переместилась в новое положение — S_1 (на графике P — цена, Q — количество). Какие из перечисленных факторов могут вызвать такое изменение? Запишите цифры, под которыми они указаны.

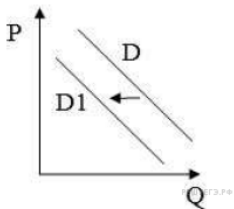
- 1) уменьшение стоимости кормов для коров
- 2) ожидания роста цен на молочную продукцию
- 3) банкротство нескольких молочных ферм
- 4) повышение цен на энергоносители
- 5) строительство новых заводов молочной продукции

5. На графике отражена ситуация на рынке страховых услуг: кривая спроса переместилась из положения D в положение D_1 (на графике P — цена товара, Q — количество товара).

Какие из перечисленных факторов могут вызвать такое изменение? Запишите цифры, под которыми они указаны.

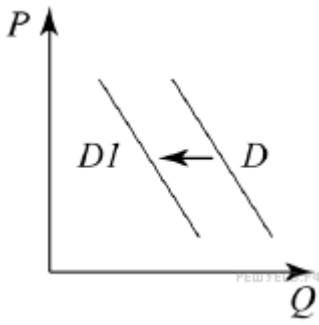



- 1) повышение выплат после наступления страховых случаев
- 2) закрытие нескольких страховых компаний
- 3) введение обязательного страхования автогражданской ответственности
- 4) увеличение числа страховых компаний
- 5) снижение доходов потребителей



6. На рисунке отражена ситуация на рынке стационарных компьютеров: линия спроса D переместилась в новое положение D_1 (P — цена товара, Q — объём спроса товара). Это перемещение может быть связано прежде всего с (со)

- 1) существенным удешевлением системных блоков и мониторов
- 2) широким распространением на рынке планшетных компьютеров, нетбуков, ноутбуков
- 3) резким снижением цен на рынке планшетных компьютеров, нетбуков, ноутбуков
- 4) увеличением количества банковских филиалов и офисов компаний
- 5) снижением пошлин на ввоз комплектующих для стационарных компьютеров



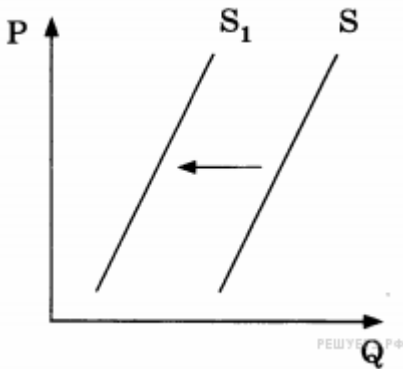
7. На рисунке отражена ситуация на рынке меховых изделий: линия спроса D переместилась в новое положение – $D1$ (P – цена товара, Q – количество товара).

Какие из перечисленных факторов могут вызвать такое изменение? Запишите цифры, под которыми они указаны.

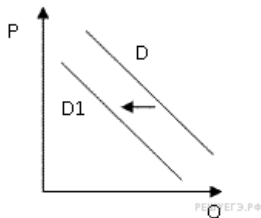
- 1) рост доходов населения
- 2) потепление климата в течение последних 5 лет
- 3) расширение сети ферм по разведению пушных зверей
- 4) масштабная рекламная кампания меховых фирм
- 5) активная кампания в защиту животных

8. На графике отражено изменение предложения местных сезонных ягод на соответствующем рынке: кривая предложения переместилась из положения S в положение S_1 (на графике P – цена товара, Q – количество товара).

Какие из перечисленных факторов могли вызвать такое изменение?

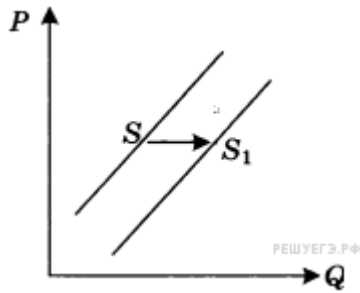



- 1) уменьшение издержек производителей сезонных ягод
- 2) повышение доходов потребителей
- 3) снижение пошлин на ввозимые сезонные ягоды и фрукты
- 4) низкий урожай местных сезонных ягод
- 5) уменьшение стоимости электроэнергии и водоснабжения



9. На рисунке отражена ситуация на рынке стационарных компьютеров: линия спроса D переместилась в новое положение $D1$ (P – цена товара, Q – объем спроса товара). Это перемещение может быть связано, прежде всего, с (со)

- 1) ростом числа продавцов компьютеров на рынке
- 2) переходом многих пользователей на ноутбуки и нетбуки
- 3) снижением пошлин на ввоз комплектующих для стационарных компьютеров
- 4) падением доходов потребителей
- 5) существенным удешевлением системных блоков и мониторов

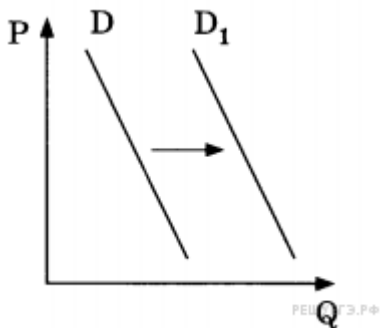


10. На графике отражена ситуация на рынке бытовой техники: линия предложения S переместилась в новое положение — S_1 (P — цена товара, Q — количество товара). Какие из перечисленных факторов могут вызвать такое изменение? Запишите цифры, под которыми они указаны.

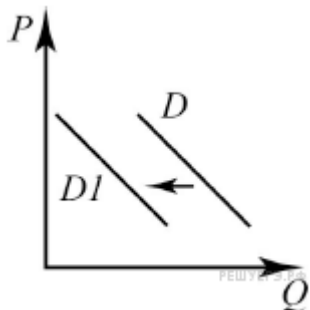
- 1) увеличение доходов потребителей бытовой техники
- 2) широкая реклама в СМИ бытовой техники новых марок
- 3) применение технологий, сокращающих издержки производства
- 4) ожидание роста потребительских цен
- 5) выход на рынок нового крупного производителя бытовой техники

11. На графике изображено изменение спроса на школьную форму на соответствующем рынке: кривая спроса переместилась из положения D в положение D_1 (на графике P — цена товара, Q — количество товара).

Какие из перечисленных факторов могут вызвать такое изменение? Запишите цифры, под которыми они указаны.



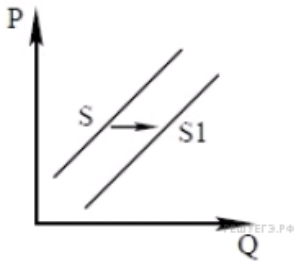

- 1) снижение доходов потребителей
- 2) принятие закона об обязательной школьной форме
- 3) увеличение таможенных пошлин на импортные ткани
- 4) повышение цен на энергоносители
- 5) скорое начало учебного года в школах



12. На графике изображено изменение ситуации на рынке легковых автомобилей (с кузовом минивэн): кривая спроса переместилась из положения D в положение $D1$ (на графике P — цена товара; Q — количество товара).

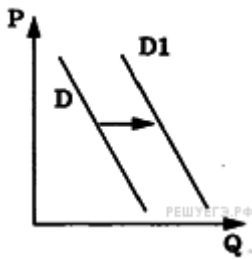
Какие из перечисленных факторов могут вызвать такое изменение? Запишите цифры, под которыми они указаны.

- 1) повышение цен на бензин
- 2) рост пошлин на минивэны
- 3) спад производства в автомобилестроительной отрасли страны
- 4) активная рекламная кампания доступных внедорожников
- 5) реализация выгодной для потребителей программы автомобильного кредитования



13. На графике показано изменение предложения йогуртов на потребительском рынке: кривая предложения переместилась из положения S в положение S_1 (на графике P — цена товара, Q — количество товара). Какие из перечисленных факторов могут вызвать такое изменение? Запишите цифры, под которыми они указаны.

- 1) В стране Z был увеличен налог на прибыль.
- 2) Выросло число молочных комбинатов.
- 3) Произошло понижение цен на молоко.
- 4) Снижение поголовья крупного рогатого скота.
- 5) Производители ожидают рост цен на йогурт.

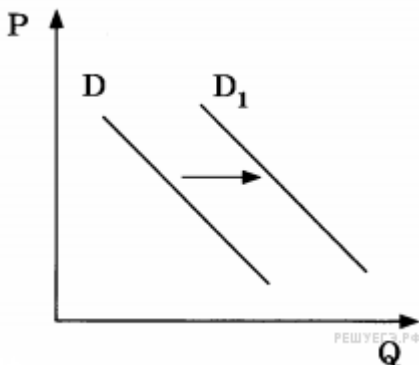


14. На рисунке отражены изменения спроса на легковые автомобили на соответствующем рынке: линия спроса D переместилась в новое положение D_1 (P — цена товара, Q — количество товара). Это перемещение связано, в первую очередь, с

- 1) совершенствованием технологии производства автомобилей
- 2) уменьшением издержек производителей автомобилей
- 3) увеличением объёма услуг общественного транспорта
- 4) увеличением доходов населения
- 5) резким снижением цен на бензин


15. На графике изображено изменение спроса на недорогую кухонную мебель на соответствующем рынке: кривая спроса переместилась из положения D в положение D_1 (на графике P — цена товара, Q — количество товара).

Какие из перечисленных факторов могут вызвать такое изменение? Запишите цифры, под которыми они указаны.

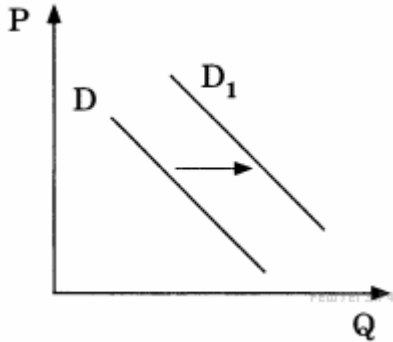


- 1) совершенствование технологии производства кухонной мебели
- 2) уменьшение издержек производителей кухонной мебели
- 3) снижение налогов с небольших мебельных производств
- 4) увеличение объёмов строительства нового муниципального жилья
- 5) мода на недорогие экологичные кухонные гарнитуры

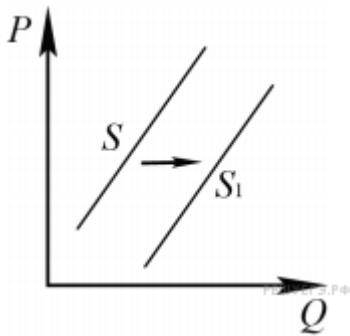
16. На графике отражено изменение спроса на легковые автомобили на соответствующем рынке: кривая спроса переместилась из положения D в положение D_1 (на графике P — цена товара, Q — количество товара).



Какие из перечисленных факторов могут вызвать такое изменение? Запишите цифры, под которыми они указаны.



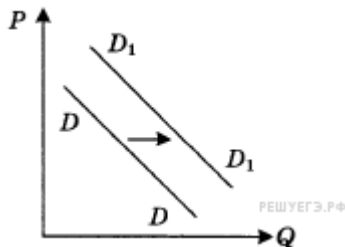
- 1) совершенствование технологии производства автомобилей
- 2) уменьшение издержек производителей автомобилей
- 3) сокращение объема услуг общественного транспорта
- 4) увеличение доходов населения
- 5) мода дарить автомобиль на совершеннолетие сына или дочери



17.

На рисунке отражено изменение предложения наручных часов на соответствующем рынке: линия предложения S переместилась в новое положение – S_1 . (P – цена; Q – количество.) Какие из перечисленных факторов могут вызвать такое изменение? Запишите цифры, под которыми они указаны.

- 1) появление моды пользоваться часами на мобильных устройствах
- 2) увеличение количества продавцов наручных часов
- 3) использование новых высокопроизводительных технологий для изготовления наручных часов
- 4) рост себестоимости производства наручных часов
- 5) увеличение налогов, уплачиваемых производителями наручных часов



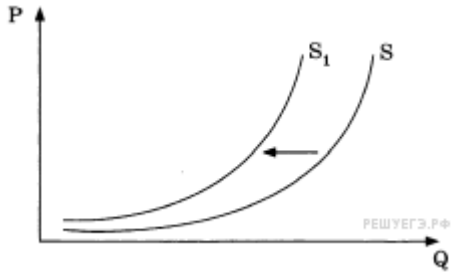

18.

На графике отражена ситуация на рынке бытовой химии: линия спроса D переместилась в новое положение D_1 (P – цена товара, Q – объем спроса товара). Какие из перечисленных факторов могут вызвать такое изменение? Запишите цифры, под которыми они указаны.

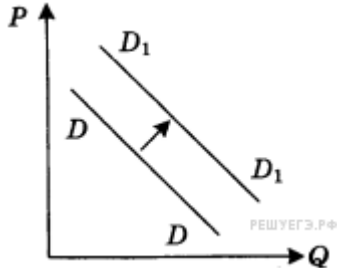
- 1) расширение числа производителей бытовой химии
- 2) заселение многоэтажных домов новых микрорайонов
- 3) технические нововведения на предприятиях бытовой химии
- 4) увеличение налогов, уплачиваемых производителями
- 5) реклама новой продукции предприятий бытовой химии

19. На графике отражены изменения предложения пшеницы на соответствующем рынке: кривая предложения переместилась из положения S в положение S_1 (на графике P – цена товара, Q – количество товара).

Какие из перечисленных факторов могут вызвать такое изменение? Запишите цифры, под которыми они указаны.

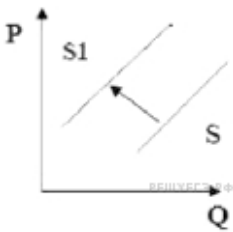


- 1) повышение цен на горючее для сельскохозяйственной техники
- 2) снижение цен на сельскохозяйственную технику
- 3) засуха и неурожай зерна
- 4) открытие нескольких хлебоулучшающих комбинатов
- 5) культивирование высокопродуктивных сортов пшеницы



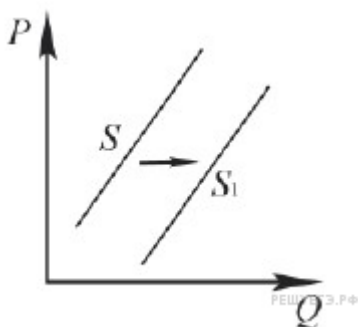
20. На графике отражена ситуация на рынке сельскохозяйственной техники: линия спроса D переместилась в новое положение D_1 (P — цена товара, Q — объем спроса товара). Какие из перечисленных факторов могут вызвать такое изменение? Запишите цифры, под которыми они указаны.

- 1) увеличение количества агропромышленных объединений
- 2) активная реклама сельскохозяйственной техники
- 3) концентрация производства на крупных предприятиях
- 4) вступление экономики в фазу подъема
- 5) рост ставки налога на прибыль




21. На рисунке отражена ситуация на рынке элитной кожгалантереи: линия предложения S переместилась в новое положение S_1 (P — цена товара, Q — объем предложения). Это перемещение может быть связано прежде всего с(со)

- 1) резким повышением цен на кожсырье
- 2) снижением стоимости кожаных изделий ручной работы
- 3) повышением импортных пошлин на престижные коллекции брендовых сумок
- 4) совершенствованием технологий изготовления сумок и кошельков
- 5) существенным ростом доходов населения



22. На графике изображено изменение предложения скейт бордов на потребительском рынке: кривая предложения переместилась из положения S в положение S_1 . (На графике P — цена товара; Q — количество товара.)

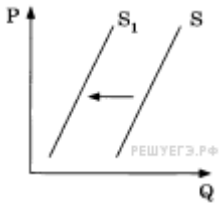


Какие из перечисленных факторов могут вызвать такое изменение? Запишите **цифры**, под которыми они указаны.

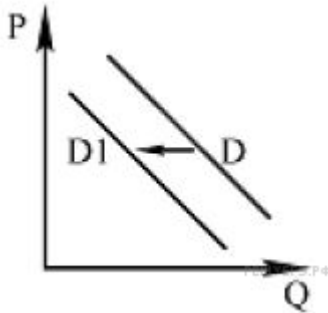
- 1) снижение тарифов на электроэнергию
- 2) падение цен на самокаты и велосипеды
- 3) сокращение числа фирм-производителей
- 4) повышение налога на прибыль
- 5) сокращение субсидий на развитие малого и среднего бизнеса

23. На графике отражено изменение предложения овощей на соответствующем рынке: кривая предложения переместилась из положения S в положение S_1 (на графике P — цена товара, Q — количество товара).

Какие из перечисленных факторов могут вызвать такое изменение? Запишите цифры, под которыми они указаны.

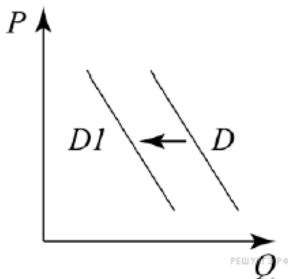


- 1) повышение цен на сельскохозяйственную технику
- 2) снижение затрат на транспортные услуги
- 3) увеличение доходов фермерских хозяйств
- 4) низкий урожай овощей
- 5) реализация программ государственной поддержки фермерских хозяйств



24. На рисунке отражена ситуация на рынке бытовых вентиляторов: линия спроса D переместилась в новое положение — $D1$ (P — цена товара, Q — количество товара). Это перемещение может быть связано прежде всего с


- 1) закрытием нескольких заводов по производству вентиляторов
- 2) распространением кондиционеров
- 3) снижением налога с продаж бытовой техники
- 4) окончанием летнего сезона
- 5) снижением расходов производителей вентиляторов на рекламу



25. На графике изображено изменение ситуации на рынке домашних тренажёров: кривая спроса переместилась из положения D в положение $D1$. (на графике P — цена товара; Q — количество товара).

Какие из перечисленных факторов могут вызвать такое изменение? Запишите цифры, под которыми они указаны.

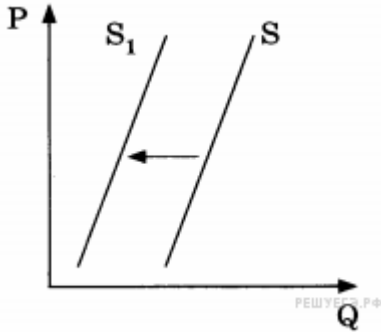
- 1) рост числа дешёвых фитнес-центров
- 2) повышение цен на комплектующие, необходимые для ремонта, обновления и настройки тренажеров
- 3) падение доходов потребителей



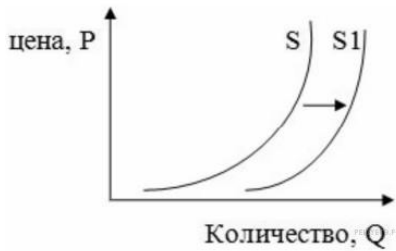
- 4) активная рекламная кампания одного из производителей тренажеров
- 5) пропаганда здорового образа жизни

26. На графике отражено изменение предложения бананов на соответствующем рынке страны, не выращивающей бананы: кривая предложения переместилась из положения S в положение S_1 (на графике P — цена товара, Q — количество товара).

Какие из перечисленных факторов могут вызвать такое изменение? Запишите цифры, под которыми они указаны.

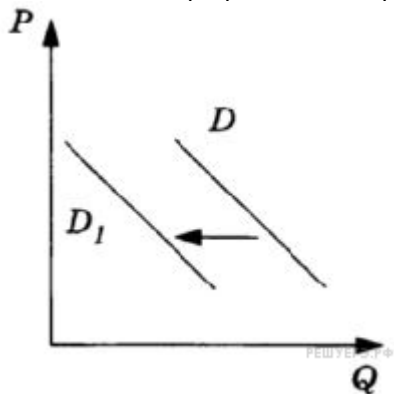


- 1) увеличение таможенных пошлин на импорт бананов
- 2) предоставление льготных кредитов продавцам бананов
- 3) уменьшение цен на энергоносители
- 4) увеличение доходов потребителей
- 5) низкий урожай бананов



27. На рисунке изображена ситуация на рынке цветов: линия предложения S переместилась в новое положение S_1 (P — цена цветка, Q — количество предлагаемых цветов). Это перемещение может быть связано в первую очередь с


- 1) снижением тарифов на электричество
- 2) снижением доходов населения
- 3) увеличением налогов на производителей
- 4) вводом в эксплуатацию цветочной теплицы
- 5) увеличением тарифов на электричество



28.

На рисунке изображена ситуация на рынке пассажирских железнодорожных перевозок: линия спроса D переместилась в новое положение D_1 (на графике P — цена товара, Q — количество товара). Какие из перечисленных факторов могут вызвать такое изменение? Запишите цифры, под которыми они указаны.

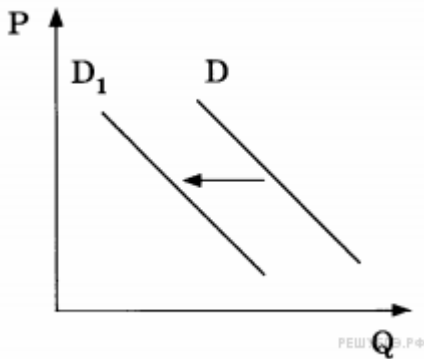
- 1) улучшение качества услуг, предоставляемых пассажирскими компаниями, специализирующимися на железнодорожных перевозках
- 2) снижение стоимости билетов на поезда дальнего следования



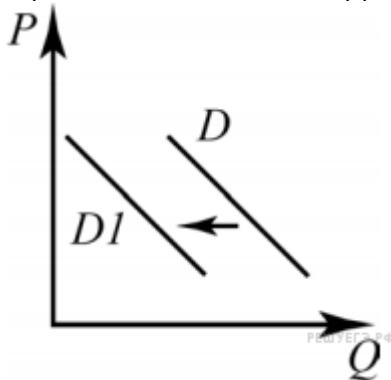
- 3) рост популярности внутреннего туризма с использованием железнодорожного сообщения
- 4) снижение стоимости пассажирских авиаперевозок
- 5) отмена льготных тарифов для пенсионеров и школьников на услуги, предоставляемые пассажирскими компаниями, специализирующимися на железнодорожных перевозках

29. На графике изображено изменение спроса на услуги работающих на коммерческой основе центров детского творчества на соответствующем рынке: кривая спроса переместилась из положения D в положение D_1 (на графике P — цена товара, Q — количество товара).

Какие из перечисленных факторов могут вызвать такое изменение? Запишите цифры, под которыми они указаны.



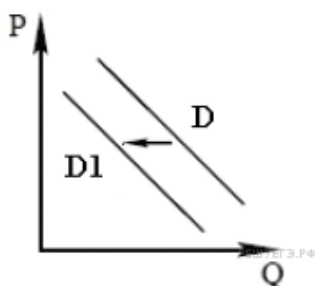
- 1) увеличение количества некоммерческих кружков и секций в школах
- 2) открытие новых игровых развлекательных центров и аквапарков
- 3) укрупнение организаций дополнительного образования
- 4) повышение популярности художественного образования детей
- 5) сокращение доли детей в структуре населения



30.


На рисунке отражено изменение спроса на антивирусные компьютерные программы на соответствующем рынке: линия спроса D переместилась в новое положение — D_1 . (P — цена; Q — количество.) Какие из перечисленных факторов могут вызвать такое изменение? Запишите цифры, под которыми они указаны.

- 1) снижение вирусных угроз в сети Интернет
- 2) увеличение количества производителей антивирусных программ
- 3) снижение оплаты труда программистов — разработчиков антивирусных программ
- 4) предоставление налоговых льгот ИТ-компаниям
- 5) предоставление бесплатных антивирусных программ в комплекте с операционными системами



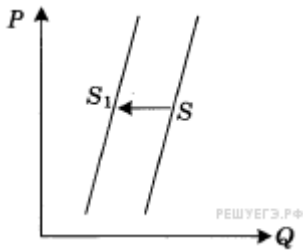
31.

На графике показано изменение спроса на морепродукты на потребительском рынке: кривая спроса переместилась из положения D в положение D_1 (на графике P — цена товара, Q —



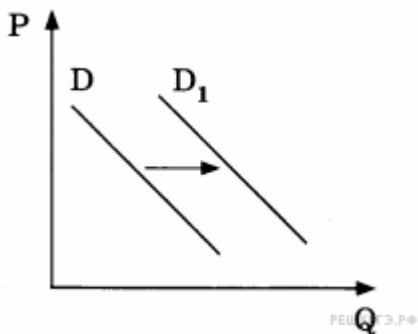
количество товара). Какие из перечисленных факторов могут вызвать такое изменение? Запишите цифры, под которыми они указаны.

- 1) Выросли пошлины на ввоз в страну рыбной продукции.
- 2) Были обнародованы лабораторные исследования, подтвердившие благотворное влияние фосфора на работу мозга.
- 3) В результате инфляции в стране сократились доходы населения.
- 4) Увеличилось количество рыбных ферм.
- 5) Учёные опровергли результативность диеты, основанной на употреблении морепродуктов.

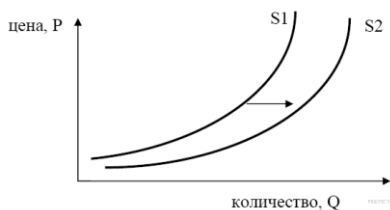


32. На графике отражена ситуация на рынке обуви: линия предложения S переместилась в новое положение S_1 (P — цена товара, Q — количество товара). Какие из перечисленных факторов могут вызвать такое изменение? Запишите цифры, под которыми они указаны.

- 1) обострение конкуренции между производителями
 - 2) вступление экономики в фазу подъема
 - 3) рост цен на используемое сырье и фурнитуру
 - 4) ослабление рекламной кампании по продвижению новых моделей
 - 5) увеличение транспортных расходов по доставке товара в магазины
- 33.** На графике отражена ситуация на рынке плетёной дачной мебели: кривая спроса переместилась из положения D в положение D_1 (на графике P — цена товара, Q — количество товара).

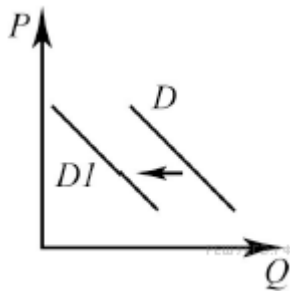



- 1) Число граждан, владеющих дачными домами, увеличилось.
- 2) Число фирм, производящих плетёную дачную мебель, увеличилось.
- 3) Пошлины на импортную плетёную дачную мебель повысились.
- 4) Уровень доходов потребителей повысился.
- 5) Была повышена ставка земельного налога и налога на имущество граждан.



34. На графике изображено изменение предложения роликовых коньков на потребительском рынке. Что из приведённого ниже могло вызвать сдвиг кривой предложения из положения S_1 в положение S_2 ? (на графике по вертикали — цена товара, по горизонтали — количество товара).

- 1) сокращение количества фирм, производящих роликовые коньки
- 2) внедрение новых технологий производства роликовых коньков
- 3) рост цен на комплектующие изделия для роликовых коньков
- 4) рост тарифов на электроэнергию
- 5) снижение налогов на комплектующие изделия для роликовых коньков



35.

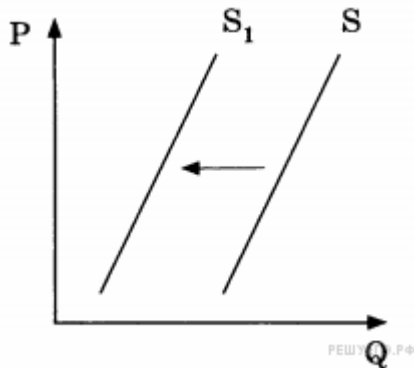
На графике изображено изменение ситуации на рынке легковых автомобилей: кривая спроса переместилась из положения D в положение $D1$. (На графике P — цена товара; Q — количество товара.)

Какие из перечисленных факторов могут вызвать такое изменение? Запишите цифры, под которыми они указаны.

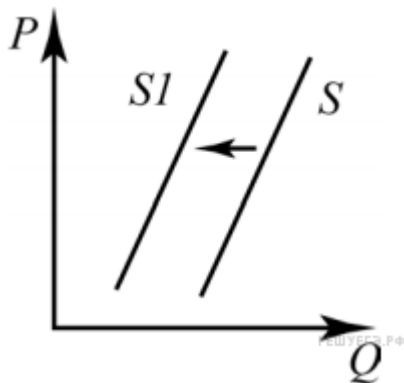
- 1) рост цен на бензин
- 2) сужение рынка автокредитования
- 3) повышение доходов населения
- 4) сокращение инвестиций в автомобильной отрасли
- 5) повышение пошлин на импортные комплектующие, необходимых для сборки автомобилей

36. На графике отражена ситуация на рынке кондитерских изделий: кривая предложения переместилась из положения S в положение S_1 (на графике P — цена товара, Q — количество товара).

Какие из перечисленных факторов могли вызвать такое изменение?




- 1) неурожай какао-бобов
- 2) увеличение доходов потребителей
- 3) выдача льготных кредитов кондитерским предприятиям
- 4) повышение акцизов на сахар и какао-бобы
- 5) закрытие ряда кондитерских фабрик



37.

На рисунке изображена ситуация на рынке злаковых культур в стране А: линия предложения S переместилась в новое положение $S1$. (На графике P — цена товара, Q — объём спроса товара.) Какие из перечисленных факторов могут вызвать такое изменение? Запишите цифры, под которыми они указаны.

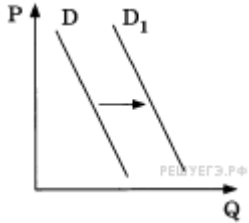
- 1) внедрение более производительных технологий выращивания злаковых культур
- 2) рост числа фермерских хозяйств — производителей злаковых культур



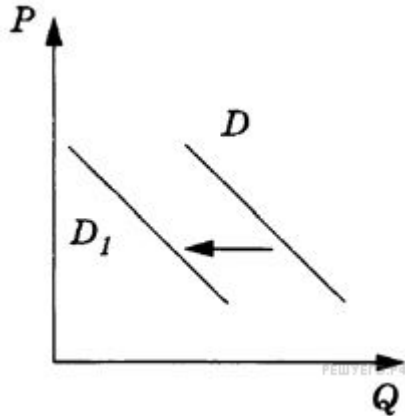
- 3) введение налоговых льгот и дотаций фермерским хозяйствам
- 4) распространение заболеваний, ведущих к гибели злаковых культур
- 5) рост среднегодовых температур и аномальное сокращение числа осадков в регионах выращивания злаковых культур

38. На графике отражено изменение спроса на витаминные добавки к пище на соответствующем рынке: кривая спроса переместилась из положения D в положение D_1 (на графике P — цена товара, Q — количество товара).

Какие из перечисленных факторов могут вызвать такое изменение? Запишите цифры, под которыми они указаны.



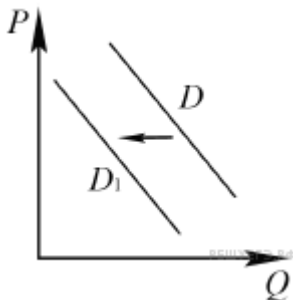
- 1) снижение доходов потребителей
- 2) активная пропаганда здорового образа жизни Q
- 3) увеличение таможенных пошлин на импортные лекарства и витаминные добавки к пище
- 4) повышение цен на свежие овощи и фрукты
- 5) открытие нескольких платных поликлиник



39.


На рисунке изображена ситуация на рынке мясных полуфабрикатов импортного производства в стране A : линия спроса D переместилась в новое положение D_1 (P — цена товара, Q — объем спроса товара). Какие из перечисленных факторов могут вызвать такое изменение? Запишите цифры, под которыми они указаны.

- 1) существенное улучшение санитарно-эпидемиологической обстановки в ряде государств — импортёров мясной продукции в страну A
- 2) введение льготного налогообложения на ввоз в страну A мясных полуфабрикатов иностранных производителей
- 3) распространение в СМИ сведений об ухудшении санитарно-эпидемиологической обстановки в ряде регионов мира
- 4) улучшение качества продукции пищевой промышленности страны A
- 5) введение правительством страны A квот на поставки продовольствия из государств — импортёров мясной продукции



40.

На рисунке отражено изменение спроса на парусные яхты на соответствующем рынке: линия спроса D переместилась в новое положение — D_1 . (P — цена; Q — количество.)

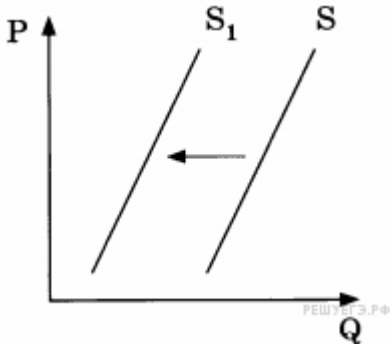


Какие из перечисленных факторов могут вызвать такое изменение? Запишите цифры, под которыми они указаны.

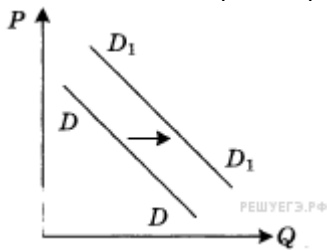
- 1) серия несчастных случаев с парусными яхтами
- 2) снижение издержек на производство яхт
- 3) увеличение количества производителей яхт
- 4) проведение удачной рекламной кампании
- 5) появление моды на моторные яхты

41. На графике отражено изменение предложения бытовой техники на соответствующем рынке: кривая предложения переместилась из положения S в положение S_1 (на графике P — цена товара, Q — количество товара).

Какие из перечисленных факторов могли вызвать такое изменение?

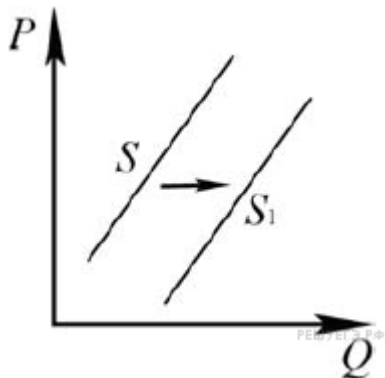


- 1) увеличение доходов производителей бытовой техники
- 2) увеличение цен на исходные комплектующие
- 3) банкротство нескольких компаний-производителей бытовой техники
- 4) уменьшение налога на аренду производственных мощностей
- 5) повышение цен на транспортные услуги




42. На графике отражена ситуация на рынке изделий из текстиля (постельного белья, махровых полотенец и др.): линия спроса D переместилась в новое положение D_1 (P — цена товара, Q — объем спроса товара). Какие из перечисленных факторов могут вызвать такое изменение? Запишите цифры, под которыми они указаны.

- 1) расширение гостиничного бизнеса
- 2) появление новых видов искусственных тканей
- 3) увеличение числа производителей домашнего текстиля
- 4) рост налогов с производителей текстильной продукции
- 5) рост доходов потребителей текстильных изделий



43. На рисунке отражено изменение предложения стульев на соответствующем рынке: линия предложения S переместилась в новое положение — S_1 (P — цена, Q —

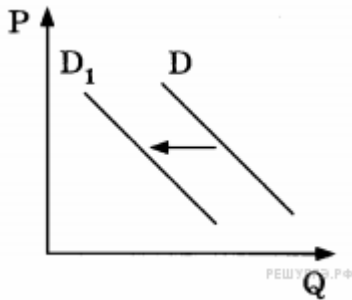


количество). Какие из перечисленных факторов могут вызвать такое изменение? Запишите цифры, под которыми они указаны.

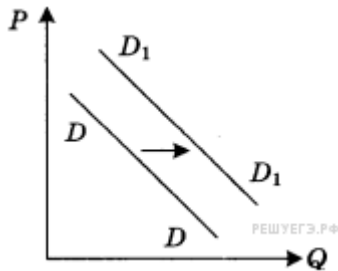
- 1) увеличение стоимости материалов для обивки стульев
- 2) рост оплаты труда рабочих на предприятиях, производящих стулья
- 3) уменьшение стоимости материалов для каркаса стульев
- 4) уменьшение налогов, взимаемых с производителей мебели
- 5) рост тарифов на электроэнергию для производителей мебели

44. На графике изображено изменение спроса на услуги частных дошкольных учреждений на соответствующем рынке: кривая спроса переместилась из положения D в положение D_1 (на графике P — цена товара, Q — количество товара).

Какие из перечисленных факторов могут вызвать такое изменение? Запишите цифры, под которыми они указаны.

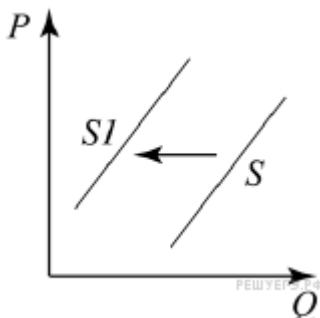


- 1) снижение числа детей дошкольного возраста
- 2) снижение оплаты в частных дошкольных учреждениях
- 3) открытие ряда новых муниципальных дошкольных учреждений
- 4) уменьшение числа частных дошкольных учреждений
- 5) широкое распространение практики выхода на работу вскоре после рождения ребёнка




45. На графике отражена ситуация на рынке изделий из текстиля (постельного белья, махровых полотенец и др.): линия спроса D переместилась в новое положение D_1 (P — цена товара, Q — объем спроса товара). Какие из перечисленных факторов могут вызвать такое изменение? Запишите цифры, под которыми они указаны.

- 1) расширение гостиничного бизнеса
- 2) появление новых видов искусственных тканей
- 3) увеличение числа производителей домашнего текстиля
- 4) рост налогов с производителей текстильной продукции
- 5) рост доходов потребителей текстильных изделий



46. На графике изображено изменение ситуации на рынке самокатов: кривая предложения переместилась из положения S в положение S_1 (на графике P — цена товара, Q — количество товара).

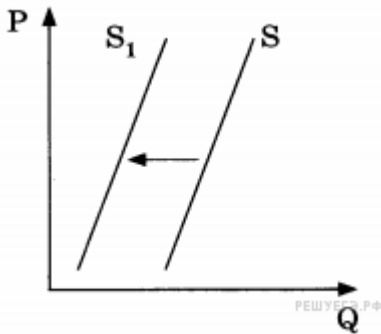


Какие из перечисленных факторов могут вызвать такое изменение? Запишите цифры, под которыми они указаны.

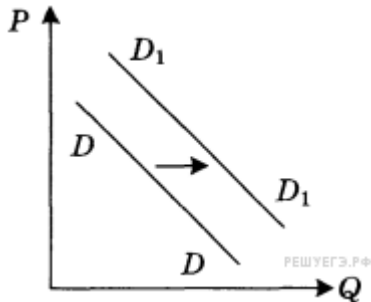
- 1) рост ставки налога на прибыль организаций
- 2) рост стоимости материалов, которые необходимы для изготовления самокатов
- 3) увеличение числа производителей спортивных товаров
- 4) снижение ставок по кредитам
- 5) снижение таможенных тарифов

47. На графике отражено изменение предложения моркови и лука на соответствующем рынке: кривая предложения переместилась из положения S в положение S_1 (на графике P — цена товара, Q — количество товара).

Какие из перечисленных факторов могут вызвать такое изменение? Запишите цифры, под которыми они указаны.



- 1) увеличение доходов производителей моркови и лука
- 2) гибель урожая в результате неблагоприятных погодных условий
- 3) уменьшение платы за аренду земельных участков
- 4) снижение цен на дизельное топливо и бензин
- 5) повышение цен на посадочные материалы

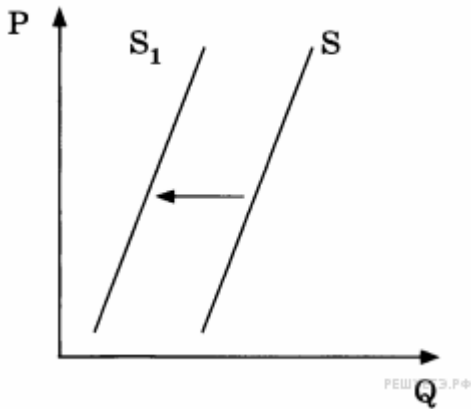


48. На графике отражена ситуация на рынке бытовой химии: линия спроса D переместилась в новое положение D_1 (P — цена товара, Q — объем спроса товара). Какие из перечисленных факторов могут вызвать такое изменение? Запишите цифры, под которыми они указаны.

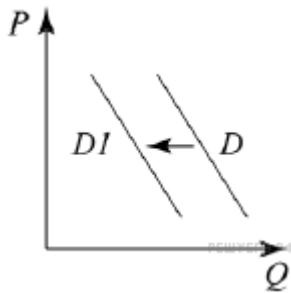
- 1) расширение числа производителей бытовой химии
- 2) заселение многоэтажных домов новых микрорайонов
- 3) технические нововведения на предприятиях бытовой химии
- 4) увеличение налогов, уплачиваемых производителями
- 5) реклама новой продукции предприятий бытовой химии

49. На графике изображено изменение предложения тропических фруктов на соответствующем рынке: кривая предложения переместилась из положения S в положение S_1 (на графике P — цена товара, Q — количество товара).

Какие из перечисленных факторов могут вызвать такое изменение? Запишите цифры, под которыми они указаны.



- 1) уменьшение затрат производителей фруктов
- 2) повышение доходов потребителей
- 3) повышение пошлин на импорт фруктов
- 4) неурожай тропических фруктов
- 5) мода на употребление соков из тропических фруктов



50.

На графике изображено изменение ситуации на рынке садовых саженцев: кривая спроса переместилась из положения D в положение D1. (На графике P — цена товара; Q — количество товара.)

Какие из перечисленных факторов могут вызвать такое изменение? Запишите цифры, под которыми они указаны.

- 1) сокращение числа загородных садовых участков
- 2) рост таможенных пошлин
- 3) сокращение доходов потребителей
- 4) рост популярности домашних заготовок (саженцев)
- 5) падение цен на удобрения