

1. Определите тип общества страны Z, если известно, что больше половины людей занято на промышленном производстве. Назовите две черты данного общества, не названные в задании.

2. Конституция провозглашает государство Z демократической федеративной парламентской республикой. Назовите любые три признака формы правления государства Z.

3. Узнав, что бабушке требуется дорогостоящая операция, 16-летний школьник Иван решил устроиться продавцом в табачный киоск. Его устраивал размер предполагаемой оплаты труда и график работы. Но работодатель отказался принять Ивана на работу. Правомерны ли действия работодателя? Свой ответ поясните. Назовите любые две особенности регулирования труда работников младше 18 лет.

4. Принятие в 1722 г. Табели о рангах нанесло последний удар по пережиткам местничества и привело к тому, что дворянство перестало быть замкнутым сословием. Любой простолоудин, дослужившийся до офицерского чина в армии или до чина коллежского асессора на гражданской службе, получал потомственное дворянство. Среди ближайших сподвижников Петра Великого было немало людей весьма низкого происхождения: А.Д. Меншиков, П.И. Ягужинский, П.П. Шафиров. Вчерашние крестьяне, поповичи, дети мастеровых становились князьями, баронами, графами. К 1725 г. среди офицеров более 30 % имели недворянское происхождение. Напротив, многие отпрыски знатных родов, не найдя себе достойного места в новой системе распределения власти и ресурсов, беднели, некогда блестящие фамилии навсегда исчезали из придворного мира. К 1850 г. каждый четвёртый княжеский род утратил свой титул, напротив, дворянское достоинство получили более 120 тысяч человек из других сословий. Указ о единонаследии приводил к образованию прослойки беспоместных дворянских детей, многие из которых были не в состоянии достойно обеспечить себя и, чтобы поправить своё положение, женились на купеческих дочерях. Спустя столетие русское дворянство представляло собой причудливую смесь потомков державных князей, бояр и служилых людей с одной стороны и отпрысков купцов, крестьян, мещан, приходских священников и иноземных искателей приключений с другой.

Какая сфера общественной жизни нашла отражение в тексте?

Какое явление отражают приведённые в тексте данные?

Используя обществоведческие знания, укажите любые три критерия классификации социальных групп.

5. Многие потребители не могут противостоять агрессивной рекламе новых товаров и услуг. Сформулируйте четыре совета потребителям, стремящимся защитить свои доходы и не совершать ненужных трат под воздействием рекламы.

6. По данным Государственной службы статистики, в январе 2016 г. уровень безработицы в государстве X составил 5,8%, что на 0,2% выше уровня января 2015 г. 3% безработных это лица, чьи профессии утратили свою актуальность, а 2,8% это лица находящиеся в поисках работы по специальности.

Взаимосвязь каких двух сфер нашла свое отражение в этих данных?

Какие два типа безработицы отражены в представленных данных?

Используя обществоведческие знания, укажите любые три негативных последствия высокого уровня безработицы.

7. В государстве Z были проведены реформы, приведшие к отмене законодательно установленных преград для продвижения по службе, которое раньше находилось в тесной зависимости от происхождения. Теперь представители незнатных слоёв населения получили возможность получать образование в высших учебных заведениях, которое им ранее было недоступно, устраиваться на высокооплачиваемые и престижные должности, что приводило к изменениям в структуре общества. Многие выходцы из нижних слоёв общества возглавили крупные общественные организации, которые впоследствии вошли в представительный орган власти. Согласно статистическим данным, около 80% государственных служащих, в том числе на высоких должностях, уже через 20 лет после проведения реформы являлись выходцами из нижних слоёв общества.

Какие две сферы общественной жизни нашли отражение в данном тексте?

Какое социальное явление отражают приведённые в тексте данные?

Используя обществоведческие знания, приведите три любых фактора, способствующих данному явлению.


Назовите два любых вида данного явления.

8. Одни рассматривают технику как инструмент и средство для увеличения и усиления способностей человека. Другие считают, что техника, снабжая человека разного рода приборами и инструментами, ограничивает возможности проявления его личности. Какую из представленных точек зрения разделяете Вы? Приведите три обоснования выбранной точки зрения

9. Гражданин иностранного государства, работающий по контракту в РФ, решил получить гражданство РФ. Назовите любые четыре требования, которым он должен соответствовать для приобретения гражданства РФ в общем порядке.

10. Многие современные политологи пишут об иллюзорности свободы изъявления воли граждан на избирательных участках во время выборов. Благодаря массированному воздействию средств массовой информации, общественное сознание определяет свои приоритеты, люди голосуют под влиянием позиции СМИ, а не собственных взглядов и убеждений.

Предложите три способа повышения политической зрелости и ответственности избирателя, защиты его права на свободный выбор.



11. Молодая женщина трудоустроилась на работу в фирму на должность секретаря-референта. Через несколько месяцев она вышла замуж и забеременела. Администрация фирмы расторгла с ней трудовой договор. Женщина обжаловала свое увольнение в суде. Какое решение должен принять в данном случае суд? Приведите не менее трех оснований, по которым администрация может уволить работника по своей инициативе.

12. В стране Z важнейшим фактором производства является информация, значительная часть экономического продукта производится в сфере науки и коммуникаций, виртуальной культуры. К какому типу относится общество страны Z? Назовите другие три черты обществ данного типа.

13. На рынке детской одежды области Z конкурируют множество крупных и средних фирм, предприятий малого бизнеса, благодаря известности своих брендов они могут частично влиять на формирование цен на свою продукцию.

Какой тип конкурентного рынка иллюстрирует этот пример? Свой ответ поясните.

Определите тип (вид) данного рынка: а) по объекту купли-продажи; б) по масштабу.

14. Изучая типы лидерства в государстве Z, учёные узнали, что главы государства передавали свои полномочия старшим сыновьям, создавали законы и выполняли функцию верховного священнослужителя. Какой тип лидерства существовал в государстве Z? Приведите два факта, которые позволяют утверждать, что государство Z - неограниченная монархия.

15. 15-летний Саша поспорил с родителями о том, как ему провести ближайшие выходные. Родители настаивали на семейной поездке к родственникам, Саша хотел весь день провести с друзьями. После бурной дискуссии было решено, что Саша часть дня проведет с родителями у родственников, а потом встретится с друзьями. Назовите социальное явление, которое иллюстрирует данная ситуация. Укажите способ разрешения, который был применен

участниками данной ситуации. Приведите ещё два любых способа решения, которые могут применять участники подобной ситуации.

16. На основе обществоведческих знаний и знания других школьных дисциплин покажите, в чем проявляется сложность познания объективного мира. (Назовите три проявления).

17. Театральная актриса долгое время не могла найти работу по специальности и вынуждена была стать официанткой в кафе. Здесь её заметил известный режиссёр и пригласил на главную роль в своём новом фильме, ставшем впоследствии очень популярным. О каком социальном процессе свидетельствуют приведённые факты? Какие два вида этого процесса нашли отражение в этом примере? Проиллюстрируйте каждый из них приведёнными в условии задания фактами.

18. Правительство демократического государства Z. ввело пропорциональную шкалу индивидуального подоходного налога. Используя обществоведческие знания, приведите три аргумента (обоснования) в пользу подобного выбора.

19. Со слесарем Сидоровым был заключён трудовой договор сроком на три года. По истечении двух лет Сидоров решил уволиться, о чём уведомил работодателя в письменной форме. Работодатель отказал слесарю в прекращении трудового договора, сославшись на то, что до истечения срока действия договора остался год, который Сидоров должен отработать на предприятии. Правомерен ли отказ работодателя? Свой ответ обоснуйте. Назовите любые два принципа, на которых основываются трудовые правоотношения в РФ.

20. В государстве Z законодательную власть осуществляет парламент, а всенародно избираемый глава государства формирует правительство и возглавляет исполнительную власть. Граждане обладают всей полнотой прав и свобод, развиты институты гражданского общества. Государство Z включает в себя шесть территорий, обладающих определённой политической и юридической самостоятельностью и правом принимать собственные конституции, не противоречащие основному закону страны.

Какова форма государственного (территориального) устройства Z? Укажите факт по условию задачи, на основе которого Вы это установили. Назовите любые две характеристики этой формы государственного устройства, не названные в условии задачи.


21. В государстве Z правительство формируется партией, победившей на выборах в Законодательное Собрание, и ответственно перед ним; премьер-министр является главой исполнительной власти, президент избирается Законодательным Собранием. В стране регулярно проходят всеобщие, равные, прямые, тайные выборы на аль-

тернативной основе. Права и свободы граждан гарантированы. Государство Z включает в себя территории субъектов, обладающих частичным суверенитетом. Законодательное Собрание имеет двухпалатную структуру, субъекты имеют право принятия собственной конституции.

На основе приведённых фактов сделайте вывод о форме государства Z. (Сначала укажите элементы формы государства, а затем конкретизируйте каждый из них для государства Z.)

22. В стране Z основными отраслями экономики являются массовое промышленное производство и сфера услуг. Какая дополнительная информация позволит установить тип экономической системы страны Z? Сформулируйте три вопроса для получения необходимой дополнительной информации.

23. В ходе парламентских дебатов рассматривался вопрос о разработке мер, направленных на ограничение монополизма в экономике, стимулирование конкуренции производителей. Назовите сферу общества, связь которой с экономикой иллюстрируется этим примером. Приведите собственные примеры,



иллюстрирующие связь экономики с другими двумя сферами общественной жизни (сначала укажите сферу, а потом приведите соответствующий пример.)

24. Гражданин Д. решил приобрести в магазине в кредит телевизор. Нормами какого права будут регулироваться данные правоотношения? Какие юридические последствия влечет данная сделка? Приведите по два обязательства со стороны гражданина и магазина.

25. В одном из учебников это явление раскрывается так: «Совокупность средств и приёмов, с помощью которых общество гарантирует, что поведение его членов, отдельных субъектов управления, социальных групп будет осуществляться в соответствии с установленными общественными нормами и ценностями». Назовите социальное явление, о котором говорится в тексте. Используя знания обществоведческого курса, приведите два его элемента и проиллюстрируйте примером один (любой) из них.

26. В государстве Z глава государства и члены Законодательного Собрания избираются всенародно на свободных конкурентных выборах. Государство Z включает в себя 10 территорий, обладающих определённой политической и юридической самостоятельностью и правом принимать собственные конституции, не противоречащие основному закону страны. Граждане для реализации своих прав и свобод создают относительно независимые от государства ассоциации, в том числе оппозиционные партии, группы по интересам.

Какова форма государственного (территориального) устройства Z? Укажите факт по условию задачи, на основе которого Вы это установили. Назовите любые два признака этой формы государственного (территориального) устройства, не названные в условии задачи.

27. Школы страны Z дают старшеклассникам право определять программу собственного обучения, при этом внимательно следя, чтобы выбранный объём нагрузки не вредил здоровью учеников. Учащиеся также могут обучаться посредством современных компьютерных технологий. Какие тенденции в развитии образования прослеживаются в стране Z? Назовите две тенденции и подтвердите их наличие, опираясь на текст условия задачи.

28. В стране Z основными отраслями экономики являются массовое промышленное производство и сфера услуг. Какая дополнительная информация позволит установить тип экономической системы страны Z? Сформулируйте три вопроса для получения необходимой дополнительной информации.

29. В одной из североафриканских стран начался вооружённый конфликт между властью и оппозицией. Многие мирные жители из опасения за свою жизнь покинули свои дома и начали покидать страну, пополняя лагерь беженцев в соседних странах, стараясь добраться до Европы, найти работу по специальности.

Какое социальное явление представляет данный пример?

Укажите две характеризующие его, применительно к данному примеру, разновидности. Объясните Ваш выбор.

30. Гражданин А., находясь в разводе со своей женой, платил алименты на содержание несовершеннолетнего сына. Когда сыну исполнилось 30 лет, отец обратился к нему с просьбой о материальной помощи, поскольку он потерял трудоспособность по инвалидности. Сын отказался оказывать помощь отцу, мотивируя это тем, что отец находился в разводе с его матерью и не принимал непосредственного участия в его воспитании. Отец подал в суд. Должен ли в этом случае сын оказывать отцу материальную помощь? Приведите два аргумента в обоснование своей позиции.


31. В любом современном обществе существуют богатые и бедные, различающиеся уровнем дохода и властью в обществе. Какое социальное явление иллюстрируют указанные различия? На основе обществоведческих знаний укажите любые три социальных фактора, которые эти различия определяют.

32. На парламентских выборах в Великобритании в 1945 г. многие не сомневались в том, что успех обеспечен лидеру консервативной партии, премьер-министру У. Черчиллю — одному из главных организаторов победы над Германией во Второй мировой войне. Однако на выборах выиграла лейбористская партия. Её лидер К. Эттли выглядел рядом с Черчиллем незначительной фигурой, но в отличие от него предложил избирателям широкую и конкретную программу развития страны. Избирательным округом является территория, на которой разворачивается избирательная кампания, проводится выдвижение кандидатов, действуют политические партии и органы по проведению выборов. Соединенное Королевство разделено на столько избирательных округов, сколько существует мандатов в нижнюю палату.

О какой сфере общественной жизни идёт речь в данном отрывке? Какой тип избирательной системы описан в этом отрывке? Используя обществоведческие знания, укажите любые три признака этого типа избирательной системы.

33. После серии слияний и поглощений, с конца 1990-х годов Airbus и Boeing, по сути, разделили глобальный рынок пассажирских самолётов. Таким образом, Boeing и Airbus являются крупнейшими производителями гражданских самолётов в мире и глобальными конкурентами друг друга. К какому типу рынка по степени конкуренции (типу рыночной структуры) относится описанная ситуация? Используя обществоведческие знания, укажите любые два других критерия классификации современного рынка. Укажите, к какому типу по каждому из названных Вами критериев классификации относится описанный рынок.

34. Работники предприятия Z стремятся сделать производственную деятельность более эффективной, так как получают часть дохода предприятия, владея его ценными бумагами. Это право на доход сохраняется за ними и после увольнения. Также часть акций была пущена в свободную продажу. Определите организационно-



правовую форму предприятия и перечислите три права его работников, по которым вы определите организационно-правовую форму предприятия.

35. В стране Z учащимся предоставлена возможность выбора наиболее удобной формы получения образования (домашнее обучение, экстернат и т.п.), а также уровней и программ обучения. Какую тенденцию развития образования иллюстрирует этот пример? Назовите любые две другие тенденции развития современного образования и кратко охарактеризуйте любую одну из них.

36. 40-летний Пётр занимал пост менеджера в одном из банков. Однако, достигнув 40-летия, он решил поменять род занятий, переехал с семьёй в сельскую местность и занялся фермерством. Как называется социальное явление, описанное в этом примере? Какой вид этого явления нашёл отражение в описанном примере? Используя обществоведческие знания, назовите два любых других вида этого социального явления.

37. Существуют различные виды конкуренции. Назовите вид конкуренции, который существует только в теории, и приведите три примера рынков, близких этому виду конкуренции.

38. Объясните, что имел в виду Йоганнес Бехер, утверждая: «Человек становится человеком только среди людей». (Приведите три суждения-объяснения.)

39. Граждане РФ Василий и Маргарита накануне регистрации брака решили заключить брачный договор. По обоюдному согласию они включили в него пункты о разделении домашних бытовых обязанностей; о способах участия в доходах друг друга; о порядке несения каждым супругом семейных расходов; а также пункт о необходимости для супруги обязательно согласовывать с супругом все вопросы, связанные с её передвижением по территории России. Нотариус, к которому они обратились за удостоверением брачного договора, указал на необходимость исключить два пункта.

О каких пунктах из перечисленных выше идёт речь? Свой ответ объясните. Какое условие необходимо, чтобы составленный в письменной форме и удостоверенный у нотариуса брачный договор вступил в силу?

40. Французский философ Ш. Монтескьё писал: «Если власть законодательная и исполнительная будет соединена в одном лице или учреждении, то свободы не будет, так как можно опасаться, что этот монарх или сенат станет создавать тиранические законы для того, чтобы так же тиранически их применять». Какой принцип правового государства выдвинул философ? Опираясь на обществоведческие знания, приведите любые другие два принципа правового государства.

41. Английский социолог Энтони Гидденс это явление определяет как процесс обучения и воспитания, в ходе которого беспомощный младенец постепенно превращается в обладающее самосознанием разумное существо, понимающее суть культуры, в которой он родился. Назовите социальное явление, смысл которого раскрыл Э. Гидденс. Укажите любые два субъекта, оказывающих наибольшее влияние на этот процесс и влияние одного из них проиллюстрируйте примером.

42. Руководство фирмы по изготовлению фейерверков решило расширить производство в связи с приближением праздников. В краткосрочной перспективе были рассчитаны следующие издержки: закупка материалов, привлечение рабочих на сдельную оплату труда, закупка оборотной бумаги и другие.

Как называется этот вид издержек? Какие ещё издержки этого вида Вы можете назвать? Приведите два примера. Какие решения должно принять руководство для интенсификации производства? Приведите два возможных решения.

43. К какой форме культуры можно отнести балет? Назовите любые три отличительных признака балета, по которым вы это определили.

44. 17-летний Антон был принят на работу по трудовому договору после медицинского освидетельствования без испытательного срока на следующих условиях: рабочий день — с 16.00 до 23.00; продолжительность ежегодного основного оплачиваемого отпуска составляет 31 календарный день, отпуск можно использовать только по истечении шести месяцев непрерывной работы; выплата заработной платы пропорционально отработанному времени; в случае необходимости возможна служебная командировка.

Какие три нарушения были допущены работодателем при составлении трудового договора? Приведите свои объяснения по каждому из нарушений.

45. В лекции политолога была высказана мысль о том, что политические партии выступают связующим звеном между гражданским обществом и государством. Приведите три аргумента в поддержку данного мнения.


46. В стране X в течение последних пяти лет происходит спад производства, растёт процент трудоспособных граждан, которые вынуждены встать на учёт на биржу труда независимо от квалификации и специализации. Какое социально-экономическое явление иллюстрирует этот пример? Какой вид данного явления иллюстрирует данная ситуация? Используя обществоведческие знания, назовите три любых последствия данного явления.

47. Индийский эксперт по проблемам нищеты и голода Амартия Сен, бывший ранее профессором Гарвардского университета, стал лауреатом Нобелевской премии в области экономики за вклад в развитие экономической теории благосостояния. Учёный изучал распределение ресурсов в обществе. Какую функцию науки иллюстрирует его деятельность? Назовите любые иные две функции науки и проиллюстрируйте каждую из них примером.

48. В стране Z депутаты парламента, избирающиеся только по спискам политических партий, большинством голосов избирают президента страны и утверждают состав кабинета министров.

Укажите тип избирательной системы и форму правления в стране Z.

Приведите любые три признака данной избирательной системы помимо указанного в задании.



49. Водитель дальних рейсов Петров, направленный в служебный рейс, на обратном пути решил навестить своих родственников, для чего отклонился от предписанного маршрута на 150 км. К месту постоянной работы Петров вернулся с опозданием на 5 часов. Директор автотранспортного предприятия издал приказ о взыскании с Петрова стоимости излишне потраченного топлива.

Нормами какой отрасли права регулируется описанная ситуация?

К какому виду юридической ответственности, помимо материальной, может быть привлечён Петров?

Какие взыскания, помимо возмещения причинённого вреда, могут быть применены к Петрову?

50. В стране X каждые шесть лет происходят выборы в Законодательное собрание, каждые семь лет — выборы главы государства. Основу экономики составляет промышленность, зарождается массовая культура. К какому типу относится общество страны Z? Укажите два признака, по которым Вы это определили. Назовите любые два признака особенностей экономической сферы общества данного типа, о которых не сказано в условии задачи. Назовите любые два признака особенностей социальной сферы общества данного типа, о которых не сказано в условии задачи.