

«РИТМ»

Р – решаем

И – играем

Т – творчески

М – мыслим

*Шут затеи и задачи,
Игры, шутки, всё для
вас!*

*Пожелаем всем удачи –
За работу, в добрый час!*

С математикой дружи
Задачи трудные реши.

Жюри вам не помеха
Добьётесь вы успеха.



**Чтоб всё в игре «РИТМ»
Прошло без заминки,
Его мы начинаем...
Ну, конечно, с разминки!**



Конкурс «Разминка»

1. Название этой старинной единицы длины послужило именем сказочной героини.

- Что это за единица длины?
- Кто эта героиня?

Дюйм. Дюймовочка






**2. СКОЛЬКО
ХВОСТОВ У
СЕМИ КОТОВ?**

7

3. Сколько ушей у десяти
мышей?



20

4. Один ослик нёс 100 кг сахара, а другой 100 кг ваты.
У кого ноша тяжелее?

Одинаковая





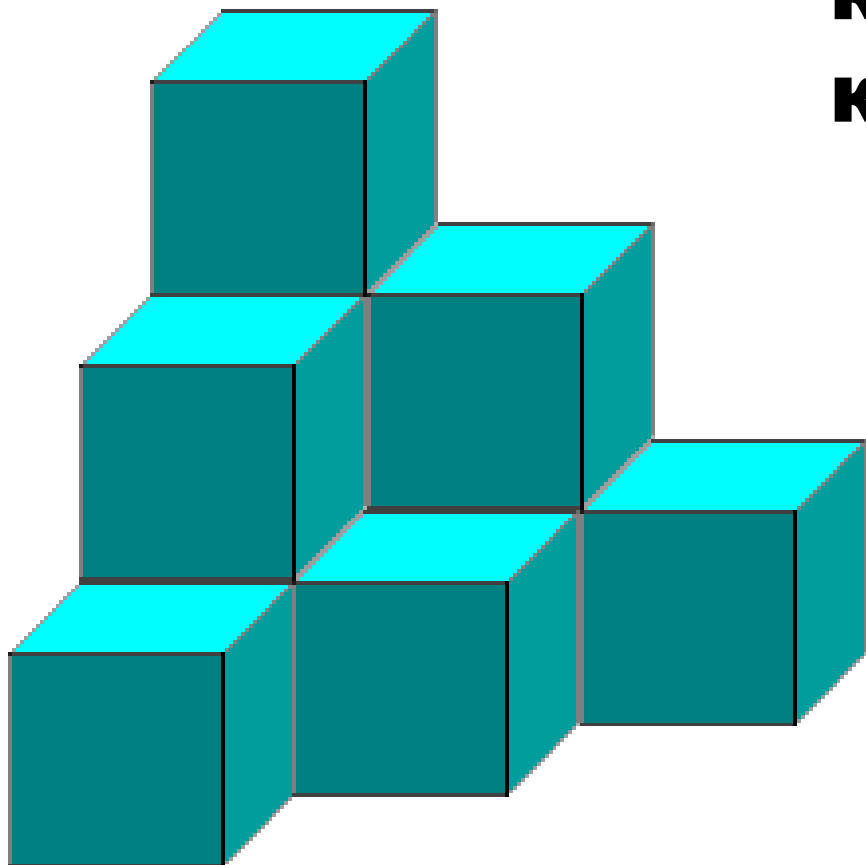
5. Шла Маша в город, а навстречу ей три старушки, у каждой по два мешка, в каждом мешке по кошке. Сколько всего человек шло в город?



6. Назвать следующее число

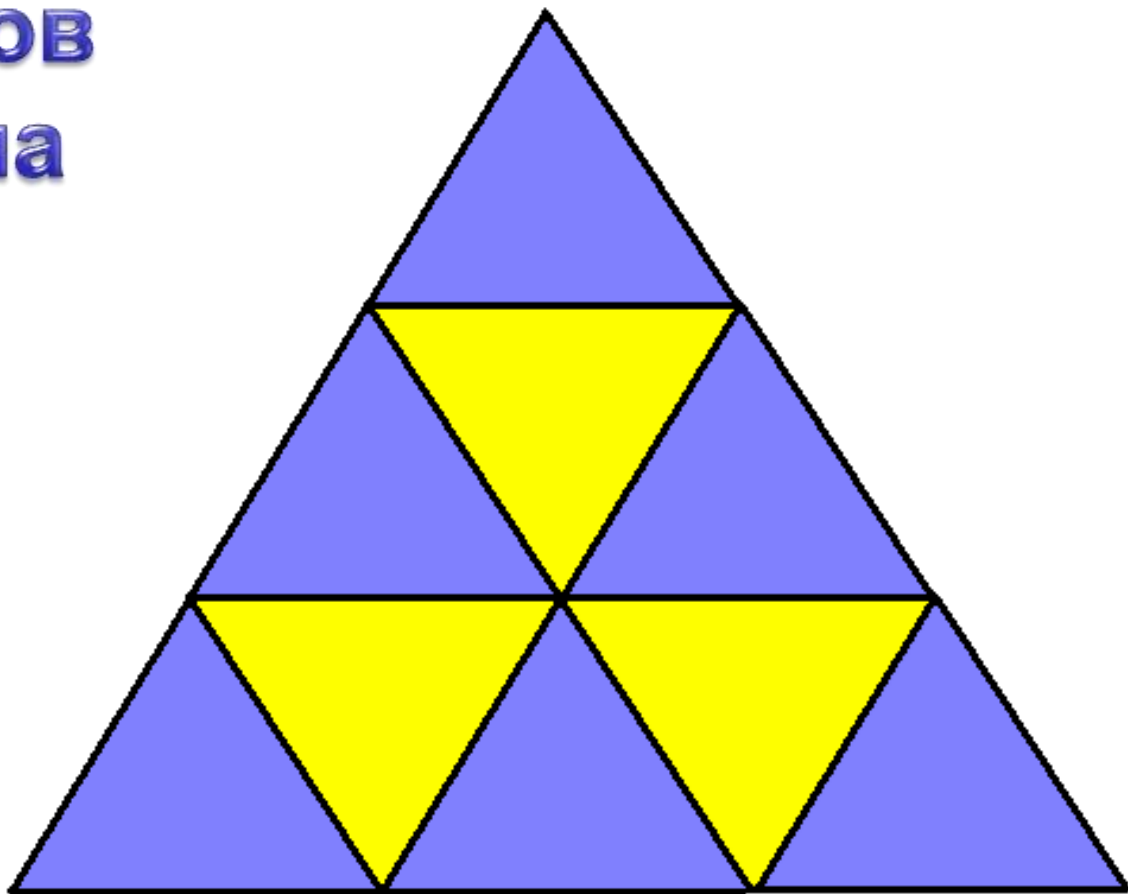
1; 6; 11; 16;
~~21~~ 21

**7. Сколько
кубиков в этой
конструкции?**



10

**8. Сколько
треугольников
вы видите на
рисунке?**



13

Конкурс: «Самый внимательный»

Какие
геометрические
фигуры использовал
художник для
изображения клоуна
и сколько?

Ответ:

круги – 8 шт.

прямоугольные треугольники – 6 шт.

равнобедренные треугольники – 4 шт.

прямоугольники – 1 шт.

четырёхугольники – 2 шт.

прямые – 1 шт.



Конкурс «РЕБУСЫ»

100ЛБ

ПО 2 Л

С 3 Ж

40 A

CMOP 1 A

СВИ 100 К

Физминутка



Конкурс «ШИФРОВКА»

Используя шифр, быстро найди слова, спрятанные
за этими цифрами .

Шифр:

А	В	Е	И	К	Л	М	Н	О	Р	Т	Я
1	2	3	4	5	6	7	8	9	10	11	12


5 10 4 2 1 12
6 9 7 1 8 1 12
5 4 6 9 7 3 11 10

ТЕСТ НА ВНИМАНИЕ

Какой фигуры нет на рисунке?

Выбор лучшего из лучших геометров

- а) круга;
- б) квадрата;
- в) прямоугольника;
- г) треугольника;
- д) все перечисленные фигуры есть.



Подведём итоги!!!



**Кто же набрал
больше всего
баллов?**

ДО НОВЫХ
ВСТРЕЧ!

