


Веселая математика!



Математическая игра



Математика выявляет
порядок, симметрию и
определённость, а это –
важнейшие виды
прекрасного

(Аристотель)






РАЗМИНКА



Выбери задание



<u>10</u>	<u>7</u>	<u>14</u>	
	<u>1</u>	<u>18</u>	<u>9</u>
<u>16</u>	<u>4</u>	<u>6</u>	<u>11</u>
<u>19</u>		<u>12</u>	<u>3</u>
<u>15</u>	<u>2</u>	<u>17</u>	
	<u>8</u>	<u>13</u>	<u>5</u>

№1 У щенят и утят вместе 44 ноги и 17 голов. Сколько щенят и сколько утят?






№2. Масса кувшина с соком 5 кг, без сока – 1 кг. Какова масса кувшина, наполненного соком наполовину?



№3 Сколько на рисунке прямоугольников?



№4 Сейчас 6 часов вечера.
Какая часть суток прошла?



№5 У семи братьев по одной сестре. Сколько всего детей?



- №6 Зайцы пилят бревно. Они сделали 12 распилов. Сколько получилось чурбаков?




- №7 Что легче: килограмм пуха или килограмм железа?



- №8 На берёзе 16 сучков, на каждом сучке по 10 веток, на каждой ветке по 4 яблока. Сколько яблок всего?




№9 На столе лежат 3 спички,
добавьте к ним еще 2 так, чтобы
получилось восемь. Разумеется,
ломать спички нельзя.



№10 Какими должны быть два
следующих числа в
последовательности:

10, 8, 11, 9, 12, 10, 13,...




№11 Делится ли число

11 · 21 · 31 · 41 · 51 - 1


на 10?



№12 Найти среднее
арифметическое для чисел
15, 10 и 35



№13 Пара лошадей пробежала 40 км. Сколько километров пробежала каждая лошадь?



➤ №14 Сколько месяцев в году содержат 30 дней?



№15 Петух, стоя на одной ноге
весит 3 кг. Сколько он весит
стоя на двух ногах?




№16 Пешеход идет 2 ч. со скоростью 4 км/ч.
Сколько километров он прошел?



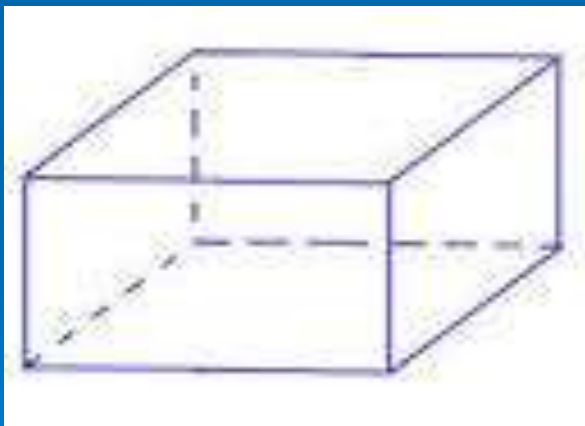
№17 Поздравляем удачников!
Вы получаете 2 балла.



- №18 На руках 10 пальцев.
Сколько пальцев на 10 руках?



№19 Сколько ребер у параллелепипеда?




Математическая пауза

- Запиши дату дня своего рождения.
- Записанное число удвой.
- Новый результат умножь на 10.
- К полученному произведению прибавь 73.
- Всю эту сумму умножь на 5.
- К произведению прибавь номер месяца своего рождения и результат сообщи ведущему.



Любопытная пауза 1

- Древнегреческий философ- идеалист Платон (427-347) справедливо считал, что математику должен знать каждый, кто хочет заниматься философией. При входе в его академию он сделал надпись: «Не знающий геометрии, сюда да не входит!»





Любопытная пауза 2

- Именем известной вычислительницы француженки Гортензии Лекот (1723-1788) назван цветок гортензия, привезённый ею из Индии.



Любопытная пауза 3

- Впервые математическую теорию музыки открыл Пифагор.



Физкультминутка

Гимнастика для глаз

Каждое упражнение выполнять 6 – 8 раз.

- Движение глаз по горизонтальной линии вправо-влево.
- Движение глаз по вертикальной линии вверх-вниз.
- Круговые движения открытыми глазами по часовой и против часовой стрелке.

Упражнения для шейного отдела позвоночника

Каждое упражнение выполнять 6 – 8 раз.

- «Черепашка»: наклоны головы вперед-назад.
- Наклоны головы вправо-влево.





Спасибо за игру.
МОЛОДЦЬ!!!

